


 IN ANY EMERGENCY
DIAL
100
 TELANGANA POLICE
www.tspolice.gov.in
 @Telangana State Police



तेलंगाना शासनाचे प्रकाशन, हैद्राबाद


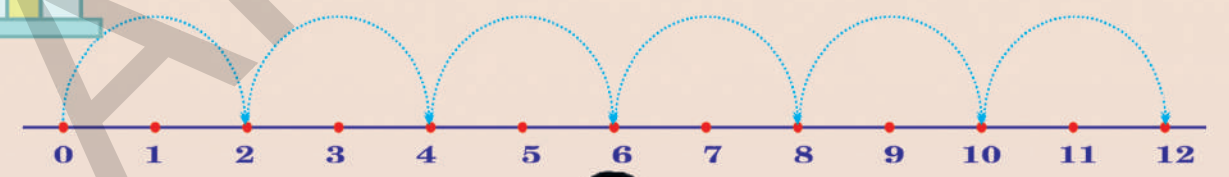
तेलंगाना शासनाचे मोफत वितरण

गणित

FREE

इयत्ता २ री

MATHEMATICS CLASS II (MARATHI)



तेलंगाना शासनामार्फत मोफत वाटप 2018-19

तेलंगाना शासनाद्वारे प्रकाशित
हैद्राबाद

तेलंगाना शासनाचे मोफत वितरण

अपेक्षित शैक्षणिक क्षमता

विद्यार्थी श्रवण (प्रशिक्षण)



गणित वर्ग २ री

एकम, दहम च्या समुहांचा वापर करुन ९९ पर्यंतच्या संख्या लिहु आणि वाचा.

अप्रमाणित एकके वापरुन लांबीचे अंतर वजन आणि क्षमता मोजुन अंदाज आणि पृष्ठी करतो.

दैनिक जिवनात दोन अंकी संख्यांची बेरीज आणि वजाबाकी करु शकतो (स्थानाची अदलाबदल करुन किंवा न करता)

विविध वस्तु , आकार आणि संख्यांना वापरुन त्यांच्या वाढवु शकतो नमुन्याला.

३डी आणि २ डी आकाराचे मुलभुत वैशिष्ट्याचे दैनिक जिवनात निरिक्षण करुन ओळखु शकतो.

माहिती गोळा करणे माहिती तक्त्यात दाखवतो आणि परस्पर संबंध काढतो.



पारंपारिक विद्यालय, तेलंगणा प्रभुत्व



एन सी ई आर टी NCERT



55 + 5

60

Government of Telangana
Department of Women Development & Child Welfare - Childline Foundation

When abused in or out of school.

To save the children from dangers and problems.

When the children are denied school and compelled to work.

When the family members or relatives misbehave.

CHILD LINE 1098
NIGHT & DAY
24 HOUR NATIONAL HELPLINE

1098 (Ten...Nine...Eight) dial to free service facility.

गणित

इयत्ता 2 री

MATHEMATICS

CLASS II
(MARATHI MEDIUM)



तेलंगाना शासनाचे प्रकाशन, हैद्राबाद

कायदाचा आदर करा
हक्क मिळवा

शिक्षणाद्वारे प्रगती करा
वर्तणूक नम्र ठेवा



© Government of Telangana, Hyderabad.

First Published 2012
New Impressions 2014, 2015, 2016, 2017, 2018, 2019, 2020

All rights reserved.

No part of this publication may be reproduced, stored in a retrieval system, or transmitted, in any form or by any means without the prior permission in writing of the publisher, nor be otherwise circulated in any form of binding or cover other than that in which it is published and without a similar condition including this condition being imposed on the subsequent purchaser.

The copy right holder of this book is the Director of School Education, Hyderabad, Telangana. We have used some photographs which are under creative common licence. They are acknowledged at later (page vii).

This Book has been printed on 70 G.S.M. Maplitho,
Title Page 200 G.S.M. White Art Card

తెలంగానా శాసనావ్దారే మోఫత వితరణ 2020-21

Printed in India
at the Telangana Govt. Text Book Press,
Mint Compound, Hyderabad,
Telangana.

पाठ्यपुस्तक विकास आणि प्रकाशन मंडळ

मुख्य निर्वाहन अधिकारी

: श्रीमती. बी. शेशुकुमारी

संचालक, राज्य विद्या संशोधन शिक्षण संस्था, हैद्राबाद

मुख्य व्यवहार निर्वाहक

: श्री. आर. जेसुपादम

संचालक, शासकीय पाठ्यपुस्तक मुद्रणालय, हैद्राबाद

निर्वाहन अधिकारी

: डॉ. एन. उपेंद्र रेड्डी

प्रोफेसर, पाठ्य प्रणालीका आणि पुस्तकविभाग

राज्य विद्या संशोधन शिक्षण संस्था, हैद्राबाद

लेखक

श्री. जे. गुरवैय्या, MRP, पुत्तूर मंडळ, चित्तूर जिल्हा

श्री. पी. रमेश, शिक्षक, एम.पी.पी.एस. एम.एम.पुरम, वेदूरुकूपम मंडळ, चित्तूर जिल्हा

श्री, टी, लक्ष्मणकुमार, शिक्षक, एम.पी.पी.एस. गोनूगीरी, कुप्पम मंडळ चित्तूर जिल्हा

श्री, सी, एच. केशव, एम.आर.पी. मेरयालगुडा मंडळ, नलगोंडा जिल्हा

श्री. के. व्ही. श्यामसुंदरचार्यूलू, शिक्षक, एस.पी.एस., कोटापल्ली, वर्धनापेटा मंडळ, वरंगल जिल्हा

श्री. वाय. वेंकट रेड्डी, शिक्षक आणि S.R.G. सदस्य, ZPHS, कुडाकुडा, नलगोंडा जिल्हा

श्री. के. राजेंद्र रेड्डी, शिक्षक आणि S.R.G. सदस्य, U.P.S., तिम्मापूर, चंदमपेट मंडळ, नलगोंडा जिल्हा

समन्वयकर्ता

श्री. के. ब्रम्हैय्या, प्रोफेसर, राज्य विद्या संशोधन संस्था, आं.प्र., हैद्राबाद

श्री. क. यादगिरी, प्राध्यापक, सहाय्यक निर्वाहन अधिकारी, राज्य विद्या संशोधन संस्था, हैद्राबाद

संपादक

श्री, के. के. व्ही, रायलू, प्राध्यापक, IASE, आं.प्र. हैद्राबाद

डॉ. पी. रमेश, प्राध्यापक, IASE, नेल्लोर

डॉ. एस. सुरेश बाबू, AMO, राजीव विद्या मिशन (SSA), आं.प्र. हैद्राबाद

श्री. बी. हरीसर्वोत्तम राव, प्राध्यापक (सेवानिवृत्त), राज्य विद्या संशोधन संस्था, हैद्राबाद

मराठी अनुवादक

श्रीमती. एम. सुजाता, एम.एस.सी.बी.एड, व्ही.डी.पी.हायस्कूल, शाह अली बंडा, हैद्राबाद

श्रीमती. जी. सीमा, बी.ए.डी.एड, व्ही.डी.पी.हायस्कूल, शाह अली बंडा, हैद्राबाद

मराठी डी.टी.पी.

राजेश दानका : संगणक चालक आदिलाबाद

पुढील भागाकडे

शालेय शिक्षणामध्ये I आणि II चा वर्ग अत्यंत महत्वाचा आहे. त्यालाच आपण पाया समजतो. विद्यार्थ्यांचे उच्च वर्गातील शिक्षण हे त्याच्या प्राथमिक स्तरावर शिकलेल्या भाषेचे कौशल्य आणि गणिताच्या शिकण्यावर अवलंबून असते शाळेत येण्याआधी थोड्या प्रमाणात विद्यार्थ्यांना गणिताची कल्पना असते. त्याच कल्पनांच्या आधारावर ते गणित शिकतात.

जिवनाच्या प्रत्येक स्थितीमध्ये विद्यार्थी गणिताचा उपयोग करत असतात. गणित शिकण्यासाठी त्यांचे शिकणे आणि सुरुवात हा दृष्टीकोन ध्यानात घेऊन हे पुस्तक तयार करण्यात आलेले आहे.

राष्ट्रीय अभ्यासक्रम चौकटकार्य 2005 आणि शिक्षणाचा हक्क 2009 ह्यांच्या मूलभूत तत्वांच्या आधारे हे पुस्तक अशा प्रकारे तयार करण्यात आलेले आहे की चौकशी आणि निरीक्षणाद्वारे विद्यार्थी गणिताचे ज्ञान प्राप्त करू शकतील. 'कृती' आणि 'प्रश्नसंग्रहांचा' ह्या पुस्तकामध्ये अशाप्रकारे समावेश करण्यात आलेला आहे की त्याद्वारे विद्यार्थ्यांना गणिताची कल्पना येईल आणि ते त्यांच्या ज्ञानाचा उपयोग करतील. ह्या पुस्तकातील प्रत्येक घटकाची सुरुवात विद्यार्थ्यांच्या जीवनामधील प्रत्येक क्षण, त्यांचा खेळ इ लक्षात घेऊन गणितीय संकल्पनांचा समावेश करण्यात आलेला आहे. गणिताची कल्पना समजणे, उदाहरणे योग्यरितीने सोडविणे, तर्कदृष्टीने विचार करणे, गणितीय भाषेमध्ये युक्तींना व्यक्त करणे इ. कौशल्य विद्यार्थी ह्या पुस्तकातील कृती आणि प्रश्नसंग्रहाद्वारे प्राप्त करू शकतील. गणिताची संकल्पना योग्यरितीने समजण्यासाठी निरनिराळ्या परिस्थितीची आणि कृतींची चित्रे ह्या पुस्तकामध्ये मोठ्या प्रमाणावर आहेत.

गणित शिकणे हा प्रत्येक विद्यार्थ्यांचा हक्क आहे. ह्या पुस्तकाचा उपयोग करून विद्यार्थी संख्या आणि चार मूलभूत क्रियांचे ज्ञान प्राप्त करू शकतील त्यामूळे विद्यार्थीमध्ये गणिताची आवड निर्माण होईल आणि ते गणित उत्साहाने शिकतील. आवश्यक असलेले शैक्षणिक साहित्य तयार करून आणि विद्यार्थ्यांच्या शिकण्याच्या वेळेचा योग्य उपयोग यांची खात्री करून शिकविणे-शिकणे ह्या कृती कराव्यात. नवीन पद्धतीनुसार हे पुस्तक तयार करण्यात आलेले आहे. सर्व शिक्षक ह्याची अंमलबजावणी करतील अशी आम्ही आशा करतो. I ली आणि II च्या वर्गासाठी जे गणितीय कौशल्य तयार करण्यात आलेले आहे ते विद्यार्थी प्राप्त करतील ह्याची आम्हाला खात्री आहे.

31-03-2011

हैद्राबाद

श्रीमती बी. शेशुकुमारी

डायरेक्टर

SCERT, तेलंगाना, हैद्राबाद

शिक्षकांना सुचना

- ◆ I आणि II च्या वर्गाचे गणिताचे पुस्तक हे NCF 2005 च्या मूलभूत तत्वानुसार आणि RTE 2009 च्या मार्गदर्शानुसार तयार करण्यात आलेले आहे.
- ◆ विद्यार्थ्यांनी उत्साहाने गणित शिकावे असे घटक तयार करण्यात आलेले आहे.
- ◆ प्रत्येक घटकामध्ये विद्यार्थ्यांना माहित असलेल्या गणिताच्या संकल्पनेचा सामावेश करण्यात आलेला आहे आणि योग्य प्रश्नसंग्रहाद्वारे नवीन संकल्पनांचा समावेश करण्यात आलेला आहे.
- ◆ दैनंदिन जिवनाद्वारे/अर्थपूर्ण परीस्थितीद्वारे मूलांना संकल्पनाची ओळख प्राप्त व्हावी असे प्रश्नसंग्रह तयार करण्यात आलेले आहे. अशा प्रश्नसंग्रहामुळे विद्यार्थी तर्कदृष्ट्या विचार करणे, आपल्या युक्तींना गणितीय भाषेत व्यक्त करून उदाहरणे सोडवू शकतील.
- ◆ प्रश्नसंग्रह आणि कृतीची योग्य योजना आखून I च्या वर्गाचा शेवट करण्यात आलेला आहे. I च्या वर्गात विद्यार्थ्यांना संख्याची संकल्पना समजेल, बेरीज आणि वजाबाकी ते करू शकतील. II री वर्गाच्या शेवटी विद्यार्थ्यांना गट तयार करून बेरीज करणे, हातचेच्या तंत्रज्ञानाचा वापर करून वजाबाकी करणे, गुणाकारची आणि भागाकारची मूलभूत संकल्पना माहित होणे इ विद्यार्थ्यांना समजेल.
- ◆ प्रत्येक घटकाच्या सुरुवातीला विद्यार्थ्यांना चित्रांचे निरीक्षण करण्यास सांगितलेले आहे. त्यांच्या मागील गणिताच्या संकल्पनेच्या ज्ञानानुसार त्यांना प्रश्न विचारण्यात असलेले आहे. त्याद्वारेच प्रत्येक घटक तयार करण्यात आलेले आहे. वर्गामधील कृती करण्यासाठी. ह्या क्रियेमध्ये सहज मिळतील अशा वस्तूंचा जसे गोट्या, बिया काड्या, मण्या इ. चा उपयोग करण्यात आलेला आहे.
- ◆ पद्धतशरि मांडणी करून उदाहरणे सोडवणे, तर्कदृष्ट्या विचार करणे. ह्यासाठी गट तयार करून कृती करण्याचा सामावेश करण्यात आलेला आहे.
- ◆ अशाच प्रकारे विद्यार्थ्यांनी उदाहरणे सोडविण्याआधी त्यांना दिलेल्या उदाहरणांच्या सुचना समजण्यासाठी प्रोत्साहन द्या.
- ◆ पुस्तक अशा प्रकारे तयार करण्यात आलेले आहे की त्याद्वारे विद्यार्थ्यांना सखोल अभ्यास करणे, निरीक्षण करणे, संशोधन करणे, घेणे गणिताची संकल्पना समजणे उदाहरणे सोडविण्यासाठी त्यांच्या ज्ञानाचा उपयोग करणे इ. ची मदत होईल.
- ◆ विद्यार्थ्यांच्या दैनंदिन जिवनाच्या परीस्थितीच्या चित्रांचा सामावेश करण्यात आलेला आहे.
- ◆ दैनंदिन परीस्थितीच्या परीणामाला निरनिराळ्या प्रकारच्या खेळाद्वारे विद्यार्थी गणिताचा उपयोग करतील. ह्या पार्श्वभूमीवर आधारीत हे पुस्तक तयार करण्यात आले आहे ते संपूर्णरीत्या ह्या पुस्तकाचा उपयोग करतील आणि मूलांच्या शिकण्याच्या वेळेच्या उपयोगाची खात्री येईल.

अभ्यासक्रम - अपेक्षीत परिणाम

घटक - 1 : उजळणी -

- 1 ते 20 पर्यंतच्या संख्या
- निरनिराळ्या वस्तू जसे प्राणी, पक्षी, झाड ह्यांना मोजणे आणि त्यांना संख्यामध्ये लिहिणे.
- वस्तूंच्या आणि लोकांच्या संख्यांचा क्रम सांगणे आणि लिहिणे
- 20 पर्यंत दिलेल्या संख्यांच्या आधी, नंतर आणि मध्ये येणारी संख्या सांगणे.
- 20 पर्यंतच्या संख्यांना चढत्या आणि उतरत्या क्रमामध्ये लिहिणे आणि त्यांची जोडी लावणे

घटक - 2 : उजळणी - 2

- वस्तूंना दशम आणि एकम मध्ये मोजणे, त्या संख्यांमध्ये किती दशम आणि एकम आहेत ते सांगणे
- 100 पर्यंतच्या संख्यांना विस्तृत स्वरूपात लिहिणे
- 100 पर्यंतच्या संख्यांना चढत्या आणि उतरत्या क्रमामध्ये लिहिणे आणि त्याची जोडी लावणे.
- दिलेल्या संख्यांमधील लहान आणि मोठी संख्या ओळखा आणि लिहा.
- निश्चित उदाहरणे तोंडी सोडाविणे
- लहान आणि मोठ्या संख्यांमध्ये असलेले संबंध ओळखा.
- निश्चित अटींवर आधारित कोडे सोडवा (जास्त, कमी)

घटक - 3 आणि 4 : 3 अंकी संख्यांची तुलना

- 1000 पर्यंतच्या संख्यांचे शतम, दशम, एकम सांगा आणि मोजा आणि त्यांच्याखाली लिहा.
- संख्येतील अंकांची स्थानीक किंमत आणि मूळ किंमत सांगणे आणि लिहिणे.
- 3 अंकी संख्यांना विस्तृत स्वरूपात लिहिणे आणि दिलेल्या विस्तृत स्वरूपाला संख्यामध्ये लिहिणे
- दिलेल्या 3 अंकी संख्यामध्ये 100 रु, 10 रु आणि 1 रु किती आहेत ते सांगणे
- 1000 पेक्षा कमी असलेल्या संख्यांना योग्य क्रमामध्ये लिहिणे आणि त्यांना चढत्या आणि उतरत्या क्रमामध्ये लिहिणे
- 1000 पेक्षा कमी असलेल्या संख्यांच्या आधीचे, नंतरचे आणि मधील संख्या लिहिणे
- दिलेली संख्या (1000) शब्दामध्ये लिहिणे जर ती संख्या शब्दामध्ये दिलेली असल तर संख्यामध्ये लिहिणे.
- तिन अंकी संख्यापासून तयार झालेली संख्या आणि त्यामधील संख्या सांगणे.
- दोन संख्यांपेक्षा लहान असलेल्या संख्यांना दाखविण्यासाठी $>$ $<$ $=$ ह्या चिन्हाचा उपयोग करा.

घटक - 5 आणि 6 : संख्यांची बेरीज

- विस्तृत आणि संक्षिप्त स्वरूपातील दोन संख्यांची बेरीज
- 50 पेक्षा कमी असलेल्या संख्यांची बेरीज तोंडी सांगा.
- 'हातचा' पद्धतीचा उपयोग करून दोन संख्यांची बेरीज.

घटक - 7 आणि 8 : संख्यांची वजाबाकी

- विस्तृत आणि संक्षिप्त स्वरूपातील दोन संख्यांची वजाबाकी
- 50 पेक्षा कमी असलेल्या संख्यांची वजाबाकी तोंडी सांगणे
- 'हातचा' पद्धतीचा उपयोग करून दोन संख्यांची वजाबाकी

घटक - 9, 10 आणि 11 : गुणाकार

- गुणाकार म्हणजे समान संख्यांची क्रमीक बेरीज होय हे समजणे.
- स्तंभ आणि ओळीमधील संख्यांना संबंधीत असलेल्या संख्यांचा गुणाकार सांगणे
- क्रमीक पद्धतीच्या बेरजेच्या सहयोग 1 ते 9 पर्यंतचे पाढे लिहिणे.
- दोन अंकी संख्येला एक अंकी संख्येने गुणून गुणाकार लिहिणे.

घटक - 12 : भागाकार

- भागाकार आणि त्याचे चिन्ह ' \div ' ओळखणे.
- निश्चित संख्यांच्या वस्तूंना निश्चित लोकांमध्ये समान वाटणे.

घटक - 13 : लांबी

- परीमाण नसलेल्या उपकरणाच्या सहास्याने लांबी मोजणे.
- मोजण्याचे परिमाण असलेल्या उपकरणाचे किंमत ठरवणे.

घटक - 14 : वजन

- दिलेल्या वस्तूंमधील जड आणि हलक्या वस्तू ओळखणे

घटक - 15 : आकार मान/घनफळ

- दिलेल्या वस्तूंमधील जास्त आणि कमी आकार असलेल्या वस्तू ओळखणे.

घटक - 16 : वेळ

- दिवसा होत असलेल्या घटनांचे वर्णन करणे (सकाळ, दुपार इ.)
- दिवसांचे/महिन्यांचे नाव क्रमाने सांगा.

घटक - 17 : पैसे

- नोट/नाणी ओळखा
- 100 रुपये पेक्षा कमी असलेल्या नोटचे सुटे पैसे देणे.

घटक - 18 : आकार

- निरनिराळे गणितीय आणि गणितीय आकार नसलेले आकार ओळखणे दैनंदिन जीवनामधील गणितीय आकार असलेल्या वस्तूंची त्यांच्या आकाराबरोबर जोडी लावणे, त्यांची तूलना करणे आणि जोडी लावणे (चौरस, आयत त्रिकोण ह्यांचा उपयोग करू नका) वर्तुळ, चौरस, आयत, त्रिकोण इ. चे नाव लिहा.

घटक - 19 : नोंद करा

- तक्त्यामध्ये वस्तू मोजून त्यांची नोंद करा.

SCERT TELANGANA

आपले राष्ट्रगीत

- रविंद्रनाथ टागोर

जन गण मन अधिनायक जय हे
भारत भाग्य विधाता ।
पंजाब, सिंध, गुजरात, मराठा
द्राविड उत्कल बंग ॥
विंध्य हिमाचल यमुना, गंगा
उच्छल जलधितरंग ।
तव शुभ नामे जागे ।
तव शुभ आशिष मागे ।
गाहे तव जय गाथा
जन गण मंगलदायक जय हे
भारत भाग्य विधाता ।
जय हे, जय हे, जय हे
जय जय जय जय हे ।

प्रतिज्ञा

- पैडिमरी व्यंकटा सुब्बारावु

भारत माझा देश आहे. सारे भारतीय माझे बांधव आहेत. माझ्या देशावर माझे प्रेम आहे. माझ्या देशातल्या समृद्ध आणि विविधतेने नटलेल्या परंपरांचा मला अभिमान आहे. त्या परंपरांचा पाईक होण्याची पात्रता माझ्या अंगी यावी, म्हणून मी सदैव प्रयत्न करीन. मी माझ्या पालकांचा, गुरुजनांचा आणि वडीलधाऱ्या माणसांचा मान ठेवीन आणि प्रत्येकाशी सौजन्याने वागेन. प्राणी मात्रावर दया दाखविण.

माझा देश आणि माझे देशबांधव यांच्याशी निष्ठा राखण्याची मी प्रतिज्ञा करीत आहे. त्यांचे कल्याण आणि त्यांची समृद्धी ह्यांतच माझे सौख्य सामावले आहे.

अनुक्र मणिका

घट क	घटकाचे नाव	महिना	पृष्ठ क्र मांक
1.	1 ते 20 पर्यंतच्या संख्या	जुन	1
2.	10 ते 99 पर्यंतच्या संख्या	जुन	8
3.	तीन अंकी संख्या	जुलै	25
4.	तीन अंकी संख्यांची तूलना	जुलै	46
5.	संख्यांची बेरीज	ऑगस्ट	52
6.	संख्यांची बेरीज (हातचे देऊन)	ऑगस्ट	58
7.	वजाबाकी	सप्टेंबर	64
8.	संख्यांची वजाबाकी	सप्टेंबर	70
9.	संख्यांचे गुणाकार (I)	ऑक्टोबर	76
10.	पाढ्यांचा गुणाकार (1 ते 10)	नोव्हेंबर	84
11.	संख्यांचे गुणाकार (II)	नोव्हेंबर	90
12.	भागाकार एका संख्येचा दुसऱ्या संख्येनी	नोव्हेंबर	94
13.	वस्तूंची लांबी	डिसेंबर	100
14.	वस्तूंचे वजन	डिसेंबर	103
15.	द्रव पदार्थांचे मापन	डिसें/जाने	106
16.	वेळ	जानेवारी	110
17.	पैसा	फेब्रुवारी	114
18.	आकार	फेब्रुवारी	118
19.	नोंद करू या / उजळणी	मार्च	123

1 अंक 1 ते 20



1. खालील चित्र पाहून वेगवेगळ्या वस्तूंची गणना करून त्यांची संख्या लिहा.



1. तिथे किती झोपड्या आहेत ?
2. तिथे किती मुले आहेत ?
3. पामच्या झाडाजवळ किती गाई चरत आहेत ?
4. झाडावरती किती आंबे दिसत आहेत ?
5. झाडावरती किती पोपट आहेत ?
6. पोपट किंवा आंबे यांच्यापैकी कोणची संख्या जास्त आहे ?



विद्यार्थ्यांना वरील चित्राचे निरीक्षण करू द्या. प्रत्येक वर्गीकरणातील गोष्टी मोजावयास सांगा. रकान्यात योग्य ते क्रमांक लिहण्यास सांगा.

2. खाली दिलेले चित्र पहा. प्रत्येक प्रश्नासाठी विद्यार्थ्यांचे नाव लिहा.



- उदा: दुसरा विद्यार्थी काण आहे? जॉन
- तिसरा विद्यार्थी कोण आहे?
- पाचवा विद्यार्थी कोण आहे?
- बासा विद्यार्थीचा नंबर कोणता आहे?
- उमा विद्यार्थी कोण आहे?

3. खाली दिलेले चित्र पहा. दर्शविलेल्या विद्यार्थ्यांचा क्रमांक लिहा.



- उदा: सीता 1 ली गिरीचा क्रमांक कितवा?
- लताचा क्रमांक कितवा?
- हरीचा क्रमांक कितवा?
- उमाचा क्रमांक कितवा?
- रमाचा क्रमांक कितवा?
- शिवाचा क्रमांक कितवा?
- उषाचा क्रमांक कितवा?

विद्यार्थ्यांना चित्राचे निरीक्षण करूया. त्यांना कार्य समजण्यासाठी मदत करा आणि प्रत्येक प्रश्नाचे उत्तर द्या. क्रमांकाची ओळख निर्माण करून द्या.



4. चित्रे पाहून खालील प्रशांची उत्तरे लिहा. चौकटीत लिहा.



1. वरील चित्रांमध्ये प्राणी किती आहेत ?
2. तुम्हाला किती वाहने दिसत आहेत ?
3. कों बडी कोणत्या क्रमांकाच्या रकान्यात आहे ?
4. वरील पैकी किती वस्तु तुम्हाला शाळेत दिसतात ?
5. कंगवा व विल्ली यांच्यामध्ये किती चित्रे आहेत ?
6. पाटीच्या रकान्याच्या आधीच्या रकान्याचा क्रमांक कोणता ?
7. कुलुप कोणत्या दोन संख्यांच्या मध्ये आहे ?
8. माकडानंतरच्या रकान्याचा नंबर किती आहे ?
9. पुस्तक आणि सायकल याच्या मधील रकान्याचा नंबर काय ?

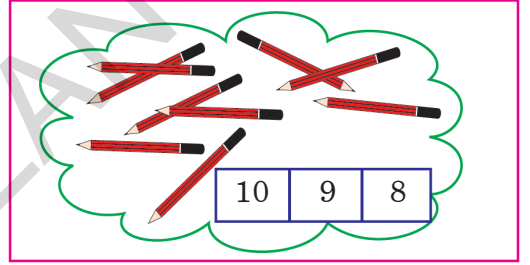
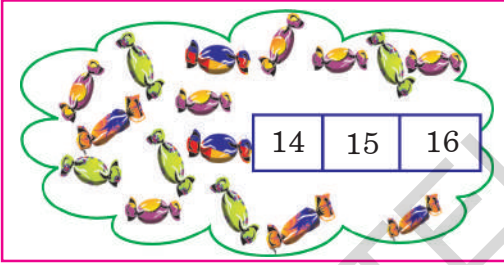

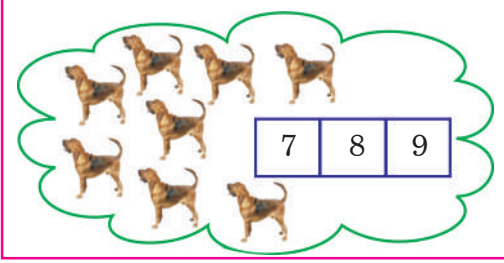
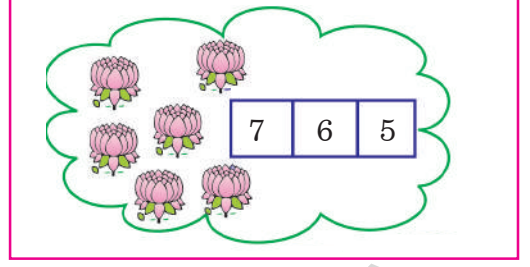



विद्यार्थ्यांना वरील चित्रांचे निरीक्षण करू द्या. संख्या क्रमवारेने कश्या पद्धतीने लिहतात याचे निरीक्षण करण्यासाठी त्यांना मदत करा. आधी, मध्ये आणि नंतर येणाऱ्या संख्यांची त्यांना ओळख करून, समजावून द्या.



1. चित्रे मोजा. उदाहरणात दाखविल्याप्रमाणे अचूक संख्येला गोल करा.

उदा:

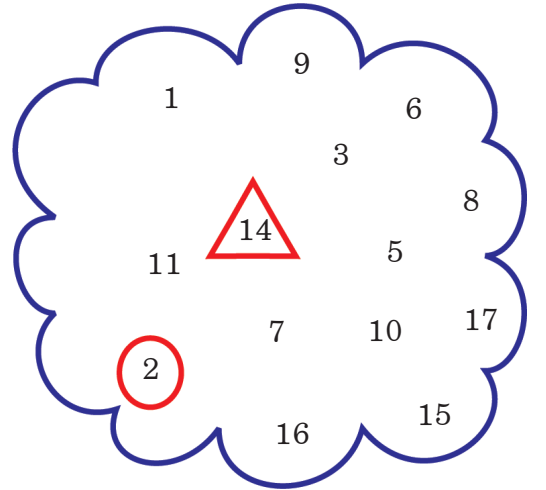


2. रकान्यांमध्ये लिहा.

अचूकसंख्या

1	2			5
6		8		
11				
16				20

3. 10 ते 20 मधील प्रत्येक संख्येच्या भोवती \triangle काढा. 10 पेक्षा लहान असणाऱ्या प्रत्येक संख्येभोवती \circ काढा.



विद्यार्थ्यांना संग्रहातील 1 ते 11 पर्यंतचे प्रश्न समजून सोडवू द्या.

4. आधी येणाऱ्या संख्या लिहा

	6	7
	9	10
	14	15
	18	19

5. मध्ये येणाऱ्या संख्या लिहा.

3		5
10		12
18		20
9		11

6. नंतर येणाऱ्या संख्या लिहा.

7	→	8	→	
10	→	11	→	
13	→	14	→	

7. आधी व नंतर येणाऱ्या संख्या लिहा.

	←	15	→	
	←	17	→	
	←	19	→	

8. उदाहरण पहा. मोठ्या संख्येला ○ करा.

उदा:

15	6
8	10
15	12

5	7
17	7
10	20



विद्यार्थ्यांना सूचना समजावून सांगा. प्रत्येक गणित त्यांना स्वतःला करू द्या.

9. दिलेल्या संख्येच्या संचाचे निरीक्षण करा. रकान्यात त्यांना दोन पद्धतीने लिहा एक - लहान संख्येकडून मोठ्या संख्येकडे आणि दुसरा: मोठ्या संख्येकडून लहान संख्येकडे.

उदा: 5, 3, 6, 4, 11

लहान्याकडून मोठ्याकडे :

मोठ्याकडून लहानकडे :

अ) 15, 3, 12, 16, 5, 18

लहान संख्येकडून मोठ्या संख्येकडे

मोठ्या संख्येकडून लहान संख्येकडे

इ) 12, 18, 10, 14, 19, 17

लहान संख्येकडून मोठ्या संख्येकडे

मोठ्या संख्येकडून लहान संख्येकडे

आ) 6, 0, 8, 3, 5, 2

लहान संख्येकडून मोठ्या संख्येकडे

मोठ्या संख्येकडून लहान संख्येकडे

ई) 2, 17, 13, 14, 8, 5

लहान संख्येकडून मोठ्या संख्येकडे

मोठ्या संख्येकडून लहान संख्येकडे

10. दिलेल्या संख्या संचाचे निरीक्षण करा. लहान व मोठ्या संख्या लिहा. उदाहरण पहा.

उदा: →

मोठी संख्या

लहान संख्या

अ) →

आ) →

इ) →



विद्यार्थ्यांना सूचना समजावून सांगा. प्रत्येक गणित त्यांना स्वतःला करू द्या.

11. मूलाला इमारतीचा रस्ता दाखवा. संख्या योग्य पद्धतीने जोडा.



विद्यार्थ्यांना सूचना समजावून सांगा. प्रत्येक कृती/उदाहरण त्यांना स्वतःला करू द्या.

2 10 ते 99 पर्यंतच्या संख्या



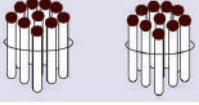
1. काड्यांचे गट्टे व खुल्या काड्या मोजा. 10 ते 20 पर्यंतच्या संख्या लिहा.

	$10 + 1 = 11$
	$10 + 2 = 12$
	$10 + \square = 13$
	$\square + 4 = 14$
	$\square + \square = 15$
	$\square + \square = \square$
	$\square + \square = \square$
	$\square + \square = \square$
	$\square + \square = \square$
	$\square + \square = \square$
	$10 + 10 = 20$

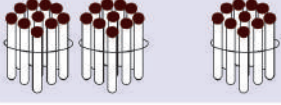


विद्यार्थ्यांना दशम् व एकम् मोजू द्या. त्यांना योग्य संख्या रकान्यात लिहू द्या.

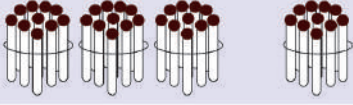
2. काडयांचे गट्टे व खुला काड्या मोजा. योग्य संख्या रिकाम्या रकान्यांमध्ये लिहा.



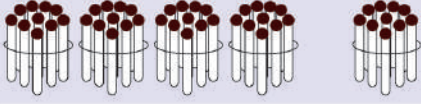
$$10 + \square = 20$$



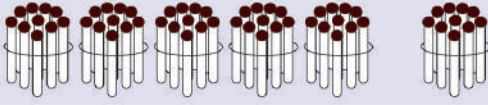
$$20 + \square = 30$$



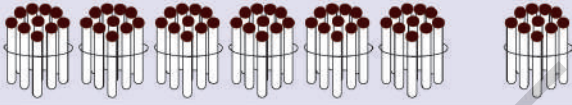
$$\square + 10 = 40$$



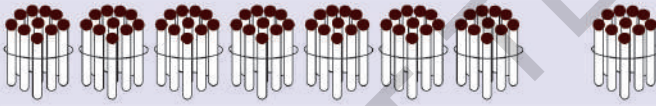
$$\square + \square = 50$$



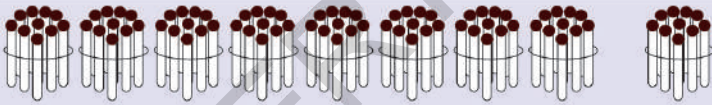
$$\square + \square = \square$$



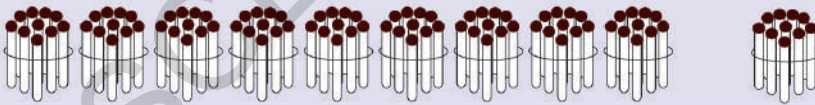
$$\square + \square = 70$$



$$\square + \square = \square$$



$$80 + \square = \square$$



$$90 + \square = ?$$

3. रिबीन पहा. प्रत्येक DOT (·) वरती योग्य संख्या लिहा.



विद्यार्थ्यांना दशम एकम मोजण्यास सांगून रिकाम्या रकान्यात योग्य संख्या लिहू द्या.

4. 21 ते 30 पर्यंतच्या संख्या



$$\boxed{20} + \boxed{1} = \boxed{21}$$

2 दशम + **1** एक म



$$\boxed{20} + \boxed{} = \boxed{22}$$

2 दशम + $\boxed{}$ एक म



$$\boxed{} + \boxed{3} = \boxed{23}$$

$\boxed{}$ दशम + **3** एक म



$$\boxed{} + \boxed{} = \boxed{24}$$

$\boxed{}$ दशम + $\boxed{}$ एक म



$$\boxed{} + \boxed{} = \boxed{25}$$

$\boxed{}$ दशम + $\boxed{}$ एक म



$$\boxed{} + \boxed{} = \boxed{}$$

$\boxed{}$ दशम + $\boxed{}$ एक म



$$\boxed{} + \boxed{} = \boxed{27}$$

2 दशम + **7** एक म



$$\boxed{} + \boxed{} = \boxed{}$$

$\boxed{}$ दशम + $\boxed{}$ एक म



$$\boxed{} + \boxed{9} = \boxed{29}$$

$\boxed{}$ दशम + **9** एक म



$$\boxed{} + \boxed{} = \boxed{}$$

2 दशम + **10** एक म



$$\boxed{30} + \boxed{0} = \boxed{30}$$

3 दशम + **0** एक म



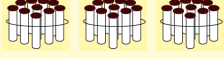
विद्यार्थ्यांना दशम् व एकम् मोजण्यास सांगून रिकाम्या रकान्यात योग्य संख्या लिहू द्या.

5. 31 ते 40 पर्यंतच्या संख्या



$$30 + 1 = 31$$

3 दशम + 1 एक म



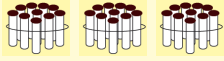
$$30 + 2 = 32$$

3 दशम + 2 एक म



$$\square + \square = \square$$

\square दशम + \square एक म



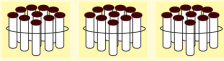
$$30 + 4 = 34$$

3 दशम + 4 एक म



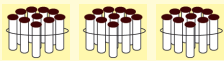
$$\square + \square = 35$$

\square दशम + 5 एक म



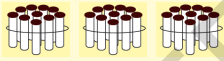
$$30 + \square = 36$$

3 दशम + \square एक म



$$\square + \square = 37$$

\square दशम + \square एक म



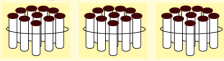
$$\square + \square = \square$$

\square दशम + \square एक म



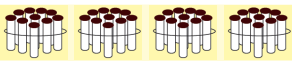
$$\square + \square = \square$$

\square दशम + \square एक म



$$\square + \square = \square$$

3 दशम + 10 एक म



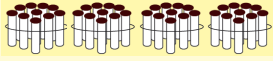
$$40 + 0 = 40$$

4 दशम + 0 एक म



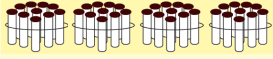
विद्यार्थ्यांना दशम् व एकम् मोजण्यास सांगून रिकाम्या रकान्यात योग्य संख्या लिहू द्या.

6. 41 ते 50 पर्यंतच्या संख्या



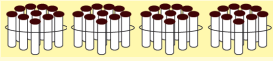
$$\boxed{40} + \boxed{1} = \boxed{41}$$

$\boxed{4}$ दशम + $\boxed{1}$ एकम



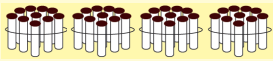
$$\boxed{} + \boxed{} = \boxed{}$$

$\boxed{}$ दशम + $\boxed{}$ एकम



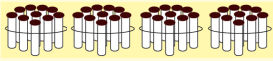
$$\boxed{} + \boxed{3} = \boxed{43}$$

$\boxed{}$ दशम + $\boxed{3}$ एकम



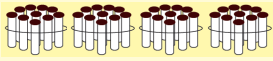
$$\boxed{} + \boxed{} = \boxed{}$$

$\boxed{}$ दशम + $\boxed{}$ एकम



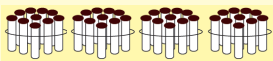
$$\boxed{40} + \boxed{} = \boxed{45}$$

$\boxed{4}$ दशम + $\boxed{}$ एकम



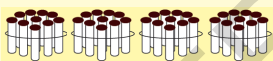
$$\boxed{} + \boxed{} = \boxed{}$$

$\boxed{}$ दशम + $\boxed{}$ एकम



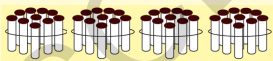
$$\boxed{} + \boxed{} = \boxed{}$$

$\boxed{}$ दशम + $\boxed{}$ एकम



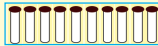
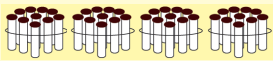
$$\boxed{} + \boxed{8} = \boxed{48}$$

$\boxed{}$ दशम + $\boxed{8}$ एकम



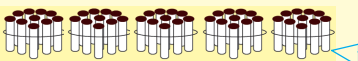
$$\boxed{} + \boxed{} = \boxed{}$$

$\boxed{}$ दशम + $\boxed{}$ एकम



$$\boxed{} + \boxed{} = \boxed{}$$

$\boxed{4}$ दशम + $\boxed{10}$ एकम



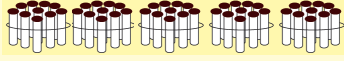
$$\boxed{50} + \boxed{0} = \boxed{50}$$

$\boxed{5}$ दशम + $\boxed{0}$ एकम



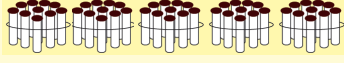
विद्यार्थ्यांना दशम् व एकम् मोजण्यास सांगून रिकाम्या रकान्यात योग्य संख्या लिहू द्या.

7. 51 ते 60 पर्यंतच्या संख्या



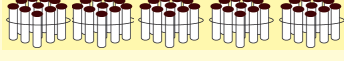
$$50 + 1 = 51$$

5 दशम + 1 एक म



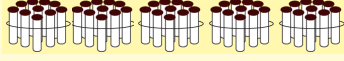
$$\square + \square = \square$$

\square दशम + \square एक म



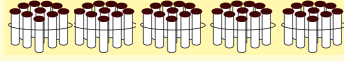
$$\square + \square = \square$$

\square दशम + \square एक म



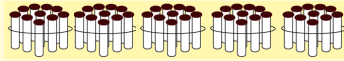
$$\square + \square = \square$$

\square दशम + \square एक म



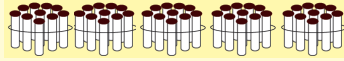
$$\square + \square = \square$$

\square दशम + \square एक म



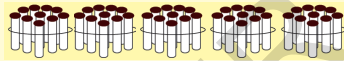
$$\square + \square = \square$$

\square दशम + \square एक म



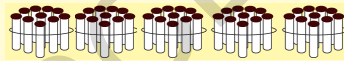
$$\square + \square = \square$$

\square दशम + \square एक म



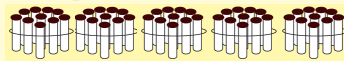
$$\square + \square = \square$$

\square दशम + \square एक म



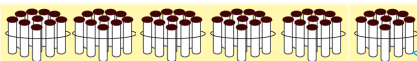
$$\square + \square = \square$$

\square दशम + \square एक म



$$\square + \square = \square$$

5 दशम + 10 एक म



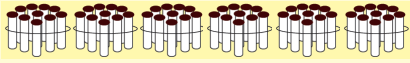
$$60 + 0 = 60$$

6 दशम + 0 एक म



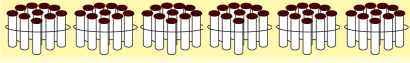
विद्यार्थ्यांना दशम् व एकम् मोजण्यास सांगून रिकाम्या रकान्यात योग्य संख्या लिहू द्या.

8. 61 ते 70 पर्यंतच्या संख्या



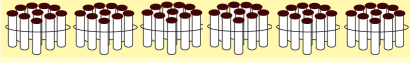
$$60 + 1 = 61$$

6 दशम + 1 एक म



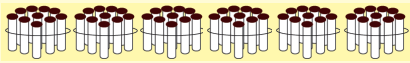
$$\square + \square = \square$$

\square दशम + \square एक म



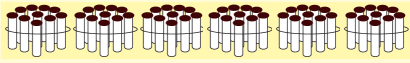
$$\square + \square = \square$$

\square दशम + \square एक म



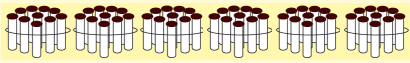
$$\square + \square = \square$$

\square दशम + \square एक म



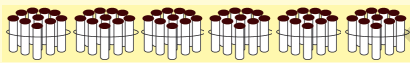
$$\square + \square = \square$$

\square दशम + \square एक म



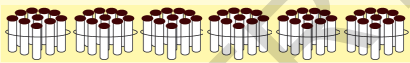
$$\square + \square = \square$$

\square दशम + \square एक म



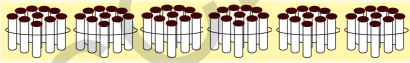
$$\square + \square = \square$$

\square दशम + \square एक म



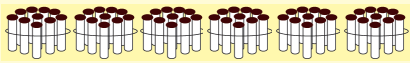
$$\square + \square = \square$$

\square दशम + \square एक म



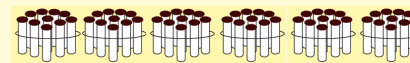
$$\square + \square = \square$$

\square दशम + \square एक म



$$\square + \square = \square$$

6 दशम + 10 एक म



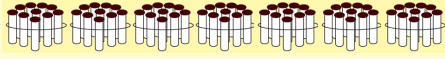
$$70 + 0 = 70$$

7 दशम + 0 एक म



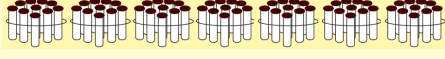
विद्यार्थ्यांना दशम् व एकम् मोजू द्या. योग्य संख्या रिकाम्या रकान्यात लिहू द्या.

9. 71 ते 80 पर्यंतच्या संख्या



$$\boxed{70} + \boxed{1} = \boxed{71}$$

$\boxed{7}$ दशम + $\boxed{1}$ एक म



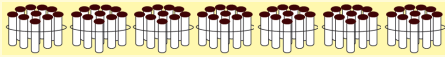
$$\boxed{} + \boxed{} = \boxed{}$$

$\boxed{}$ दशम + $\boxed{}$ एक म



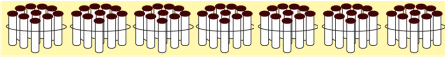
$$\boxed{} + \boxed{} = \boxed{}$$

$\boxed{}$ दशम + $\boxed{}$ एक म



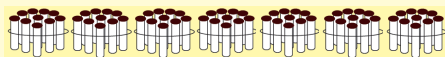
$$\boxed{} + \boxed{} = \boxed{}$$

$\boxed{}$ दशम + $\boxed{}$ एक म



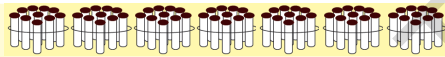
$$\boxed{} + \boxed{} = \boxed{}$$

$\boxed{}$ दशम + $\boxed{}$ एक म



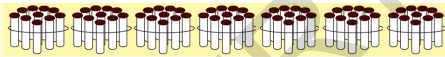
$$\boxed{} + \boxed{} = \boxed{}$$

$\boxed{}$ दशम + $\boxed{}$ एक म



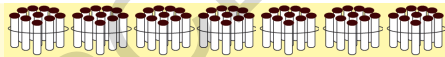
$$\boxed{} + \boxed{} = \boxed{}$$

$\boxed{}$ दशम + $\boxed{}$ एक म



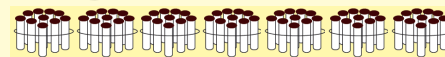
$$\boxed{} + \boxed{} = \boxed{}$$

$\boxed{}$ दशम + $\boxed{}$ एक म



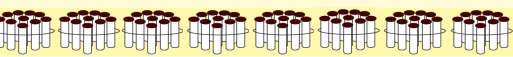
$$\boxed{} + \boxed{} = \boxed{}$$

$\boxed{}$ दशम + $\boxed{}$ एक म



$$\boxed{} + \boxed{} = \boxed{}$$

$\boxed{7}$ दशम + $\boxed{10}$ एक म



$$\boxed{80} + \boxed{0} = \boxed{80}$$

$\boxed{8}$ दशम + $\boxed{0}$ एक म



विद्यार्थ्यांना दशम् व एकम् मोजू द्या. योग्य संख्या रिकाम्या रकान्यात लिहू द्या.

10. 81 ते 90 पर्यंतच्या संख्या



$$\boxed{80} + \boxed{1} = \boxed{81}$$

$\boxed{8}$ दशम + $\boxed{1}$ एक म



$$\boxed{} + \boxed{} = \boxed{}$$

$\boxed{}$ दशम + $\boxed{}$ एक म



$$\boxed{} + \boxed{} = \boxed{}$$

$\boxed{}$ दशम + $\boxed{}$ एक म



$$\boxed{} + \boxed{} = \boxed{}$$

$\boxed{}$ दशम + $\boxed{}$ एक म



$$\boxed{} + \boxed{} = \boxed{}$$

$\boxed{}$ दशम + $\boxed{}$ एक म



$$\boxed{} + \boxed{} = \boxed{}$$

$\boxed{}$ दशम + $\boxed{}$ एक म



$$\boxed{} + \boxed{} = \boxed{}$$

$\boxed{}$ दशम + $\boxed{}$ एक म



$$\boxed{} + \boxed{} = \boxed{}$$

$\boxed{}$ दशम + $\boxed{}$ एक म



$$\boxed{} + \boxed{} = \boxed{}$$

$\boxed{}$ दशम + $\boxed{}$ एक म



$$\boxed{} + \boxed{} = \boxed{}$$

$\boxed{8}$ दशम + $\boxed{10}$ एक म



$$\boxed{90} + \boxed{0} = \boxed{90}$$

$\boxed{9}$ दशम + $\boxed{0}$ एक म



विद्यार्थ्यांना दशम् व एकम् मोजू द्या. योग्य संख्या रिकाम्या रकान्यात लिहू द्या.

11. 91 ते 100 पर्यंतच्या संख्या



$$90 + 1 = 91$$

9 दशम + 1 एकम



$$\square + \square = \square$$

\square दशम + \square एकम



$$\square + \square = \square$$

\square दशम + \square एकम



$$\square + \square = \square$$

\square दशम + \square एकम



$$\square + \square = \square$$

\square दशम + \square एकम



$$\square + \square = \square$$

\square दशम + \square एकम



$$\square + \square = \square$$

\square दशम + \square एकम



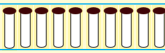
$$\square + \square = \square$$

\square दशम + \square एकम



$$\square + \square = \square$$

\square दशम + \square एकम



$$90 + 10 = ?$$

9 दशम + 10 एकम



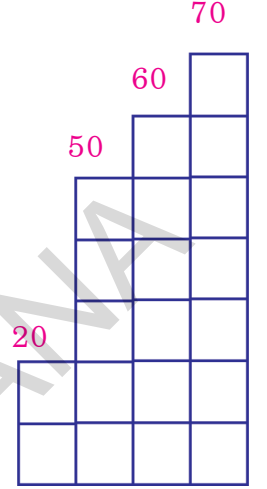
विद्यार्थ्यांना दशम् व एकम् मोजू द्या. योग्य संख्या रिकाम्या रकान्यात लिहू द्या.

12. संख्या चढत्या व उतरत्या क्रमाने कश्या लिहिल्या आहेत याचे निरीक्षण करा.

राधाने रवीला काही संख्या सांगितल्या त्या म्हणजे 20, 60, 50, आणि 70. तिने त्याला ह्या संख्या लहान संख्येकडून मोठ्या संख्याकडे लिहण्यास सांगितल्या.

रवीने खालीलप्रमाणे विचार केला.

सगळ्यात लहान	20, 60, 50, 70	20
सगळ्यात लहान	60, 50, 70	50
दोघापैकी लहान	60, 70	60
उरलेली लहान		70



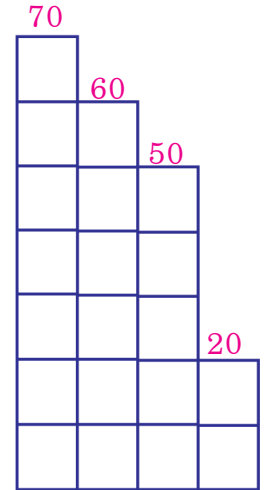
रवीने 20, 50, 60, 70 ह्याप्रमाणे संख्या लिहिल्या.

अशा पद्धतीने लहानसंख्येकडून मोठ्या संख्या लिहित जाण्याच्या पद्धतीला चढत्या क्रमाने संख्या लिहणे म्हणतात.

त्यानंतर राधाने रवीला त्याच संख्यांचे संच मोठ्या संख्येकडून लहान संख्येकडे लिहण्यास सांगितले.

रवीने खालील प्रमाणे लिहले

सर्वात मोठी	20, 60, 50, 70	70
सर्वात मोठी	20, 60, 50	60
दोघापैकी मोठी	20, 50	50
उरलेली संख्या		20



20, 60, 50, 70 ह्या संख्यांना मोठ्या संख्येकडून लहान संख्येकडे लिहले असता संख्या 70, 60, 50, 20 ह्याप्रमाणे येतील.

अश्या पद्धतीने मोठ्या संख्येकडून लहान संख्या लिहित जाण्याच्या पद्धतीला उतरत्या क्रमाने संख्या लिहणे म्हणतात.



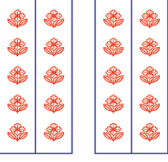
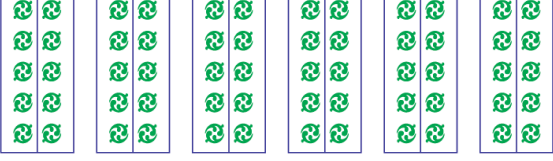
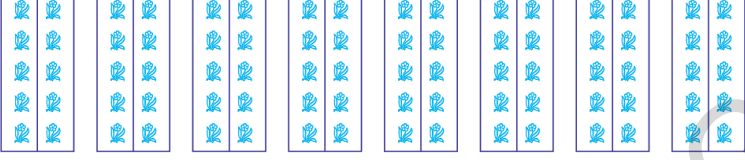
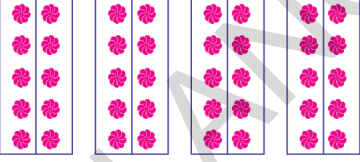
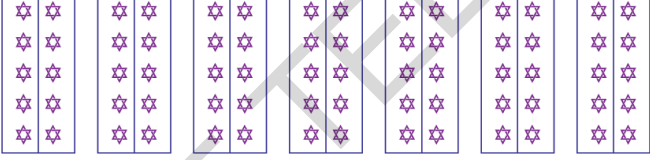

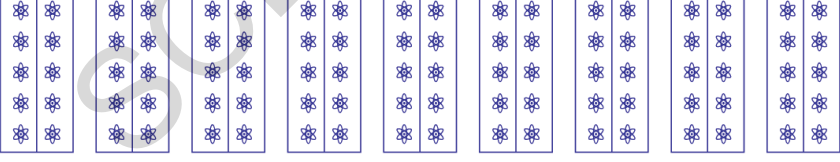
विद्यार्थ्यांना दिलेल्या संख्या दोन पद्धतीने लिहू द्या.



प्रश्नसंग्रह

1. चित्र व संख्या यांच्या योग्य जोड्या जुळवा. एक उदाहरण दिलेले आहे

उदाहरण

	30
	50
	20
	80
	70
	40
	60
	90



विद्यार्थ्यांना संग्रह 1 ते 15 साठी दिलेल्या सूचना समजावा. त्यांना स्वतःला करण्यासाठी मदत करा.

2. a) खालील संख्या पहा. त्यामध्ये किती दशम् आहेत ते लिहा.

उदा:-

संख्या	दशम्
80	8
30	
50	
90	
20	
70	
10	

b) योग्य संख्येने रिकाम्या जागा भरा.

उदा:-

संख्या	दशम्
50	5
	6
	7
40	
	2
	3
10	

3. दशम् व एकम् तील चित्रे मोजा. रकान्यात योग्य संख्या लिहा.


अ)



दशम् = 1 ई)

एकम् = 9

संख्या = 19




दशम् =

एकम् =

संख्या =

आ)



दशम् =

एकम् =

संख्या =

उ)




दशम् =

एकम् =

संख्या =

इ)




दशम् =

एकम् =

संख्या =

ऊ)



दशम् =

एकम् =

संख्या =



विद्यार्थ्यांना सूचना समजवा. गणित त्यांना स्वतःला करू द्या.

4. रिकाम्या रकान्यात योग्य संख्या लिहा.

उदा:	<input type="text" value="4"/>	दशम	+	<input type="text" value="1"/>	एकम	=	<input type="text" value="40"/>	+	<input type="text" value="1"/>	=	<input type="text" value="41"/>
अ)	<input type="text" value="3"/>	दशम	+	<input type="text" value="4"/>	एकम	=	<input type="text"/>	+	<input type="text" value="4"/>	=	<input type="text"/>
आ)	<input type="text" value="7"/>	दशम	+	<input type="text"/>	एकम	=	<input type="text"/>	+	<input type="text" value="6"/>	=	<input type="text"/>
इ)	<input type="text" value="8"/>	दशम	+	<input type="text" value="7"/>	एकम	=	<input type="text"/>	+	<input type="text"/>	=	<input type="text" value="87"/>
ई)	<input type="text" value="6"/>	दशम	+	<input type="text"/>	एकम	=	<input type="text"/>	+	<input type="text" value="8"/>	=	<input type="text" value="68"/>
उ)	<input type="text" value="9"/>	दशम	+	<input type="text" value="9"/>	एकम	=	<input type="text"/>	+	<input type="text"/>	=	<input type="text"/>

5. रिकाम्या रकान्यात योग्य संख्या लिहा.

1	2	3	4	5	6	7	8	9	10
11	12		14			17			20
				25					
31		33					38		40
	42				46			49	
51				55			58		60
61		63				67			
	72				76			79	80
81			84				88		90
91									



विद्यार्थ्यांना सूचना समजवा. गणिते त्यांना स्वतःला करू द्या.

6) लहान संख्येभोवती करा. उदाहरण पहा.

उदा:-

30	60
----	----

22	32
----	----

91	99
----	----

75	55
----	----

42	22
----	----

84	82
----	----

43	44
----	----

54	64
----	----

79	69
----	----

39	59
----	----

95	75
----	----

59	34
----	----

40	44
----	----

66	64
----	----

47	27
----	----

7) मोठ्या संख्येला करा.

उदा:

30	40	50	60 <input checked="" type="checkbox"/>
----	----	----	--

अ)

62	52	32	42
----	----	----	----

आ)

44	34	64	54
----	----	----	----

इ)

56	66	46	36
----	----	----	----

ई)

38	48	68	58
----	----	----	----

8) लहान संख्येभोवती काढा.

उदा:

31 <input type="radio"/>	61	51	41
--------------------------	----	----	----

अ)

53	63	33	43
----	----	----	----

आ)

65	35	55	45
----	----	----	----

इ)

47	57	67	37
----	----	----	----

ई)

59	49	39	69
----	----	----	----

9) दिलेली संख्या कोणत्या संख्येच्या मध्ये येते त्याला करा.

उदा:

42	40-50 <input checked="" type="checkbox"/>	50-60	30-40
----	---	-------	-------

अ)

62	50-60	60-70	70-80
----	-------	-------	-------

आ)

54	40-50	50-60	60-70
----	-------	-------	-------

इ)

36	30-40	40-50	50-60
----	-------	-------	-------

ई)

12	10-20	0-10	20-30
----	-------	------	-------



विद्यार्थ्यांना सूचना समजवा. उदाहरणे त्यांना स्वतःला करू द्या.

10) खालील उदाहरणे सोडवा.

अ) रमेशकडे 50 रुपये आहेत. सिताकडे 30 रुपये आहेत कोणाकडे जास्त पैसे आहेत ?
उत्तर तोंडी (मौखिक) द्या.

.....
.....

आ) गणितामध्ये पवनला 45 मार्क, जानकीला 75, रश्मियाला 65 आणि वाणीला 59
मार्क मिळालेले आहेत. ह्या चारही संख्यांना चढत्या क्रमाने लिहा.

.....
.....

इ) 7 दशम आणि 5 एकम असणाऱ्या संख्या लिहा.

.....
.....

ई) $20 + 5 = 25$ ह्या समीकरणाला वापरून एक उदाहरण लिहा.

.....
.....

11) 4, 5, 7 ह्या संख्यांना वापरून दोन अंकी 5
संख्या लिहा. उदाहरणात दर्शविल्याप्रमाणे
लिहा.

संख्या	दशम + एकक
उदा: 57	$50 + 7$

12 खालील संख्या पहा. 20 आणि 30
च्या मध्ये येणाऱ्या संख्यांना ○ करा.

उदा

64	24	17	20	31
26	37	22	58	93
76	21	50	64	27
19	30	29	83	18



विद्यार्थ्यांना सूचना समजवा आणि उदाहरणे त्यांना स्वतःला करू द्या.

13. एकम् च्या स्थानी 4 असणाच्या संख्यांना ○ करा.

53	87	Ex:- 94	68	42
43	79	84	53	59
54	32	83	74	64
81	58	34	57	40



14. उंदराच्या शेपटीचा खेळ खेळा.

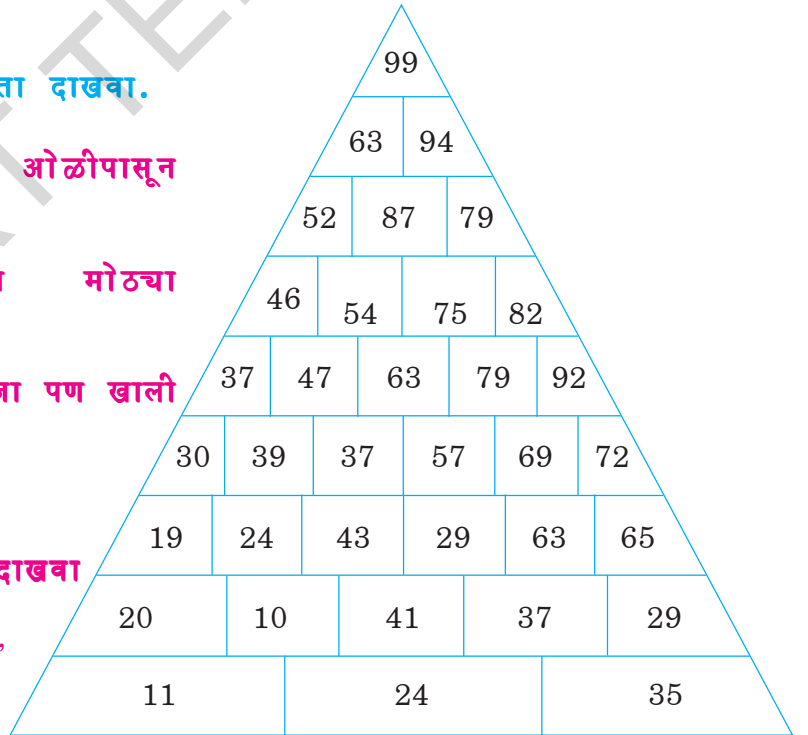
खालील दिलेल्या संख्यांमध्ये उंदराची शेपटी लहान संख्येकडून मोठ्या संख्येकडे न्या.

59	48	32	24
61	45	39	99
63	74	78	92
68	70	80	85

15. टेकडीच्या माथ्याचा रस्ता दाखवा.

- सर्वात खालच्या ओळीपासून सुरुवात करा.
- लहान संख्येकडून मोठ्या संख्येकडे जा.
- वर किंवा बाजूकडे जा पण खाली येऊ नका.
- 99 वरती पोहचा.
- जास्ती जास्त रस्ते दाखवा

उदा: 11, 20, 24, 39, 47,
54, 87, 94, 99



विद्यार्थ्यांना सूचना समजवा आणि उदाहरणे त्यांना स्वतःला करू द्या.

3 तीन अंकी संख्या



1. काडयांचा जुडगा व सुट्या काडया बघा. $99 + 1$ किती ?

$$99 + 1 = ?$$

1 काडी मिळविली असता

<p>9 द शक</p>	<p>9 एकक + 1</p>
<p>9 द शक</p>	<p>10 एकक</p>
<p>10 द शक</p>	<p>1 द शक</p> <p>0 एकक</p>
<p>1 शतक 0 द शक</p>	<p>0 एकक</p>

99 या संख्येन 1 ही संख्या मिळविली असता बेरीज 100 येते

99 नंतर येणारी संख्या म्हणजे 100 होय

100 या संख्येन किती दशक आहेत ? 100 या संख्येन किती एकक आहेत ?

$$100 = 10 \text{ दशक} \quad 100 = 100 \text{ एकक}$$

99 ही दोन अंकी संख्या सर्वात शेवटी येते - म्हणजेच सर्वात मोठी दोन अंकी संख्या 99 आहे.

















सगळ्यात पहिली तीन अंकी संख्या 100 ही आहे. म्हणजेच 100 ही सर्वात लहान तीन अंकी संख्या आहे.

दोन अंकी सर्वात मोठ्या संख्येत 1 ही संख्या मिळविली असता सर्वात लहान तीन अंकी संख्या येते.



विद्यार्थ्यांना काडयांचा जुडगा आणि एक एक काडी दाखवून शंभर या संख्याची ओळख करून दयावी.

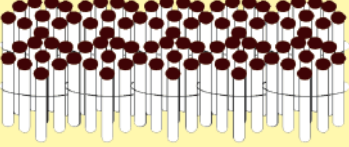

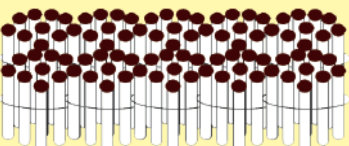

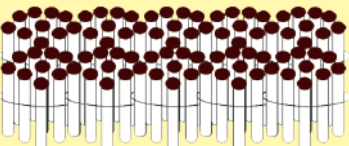

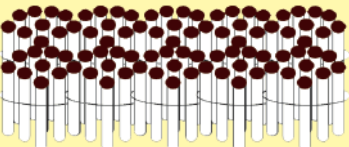
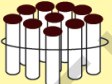
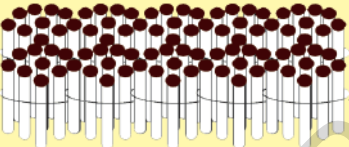
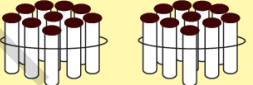
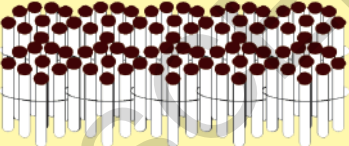

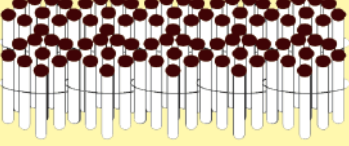


2. शंभर (शतक) या संख्येत मोजा आणि रिकाम्या चौकटीत बरोबर लिहा.

				$100 + 100 = 200$
<input type="text" value="1"/> शतक	+	<input type="text" value="1"/> शतक		
				$200 + 100 = 300$
<input type="text"/> शतक	+	<input type="text"/> शतक		
				$300 + \text{ } = 400$
<input type="text"/> शतक	+	<input type="text"/> शतक		
				$\text{ } + 100 = 500$
<input type="text"/> शतक	+	<input type="text"/> शतक		
				$\text{ } + \text{ } = 600$
<input type="text"/> शतक	+	<input type="text"/> शतक		
				$\text{ } + \text{ } = \text{ }$
<input type="text"/> शतक	+	<input type="text"/> शतक		
				$700 + 100 = \text{ }$
<input type="text"/> शतक	+	<input type="text"/> शतक		
				$800 + 100 = 900$
<input type="text"/> शतक	+	<input type="text"/> शतक		



विद्यार्थ्यांना शंभर संख्या मोजायला सांगा. त्यांना संख्या लिहून 100, 200, 900 समजावणे.

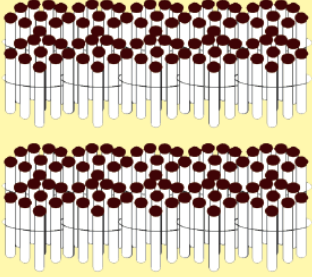
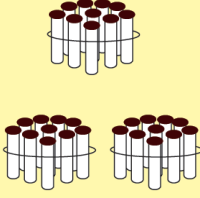

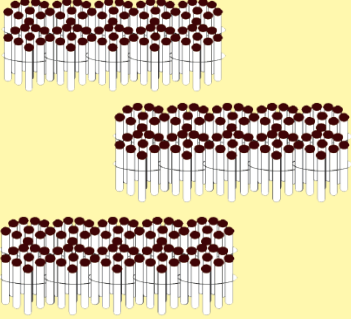
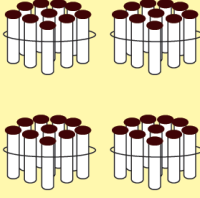


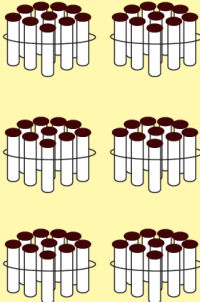


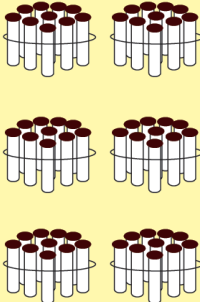

3. खालील काडयांचा जुडगा आणि मोकळ्या काडया बघा आणि संख्या वाचा.

 1 शतक		 1 एकक	$100 + 0 + 1 = 101$
 1 शतक		 2 एकक	$100 + 0 + 2 = 102$
 1 शतक		 9 एकक	$100 + 0 + 9 = 109$
 1 शतक	 1 दशक		$100 + 10 + 0 = 110$
 1 शतक	 2 दशक		$100 + 20 + 0 = 120$
 1 शतक	 4 दशक		$100 + 40 + 0 = 140$
 1 शतक	 6 दशक	 9 एकक	$100 + 60 + 9 = 169$



विद्यार्थ्यांना काडयांचा जुडगा आणि मोकळ्या काडया घेवून 101 ते 999 ही संख्या कशी लिहायची ती समजावून सांगा.





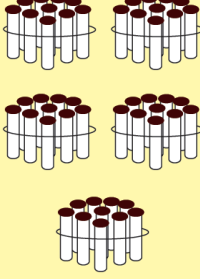


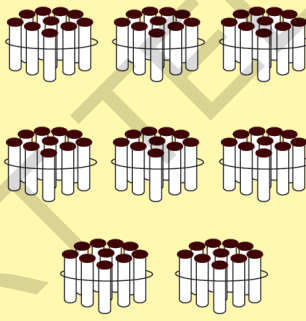


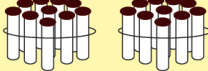
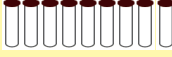
4. खालील काड्यांचा जुडगा व मोकळ्या काड्या पाहा. आणि रिकाम्या डब्यात योग्य ती संख्या लिहा.

 <p>2 शतक</p>	 <p>3 दशक</p>	 <p>6 एकक</p>	$200 + 30 + 6 = 236$
 <p>3 शतक</p>	 <p>4 दशक</p>	 <p>9 एकक</p>	$300 + 40 + 9 = \square$
 <p>4 शतक</p>	 <p>6 दशक</p>	 <p>5 एकक</p>	$300 + 40 + 9 = 405$
 <p>5 शतक</p>	 <p>6 दशक</p>	 <p>9 एकक</p>	$300 + 40 + 9 = \square$



विद्यार्थ्यांना काड्यांचा जुडगा आणि मोकळ्या काड्या वापरून शतक, दशक आणि एकक यांची ओळख करून द्या नंतर ते 101 ते 999 ही संख्या लिहावयास शिकतील.

5. विद्यार्थ्यांना दशक, शतक आणि एकक यांची ओळख काड्यांचा जुडगा आणि मोकळ्या काड्या यांच्या द्वारे समजावणे नंतर त्यांना 101 ते 999 संख्या लिहीण्याचा सराव घ्यावा.

 <p>6 शतक</p>	 <p>7 दशक</p>	 <p>1 एकक</p>	$300 + 40 + 9 = \square$
 <p>7 शतक</p>	 <p>5 दशक</p>	 <p>5 एकक</p>	$300 + 40 + 9 = \square$
 <p>8 शतक</p>	 <p>8 दशक</p>	 <p>2 एकक</p>	$300 + 40 + 9 = \square$
 <p>9 शतक</p>	 <p>2 दशक</p>	 <p>2 एकक</p>	$300 + 40 + 9 = \square$



विद्यार्थ्यांना दशक, शतक आणि एकक यांची ओळख काड्यांचा जुडगा आणि मोकळ्या काड्या यांच्या द्वारे समजावणे नंतर त्यांना 101 ते 999 संख्या लिहीण्याचा सराव घ्यावा.

6. खालील तक्त्याचे निरीक्षण करा. यामध्ये दिलेल्या संख्येच्या अंकाची स्थानिक किंमत, मूळ किंमत, दाखवित आहे.

746 या संख्येमध्ये त्याच्या अंकाची स्थानिक किंमत आणि मूळकिंमत पहा.

उदा: संख्या	7	4	6
स्थान	शतक	दशक	एकक
स्थानिक किंमत	$7 \times 100 = 700$	$4 \times 10 = 40$	$6 \times 1 = 6$
मूळ किंमत	7	4	6

805 या संख्येमधील अंकाची स्थानिक किंमत आणि मूळ किंमत पहा.

उदा: संख्या	8	0	5
स्थान	शतक	दशक	एकक
स्थानिक किंमत	$8 \times 100 = 800$	$0 \times 10 = 0$	$5 \times 1 = 5$
मूळ किंमत	8	0	5

आता 504 या संख्येतील अंकाचे स्थान, स्थानिक किंमत आणि मूळ किंमत लिहा.

उदा: संख्या	5	0	4
स्थान	शतक	दशक	एकक
स्थानिक किंमत	$\square \times \square = \square$	$\square \times \square = \square$	$\square \times \square = \square$
मूळ किंमत	\square	\square	\square

खालील तक्ता पहा संख्येचे स्थान आणि स्थानिक किंमत लिहा.

संख्या	0 चे स्थान काय?	स्थानाची किंमत किती?
420	_____	_____
504	_____	_____

जेव्हा केव्हा एखाद्या संख्येमध्ये 0 असते तेव्हा त्याची स्थानिक किंमत 0 असते.



तुमच्या विद्यार्थ्यांना संख्यांच्या अंकाची स्थानिक किंमत मूळ किंमत समजण्यासाठी मदत करा. त्याचप्रमाणे त्यांना 0 ची स्थानिक किंमत समजावून सांगा.

खालील नोट आणि नाणींचे निरीक्षण करा.

7. नाणी, नोट मोजा 100रु. 10रु. चे नोटा मोजा.

रमाने दुकानात जावून कांही वहया घेतल्या तिने दुकानदाराला 123रु. दिले तिच्या जवळ । शंभराची नोट 3 एक रुपयाची नोट, 2 दहा रुपयाच्या नोटा आणि 10 एक रुपयाची नाणी होती. तर तिने दुकानदारास किती नोटा आणि नाणी दिले असतील ?



123 रु. दयावयाचे आहेत तर किती नोटा आणि नाणी दुकानदारास देवू ?



123 रुपये
1 शंभराची नोट
2 दहा रुपयाच्या नोटा
3 एक रुपयाची नाणी



345 रु. दयावयाचे असतील तर किती नोटा आणि नाणी दयावी ?

345 रुपये असतील तर
3 शंभराच्या नोटा
4 दहा रुपयाच्या नोटा
5 एक रुपयाची एक नाणी



विद्यार्थ्यांना वरील संख्यांचे संक्षिप्त आणि विस्तारीत रूप शिकविणे.

8. विस्तारीत रूपात लिहा. उदाहरण बघा.

उदा: $256 = 200 + 50 + 6$

2 ची स्थानीक किं = 200

5 ची स्थानीक किं = 50

6 ची स्थानीक किं = 6

(1) 384 चे विस्तारीत रूप.....

3 ची स्थानीक किं =

8 ची स्थानीक किं =

4 ची स्थानीक किं =

(2) 709 चे विस्तारीत रूप.....

7 ची स्थानीक किं =

0 ची स्थानीक किं =

9 ची स्थानीक किं =

(3) 650 चे विस्तारीत रूप.....

6 ची स्थानीक किं =

5 ची स्थानीक किं =

0 ची स्थानीक किं =

9. खालील संख्याचे संक्षिप्त रूप लिहा.

उदा:- $400 + 60 + 5 = 465$

4	0	0
+		
	6	0
	+	
		5
4 6 5		

उदा:- $800 + 0 + 5 = 805$

8	0	0
+		
	0	0
	+	
		5
8 0 5		

(1) $900 + 50 + 6 = \dots\dots\dots$

□	□	□
+		
	□	□
	+	
		□
□ □ □		

(2) $600 + 30 + 0 = \dots\dots\dots$

□	□	□
+		
	□	□
	+	
		□
□ □ □		




विद्यार्थ्यां कडून वरील प्रमाणे संक्षिप्त रूप आणि विस्तारीत रूप यांचा सराव करून घ्यावा.

10. नोट आणि नाण्यांकडे बघा. जर 999 मध्ये एक मिसळले तर तुम्हाला किती मिळेल ते सांगा.

The image shows a 2x6 grid of Indian currency. The top row contains 18 100 rupee banknotes and 18 10 rupee banknotes. The bottom row contains 18 100 rupee banknotes, 17 10 rupee banknotes, and 18 1 rupee coins. A blue arrow points from the 18th coin in the bottom row to a separate 1 rupee coin on the right.



तुमच्या विद्यार्थ्यांना नोट आणि नाण्यांचे निरीक्षण करण्यास सांगा. 1000 पर्यंतच्या संख्यांची त्यांना ओळख करून द्या



जर तूमही 1 मध्ये 999 मिसळले तर 1000 मिळते
 $999 + 1 = 1000$

एक हजारमध्ये किती शंभर आहेत ? किती 10 आहेत ? किती एकम आहेत ?

$1000 = 10$ शंभर, $1000 = 100$ दशम, $1000 = 1000$ एकम

हजार ही चार अंकी संख्या आहे.

तिन अंकी संख्यामध्ये 999 ही शेवटची संख्या आहे.

तिन अंकी संख्यामध्ये 999 ही सर्वात मोठी संख्या आहे.

चार अंकी संख्यामध्ये 1000 ही पाहीली संख्या आहे.

चार अंकी संख्यामध्ये 1000 ही सर्वात लहान संख्या आहे.



तूमच्या विद्यार्थ्यांना नोट आणि नाण्यांचे निरीक्षण करण्यास सांगा. 1000 पर्यंतच्या संख्यांची त्यांना ओळख करून द्या.



प्रश्नसंग्रह

1. खालील रिकाम्या चौकटीत अचूक संख्या लिहा.

अ)

101	102	103	104	105	106	107	108	109	110
111			114		116	117		119	120
121		123		125	126		128		
131	132			135		137	138		140
141			144			147		149	
151		153			156		158	159	
161			164			167		169	170
171		173			176				
181	182				186				
191				195		197			200

आ)

201		203		205		207		209	210
211			214			217			220
221				225			228		
231			234		236			239	
		243		245					250
251									260
		263			266				
271			274				278		
	282			285					290
291						297			



तुमच्या विद्यार्थ्यांना सुचना समजावून द्या आणि जाळी पूर्ण कर द्या.

ब)

301	302	303	304	305	306	307	308	309	310
311									320
321									330
									340
									350
									360
									370
									380
									390
									400

ब)

401	402	403	404	405	406	407	408	409	410
411									420
421									430
									440
									450
									460
									470
									480
									490
									500



विद्यार्थ्यांना माहिती दिल्या प्रमाणे व्यवस्थित उत्तरे लिहावयास सांगणे.

उ)

501	502	503	504	505	506	507	508	509	510
511									520
521									530
									540
									550
									560
									570
									580
									590
									600

ऊ)

601	602	603	604	605	606	607	608	609	610
611									620
621									630
									640
									650
									660
									670
									680
									690
									700



दिलेल्या माहिती प्रमाणे योग्य ती संख्या चौकटीत लिहावयास सांगणे.

क्र)

701	702	703	704	705	706	707	708	709	710
711									720
721									730
									740
									750
									760
									770
									780
									790
									800

ए)

801	802	803	804	805	806	807	808	809	810
811									820
821									830
									840
									850
									860
									870
									880
									890
									900



दिलेल्या माहिती प्रमाणे योग्य ती संख्या चौकटीत लिहावयास सांगणे.

ऐ)

901	902	903	904	905	906	907	908	909	910
911									920
921									930
									940
									950
									960
									970
									980
									990

(2) खालील दिलेल्या नोटा आणि नाणींचे निरीक्षण करा. रिकाम्या डब्यात अचूक संख्या लिहा.

उदा:

 3	 2	 5
--	--	---

$$300 + 20 + 5 = 325$$

 <input type="text"/>	 <input type="text"/>	 <input type="text"/>
---	---	--

$$\boxed{} + \boxed{} + \boxed{} = \boxed{}$$

तूमच्या विद्यार्थ्यांना वर दिलेली उदाहरणे सुचनेप्रमाणे सोडाविण्यासाठी मदत करा.



(3) रेघ ओढलेल्या संख्याची स्थान आणि स्थानिक किंमत लिहा.

संख्या	रेघ ओढलेली संख्याची किं	स्थानिक किंमत
उदा:- <u>2</u> 4 9	शतक	200
3 <u>9</u> 6		
4 8 <u>7</u>		
<u>5</u> 5 5		
7 9 <u>0</u>		
9 <u>0</u> 9		

(4) खालील संख्येचे विस्तारीत रूप लिहा.

उदा:- $617 = \boxed{600} + \boxed{10} + \boxed{7}$

अ) $918 = \boxed{} + \boxed{} + \boxed{}$

आ) $807 = \boxed{} + \boxed{} + \boxed{}$

इ) $794 = \boxed{} + \boxed{} + \boxed{}$

ई) $543 = \boxed{} + \boxed{} + \boxed{}$

उ) $496 = \boxed{} + \boxed{} + \boxed{}$

ऊ) $333 = \boxed{} + \boxed{} + \boxed{}$

(5) खालील संख्येचे संक्षिप्त रूप लिहा.

उदा:- $600+40+9 = 649$

अ) $700+30+6 = \boxed{}$

आ) $900+50+4 = \boxed{}$

इ) $400+40+4 = \boxed{}$

ई) $900+20+4 = \boxed{}$

उ) $300+10+4 = \boxed{}$



दिलेल्या माहितीप्रमाणे अचूक उत्तर चौकटीत लिहावयास सांगणे.

(6) विस्तारीत रूप लिहा आणि त्यांना अक्षरात लिहा.

	विस्तारीत	
उदा: - 175 =	100 + 70 + 5	एकशे पञ्चाहत्तर
अ) 782 =	700 + 80 + 2	
आ) 976 =		
इ) 999 =		
ई) 407 =		
उ) 340 =		

(7) अक्षरांत दिलेल्या संख्यांना अंकात लिहा

उदा:- एकशे त्रेचाळीस	=	143
अ) दोनशे अठ्ठावन्न	=	
आ) तिनशे पाच	=	
इ) चारशे शहाएँशी	=	
ई) नऊशे सात	=	
उ) पाचशे अठ्ठावीस	=	
ऊ) एकशे अकरा	=	
ऋ) आठशे अठ्याण्णव	=	



विद्यार्थ्यांना दिलेल्या उदाहरणावरून समजून बाकीची उत्तरे लिहावयास सांगणे.

(8) खालील उदाहरणे सोडवा

1. 4, 6 आणि 9 चा संख्या वापरून तीन अंकी संख्या लिहा.

469, 694, 496,,,

2. 5 ही संख्या शतक स्थानी ठेवून तीन संख्या लिहा.

502,,,,,

3. 800 ते 900 या संख्येमधील 5 संख्या लिहा 5 ही संख्या दशक स्थानी असावी.

856,,,,,

4. चौकटीत दिलेली संख्या बाजूच्या पैकी (तीन संख्या पैकी) कोणत्या संख्येत येते त्यास ✓ खूण करा.

उदा:-

	885	800—850	850—900 ✓	750—800
अ)	632	600—650	650—700	700—750
आ)	304	250—300	300—350	350—400
इ)	287	200—300	700—800	600—700
ई)	654	500—600	400—500	600—700
उ)	707	600—700	700—800	800—900

(9) प्रत्येक ओळीतील संख्यांचे निरीक्षण करा. प्रत्येक ओळीतील नंतरच्या 5 संख्या लिहा.

अ) 100, 200, 300,,,,,

आ) 110, 120, 130,,,,,

इ) 350, 400, 450,,,,,

ई) 400, 425, 450,,,,,

उ) 900, 800, 700,,,,,



विद्यार्थ्यांना दिलेली माहिती नीट वाचून अचूक उत्तरे लिहाण्यास सांगणे.

(10) योग्य जोडया जुळवा

सर्वात मोठी 2 अंकी संख्या

4 7 5

सर्वात लहान 3 अंकी संख्या

4 2 4

दशक स्थानी 7 संख्या

9 9

456 या संख्येत 5 चे स्थान

दशक

795 या संख्येत 7 चे स्थान

3 6 7

425 या संख्येच्या पहिली संख्या

1 0 0

821 या संख्येत 8 ची मूळ किंमत

8

$300+60+7$ यांचे संक्षिप्त रूप

5 0

698 या संख्येत 8 ची स्थानिक किंमत

3 5 0

705 या संख्येत 0 ची स्थानिक किंमत

एकक

3 शतक 5 दशक 0 एकक असलेली संख्या

0



दिलेल्या माहितीवरून अचूक उत्तरे लिहावास सांगणे.

(11) खेळ: खेळ्या-

टाळी - चुटकी - ठोकून आवाज (बडवणे)

चुटकी म्हणजे दोन बोटांनी हळू
आवाज करणे




चुटकी = एकक (1)

टाळी म्हणजे दोन्ही
हात एकमेकोवर मारणे



टाळी = दशक (10)

Tap म्हणजे एखाद्या वस्तूवर
हाताने मारल्यावर निघालेला
आवाज (बडवणे)



(बडवणे = शतक)

शिक्षकांनी दिलेले आवाज करून दाखविणे जसे चुटकी, टाळी टेबलावर हाताने बडवणे, विद्यार्थ्यांनी शिक्षकांनी आवाज केल्यावर. ओळखणे जसे एकक, दशक किंवा शतक.

उदा:-

बडवणे	टाळी	चुटकी	स्थानिक किंमत			संख्या
2	5	8	200	50	8	258

यामध्ये विद्यार्थ्यांनी शिक्षकांनी सांगितल्याप्रमाणे अचूक उत्तरे देवून हा खेळ खेळावा ज्यांनी आवाज ऐकूनही उत्तर चुकीचे दिल्यास तो विद्यार्थी खेळात बाद होईल. नंतर शेवट पर्यंत असेच खेळतजावे शेवटी जो विद्यार्थी राहिल तो जिंकला.



विद्यार्थ्यांना हा खेळ शिकवा विद्यार्थ्यांना दशक, एकक, शतक यांची स्थानिक किंमत ओळखण्यास मदत होईल.

(12) काडयांचा खेळ.

1 मोठी काडी = 100

1 मध्यम काडी = 10

1 लहान काडी = 1



दोन विद्यार्थ्यांना खेळण्याचा खेळ. 9 मोठ्या काडया, 9 मध्यम काडया, 9 लहान काडया. या सर्व काडया हाताने जोरात हलवून जमिनीवर टाका. काडी दुसऱ्या काडील न हलविता उचला. दिलेल्या किंमतीप्रमाणे प्रत्येक काडीची किंमत मोजा. नंतर एकूण संख्या काढा. काडील काडी लागली असता दुसऱ्या खेळाडूला खेळावयास दयावे. या खेळात दोन व्यक्ती एकानंतर एक खेळू शकतात. ज्यांनी सर्वात मोठी संख्या सांगेल त्याला जास्त मार्क.

उदा: काडया उचला

मोठी काडी	मध्यम काडी	लहान काडी	येणारी एकूण संख्या
4	6	5	$400 + 60 + 5 = 465$

अशा प्रकारे पाच वेळेस खेळा, ज्याने जास्त मार्क मिळविले तो जिंकला.



विद्यार्थ्यांकडून हा खेळ खेळवून घ्या. त्यांना अंकाची स्थानीक किंमतीची माहिती मिळेल.

4 तीन अंकी संख्यांची तुलना

1. नोट आणि नाण्यांकडे बघा. कोणती किंमत जास्त किंवा कमी आहे ते सांगा.



एके दिवशी रंगाम्मा आणि सिताम्मा आठवड्याच्या बाजारमध्ये भाजी विकण्यासाठी गेल्या. त्यांच्या नावाखाली जे नोट आणि नाणी दाखविले आहे ते त्यांना मिळाले. कोणाचे उत्पन्न जास्त आहे ?



रंगाम्मा



सिताम्मा



रंगाम्माचे उत्पन्न

सिताम्माचे उत्पन्न



तूमच्या विद्यार्थ्यांना नोट आणि नाण्यांचा उपयोग करून तीन अंकी संख्यांचे तुलना करण्यास सांगा. तुलना करण्याची क्रिया समजण्यास त्यांना मदत करा.

452 मध्ये 4 शंभर आहेत. 381 मध्ये 3 शंभर आहेत.

400 रु पेक्षा 300 रु कमी आहेत. ह्याचाच अर्थ रंगम्माचे उत्पन्न जास्त आहे.

381 रु. 452 रुपयापेक्षा कमी आहे.

$$381 < 452$$

किंवा

452 रु. 381 रुपयापेक्षा जास्त आहे.

$$452 > 381$$

दूसऱ्या दिवशी रंगम्मा आणि सिताम्माने भाजी विकली आणि त्यांना खालील नोट आणि नाणी मिळाले. कोणाचे उत्पन्न किती आहे ?



रंगम्माचे उत्पन्न :

सिताम्माचे उत्पन्न:







ह्याचा अर्थ दोघांचे उत्पन्न समान आहे.

$$216 = 216$$



तुमच्या विद्यार्थ्यांना नोट आणि नाण्यांचा तुलना करण्यास सांगा. तुलना करण्याची क्रिया समजण्यास त्यांना मदत करा.

2. खाली दिलेल्या नोट आणि नाणेकडे बघा. कोणते जास्त आणि कोणते कमी आहे ते सांगा.

<p>354</p>			
<p>321</p>			

354 आणि 321 मध्ये शतम समान आहेत.

आता दशम स्थानाचे निरीक्षण करा.

354 मध्ये च्या दशम स्थानात 5 आहे.

321 च्या दशम स्थानामध्ये 2 आहे.

354 चे दशम स्थान 321 च्या दशम स्थानापेक्षा मोठे आहे.

म्हणून 354 ही मोठी आहे.

354 ही संख्या 321 पेक्षा मोठी आहे असे आपण सांगू शकतो.

आपण असे लिहू शकतो $354 > 321$

अशाच पद्धतीने 321 ही 354 पेक्षा लहान आहे.







आपण असे लिहू शकतो $321 < 354$

जर 3 अंकी संख्यांमध्ये शतम स्थान समान असेल तर ज्या संख्याचे दशम स्थान मोठे असेल ती संख्या मोठी असते.

तूमच्या विद्यार्थ्यांना नोट आणि नाण्यांचा उपयोग करून तीन अंकी संख्या संख्यांची तुलना करण्यास सांगा. तुलना करण्याची क्रिया समजण्यास त्यांना मदत करा.



3. खाली दिलेल्या नोट आणि नाण्यांकडे बघा. कोणते जास्त आणि कोणते कमी आहे ते सांगा.

<p>231</p>			
<p>235</p>			

231 आणि 235 ह्या दोन संख्यांमध्ये शतम आणि दशम स्थान हे दोन्ही समान आहेत.

आता एकम स्थानाचे निरीक्षण करा.

231 च्या एकम स्थानामध्ये 1 आहे.

235 च्या एकम स्थानामध्ये 5 आहे.

म्हणून 235 ही संख्या मोठी आहे.

ह्याचाच अर्थ 231 पेक्षा 235 मोठी आहे.

$$235 > 231$$

231 हे 235 पेक्षा लहान आहे.

$$231 < 235$$

तीन अंकी संख्यांमध्ये जर शतम आणि दशम स्थान समान असेल तर ज्या संख्यांचे एकम स्थान मोठे असेल तर ती संख्या मोठी असते.

तूमच्या विद्यार्थ्यांना नोट आणि नाण्यांचा उपयोग करून तीन अंकी संख्या संख्यांची तुलना करण्यास सांगा. तुलना करण्याची क्रिया समजण्यास त्यांना मदत करा.





1. मोठी संख्येवर '✓' खूण करा

उदा: 294, 319 ✓

अ) 756, 432

आ) 670, 679

इ) 550, 543

ई) 856, 851

2. लहान संख्येवर '○' खूण करा.

उदा: 738, 769

अ) 463, 154

आ) 537, 645

इ) 248, 264

ई) 707, 705

3. खाली दिलेल्या चौकटीत योग्य चिन्हांचा >, <, = वापर करा.

उदा:- 304 > 201; 475 < 616; 254 = 254

अ) 620 580

आ) 937 975

इ) 763 746

ई) 864 953

अ) 520 520

आ) 987 965

इ) 736 746

ई) 864 864

4. दिलेल्या संख्येचा चढता क्रम उतरता क्रम लिहा.

	संख्या	चढता क्रम	उतरता क्रम
उदा:-	367, 212, 684, 801	212 367 684 801	801 684 367 212
अ)	405, 408, 500, 306	<input type="text"/> <input type="text"/> <input type="text"/> <input type="text"/>	<input type="text"/> <input type="text"/> <input type="text"/> <input type="text"/>
आ)	684, 648, 635, 653	<input type="text"/> <input type="text"/> <input type="text"/> <input type="text"/>	<input type="text"/> <input type="text"/> <input type="text"/> <input type="text"/>
इ)	339, 333, 337, 335	<input type="text"/> <input type="text"/> <input type="text"/> <input type="text"/>	<input type="text"/> <input type="text"/> <input type="text"/> <input type="text"/>
ई)	569, 575, 557, 596	<input type="text"/> <input type="text"/> <input type="text"/> <input type="text"/>	<input type="text"/> <input type="text"/> <input type="text"/> <input type="text"/>



पुढील पानांवरील माहिती बघून योग्य ते उत्तरे लिहा. तुमच्या विद्यार्थ्यांना प्रत्येक प्रश्नाची सुचना समजावून देण्यास मदत करा.

5. 7, 8 आणि 9 या संख्या वापरून तीन अंकी संख्या लिहा.

789

सर्वात लहान संख्या

मोठी संख्या

चढता क्रम लिहा:

उतरता क्रम:

6. 9 ही संख्या दशक स्थानी घेवून कोणत्याही 10 तीन अंकी संख्या लिहा.

वरील संख्येतील
सर्वात मोठी संख्या

सर्वात लहान संख्या

7. 7, 4 आणि 6 ही संख्येचा उपयोग करून 3 दोन अंकी संख्या 3 तीन अंकी संख्या लिहा.

उदा: दोन अंकी संख्या : 74, 67, 46,

तीन अंकी संख्या : 476, 467, 674,

रिकाम्या चौकटीत चिन्हांचा वापर पाहून योग्य ती संख्या लिहा. > (किंवा) <

उदा:

74 > 46

अ) <

आ) >

उदा:

467 < 674

इ) <

ई) >



प्रश्नसंग्रहमध्ये उदाहरण दिलेले आहे त्याला अनुसरून बाकीची अचूक उत्तरे लिहा.

प्रश्नांच्या सूचना समजावून देण्यास मदत करा.

5 संख्यांची बेरीज



मेणबत्या पाहून. त्यांची एकूण संख्या सांगा.

मेणबत्या एकूण किती ?

सितम्मा आणि रामुलम्मा मेणबत्या तयार करतात. एकेदिवशी सितम्माने 34 आणि रामुलम्माने 25 मेणबत्या बनविल्या त्यांनी ते विकायचे ठरविले.

खालील दिल्याप्रमाणे त्यांनी मेणबत्या मोजल्या.

सितम्मा



रामुलम्मा



वेगवेगळ्या पद्धतीने बेरीज करू शकतो.

दशकाची बेरीज
 $3 + 2 = 5$

द	ए
3	4
+2	5
5	9

एककाची बेरीज
 $4 + 5 = 9$



विद्यार्थ्यांना अशाप्रकारची बेरीज समजावून सांगा सराव करून घ्या.



1. काडयांच्या जुडग्यांचा वापर करून दिलेली बेरीज करून घेणे.

$$\begin{array}{r} \text{अ) } 52 \\ + 21 \\ \hline \\ \hline \end{array}$$

$$\begin{array}{r} \text{आ) } 24 \\ + 22 \\ \hline \\ \hline \end{array}$$

$$\begin{array}{r} \text{इ) } 30 \\ + 24 \\ \hline \\ \hline \end{array}$$

$$\begin{array}{r} \text{ई) } 52 \\ + 27 \\ \hline \\ \hline \end{array}$$

$$\begin{array}{r} \text{उ) } 18 \\ + 21 \\ \hline \\ \hline \end{array}$$

$$\begin{array}{r} \text{ऊ) } 16 \\ + 33 \\ \hline \\ \hline \end{array}$$

$$\begin{array}{r} \text{ऋ) } 37 \\ + 51 \\ \hline \\ \hline \end{array}$$

$$\begin{array}{r} \text{ए) } 13 \\ + 81 \\ \hline \\ \hline \end{array}$$

$$\begin{array}{r} \text{ऐ) } 71 \\ + 26 \\ \hline \\ \hline \end{array}$$

$$\begin{array}{r} \text{ओ) } 30 \\ + 20 \\ \hline \\ \hline \end{array}$$

$$\begin{array}{r} \text{औ) } 62 \\ + 25 \\ \hline \\ \hline \end{array}$$

$$\begin{array}{r} \text{क) } 34 \\ + 43 \\ \hline \\ \hline \end{array}$$

$$\begin{array}{r} \text{ख) } 12 \\ + 26 \\ \hline \\ \hline \end{array}$$

$$\begin{array}{r} \text{ग) } 14 \\ + 63 \\ \hline \\ \hline \end{array}$$

$$\begin{array}{r} \text{घ) } 35 \\ + 21 \\ \hline \\ \hline \end{array}$$

$$\begin{array}{r} \text{ङ) } 25 \\ + 40 \\ \hline \\ \hline \end{array}$$

$$\begin{array}{r} \text{च) } 55 \\ + 43 \\ \hline \\ \hline \end{array}$$

$$\begin{array}{r} \text{छ) } 43 \\ + 21 \\ \hline \\ \hline \end{array}$$

$$\begin{array}{r} \text{ज) } 40 \\ + 38 \\ \hline \\ \hline \end{array}$$

$$\begin{array}{r} \text{झ) } 60 \\ + 23 \\ \hline \\ \hline \end{array}$$

$$\begin{array}{r} \text{झ) } 15 \\ + 12 \\ \hline \\ \hline \end{array}$$

$$\begin{array}{r} \text{ट) } 12 \\ + 53 \\ \hline \\ \hline \end{array}$$

$$\begin{array}{r} \text{ठ) } 66 \\ + 13 \\ \hline \\ \hline \end{array}$$

$$\begin{array}{r} \text{ड) } 56 \\ + 12 \\ \hline \\ \hline \end{array}$$



विद्यार्थ्यांना व्यवस्थित समजावून देणे. नंतर त्यांना स्वतः उदाहरणे सोडवावयास सांगणे.

2. दिलेल्या उदाहरणाचे निरीक्षण करून बेरीज करा.

23 + 32 = किती ?

उदा: 23 = दशक + एकक = + =

32 = दशक + एकक = + =

+

= दशक + एकक = + =

अ) 45 + 24 = किती ?

45 = दशक + एकक = + =

24 = दशक + एकक = + =

+

दशक + एकक = + =

आ) 54 + 24 = किती ?

54 = दशक + एकक = + =

24 = दशक + एकक = + =

+

दशक + एकक = + =

3. दिलेल्या जोड्यांची बेरीज करा.

अ) 46 + 23

आ) 37 + 52

इ) 30 + 66

ई) 45 + 54

उ) 18 + 20

ऊ) 26 + 32

ऋ) 54 + 25

ए) 47 + 12

ऐ) 34 + 32

ओ) 68 + 21

औ) 52 + 25

क) 16 + 71

ख) 72 + 10

ग) 84 + 12

घ) 69 + 20

ङ) 26 + 62



विद्यार्थ्यांना समजावून देणे नंतर त्यांना स्वतः उदाहरणे सोडावयास सांगणे.

4. डाव्याबाजूला कांही संख्या दिलेल्या आहेत त्यातील अचूक उत्तराभोवती '○' गोल करा.

उदा:

$42 + 26$
$75 + 24$
$22 + 6$
$51 + 17$
$43 + 6$
$25 + 31$

62	68	88
99	89	79
28	48	38
78	68	88
49	59	69
66	46	56

5. खालील दाखविलेल्या अंकाची बेरीज करा.

(a) बेरीज 10

(b) बेरीज 14

6. उभ्या स्तंभातील अंकाची व आडव्या स्तंभातील अंकाची बेरीज करा उत्तरे दिलेल्या उदाहरणाप्रमाणे लिहा.

+	21	32	24	34
13	→ 34			
14				
15				

उदा: $13 + 21 = 34$

.....

.....

.....

.....

.....

.....



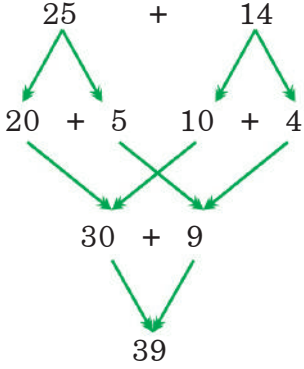
तुमच्या विद्यार्थ्यांना वरील प्रश्न सोडविण्यासाठी सूचना समजावून सांगा. त्यांना प्रश्नांची उत्तरे सोडवू द्या.

7. उमा आणि सुभाने अंकाची तोंडी बेरीज कशी केली ते पाहू या.

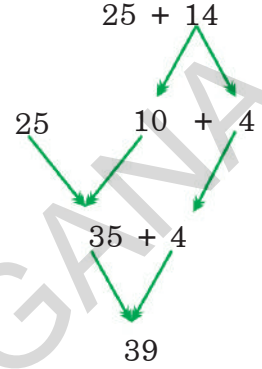
उदा: $25 + 14 = ?$



उमा

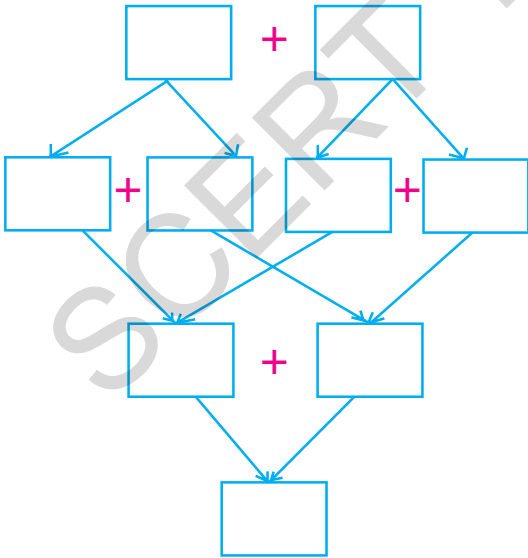


सुमा

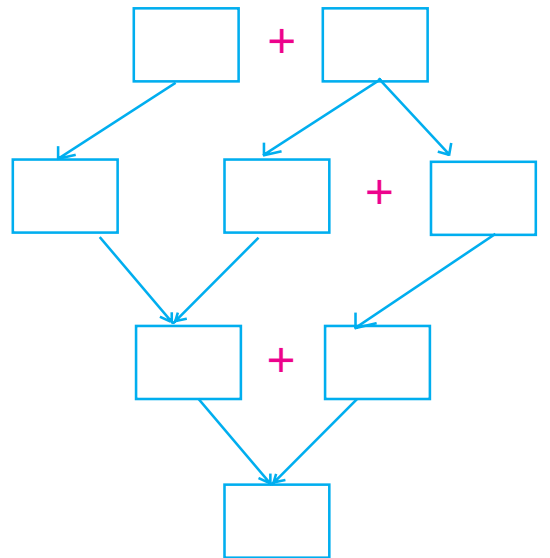


खालील दाखविल्या प्रमाणे तुम्ही सुद्धा अंकाची बेरीज करा.

(a) $45 + 12$



(b) $45 + 12$



तुमच्या विद्यार्थ्यांना वरील उदाहरणे सोडविण्यासाठी सूचना समजावून सांगा त्यांना सोडविण्यास मदत करा.

8. खालील तक्त्यांचे अवलोकन करा. त्यामध्ये प्रत्येक ओळीमध्ये अंकाच्या 4 जोड्या आहेत त्यातील एका जोडीची बेरीज वेगळी आहे ती ओळखा व त्याभोवती ○ गोल करा.

उदा:	$43 + 3;$	$33 + 13;$	$23 + 23;$	$33 + 14$
अ)	$26 + 12;$	$21 + 17;$	$24 + 34;$	$18 + 20$
आ)	$52 + 7;$	$57 + 2;$	$51 + 6;$	$50 + 9$
इ)	$50 + 10;$	$50 + 20;$	$30 + 30;$	$40 + 20$
ई)	$16 + 33;$	$15 + 34;$	$23 + 36;$	$17 + 32$

9. खेळ खेळूया



- * दहा विद्यार्थी हा खेळ खेळू शकता
- * कागदाच्या 50 चिठ्या कापा त्यावर 1 ते 50 अंक लिहा. त्या चिठ्या एका डब्यात टाका.
- * प्रत्येक विद्यार्थ्याने 2 चिठ्या उचलून त्यावरील अंकाची बेरीज करा व त्यांची नोंद करा.
- * ज्याची बेरीज कमी असेल तो खेळातून बाद होईल.
- * इतर विद्यार्थी प्रत्येक 2 चिठ्या उचलतील व खेळ चालू ठेवतील.
- * जो विद्यार्थी शेवटपर्यंत खेळेल तो विजेता.



सूचनेप्रमाणे तुमच्या विद्यार्थ्यांना खेळ खेळू द्या. त्यांना तोंडी अंकाची बेरीज करावयास समजू द्या त्यांना इतरांनी केलेल्या चूका शोधू द्या.

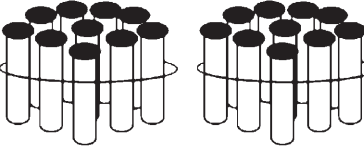
6 अंकाची बेरीज (हातच्याती)

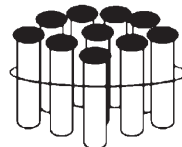


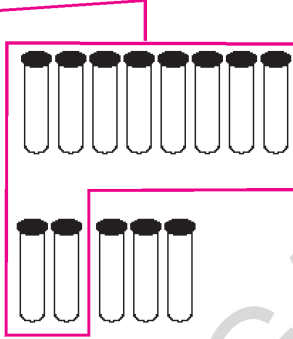
1. दोघांजवळ एकूण किती आहे ते सांगा -

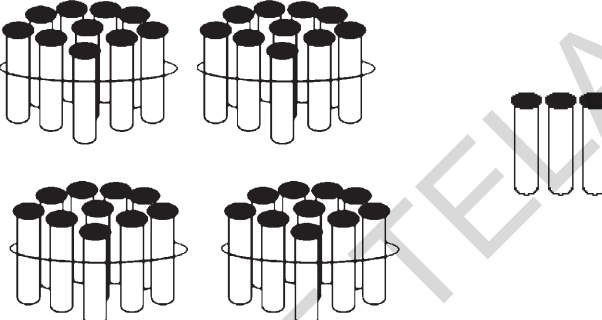
रामूजवळ 28 रुपये आहेत. रंगाजवळ 15 रु. आहेत. आता आपण त्यांच्याजवळ एकूण किती रुपये आहेत हे बघू.

काडयांचा जुडगा आणि मोकळ्या काडया काडया चा उपयोग करून हा प्रश्न सोडवू या.

28 =  $20 + 8$

+15 =  $10 + 5$





$30 + 13$

$30 + 10 + 3$

$= 40 + 3 = 43$

आपण वरील उदाहरण यापद्धतीने देखील सोडवू शकतो.

$$\begin{aligned}
 28 &= 2 \text{ दशक} + 8 \text{ एक क} \\
 +15 &= 1 \text{ दशक} + 5 \text{ एक क} \\
 \hline
 &= 3 \text{ दशक} + 13 \text{ एक क} \\
 &= 3 \text{ दशक} + 10 \text{ एक क} + 3 \text{ एक क} \\
 &= 3 \text{ दशक} + 1 \text{ दशक} + 3 \text{ एक क} \\
 &= 4 \text{ दशक} + 3 \text{ एक क} = 40 + 3 = 43
 \end{aligned}$$

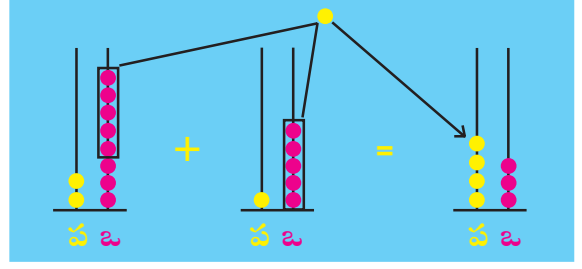
10 एकक एका 10 बरोबर असतात हो की नाही.



विद्यार्थ्यांना हातच्याती बेरीज कशी करावयाची ते समजावून सांगा सराव करून घ्या. नोट, नाणी, काडयांचा जुडगा आणि मोकळ्या काडयांचा उपयोग करून बेरीज करण्यास समजावून घ्या.

2. दोन अंकाची बेरीज कशी केली ते पहा.

$$\begin{array}{r} \text{द ए} \\ 2 \quad 8 \\ +1 \quad 5 \\ \hline \\ \hline \end{array}$$



जेव्हा आपण दशकांची बेरीज करते
 2 दशक + 1 दशक = 3 दशक
 3 दशक + 1 दशक = 4 दशक

$$\begin{array}{r} \text{द ए} \\ \textcircled{1} \\ 2 \quad 8 \\ +1 \quad 5 \\ \hline 4 \quad 3 \end{array}$$

जेव्हा आपण एकाकांची बेरीज करतो
 8 एकक + 5 एकक = 13 एकक
 13 एकक = 1 दशक + 3 एकक

उदा:-

$$\begin{array}{r} \text{द ए} \\ \textcircled{1} \\ 3 \quad 9 \\ +4 \quad 3 \\ \hline 5 \quad 2 \end{array}$$

उत्तर

अ)

$$\begin{array}{r} \text{द ए} \\ 4 \quad 5 \\ +4 \quad 9 \\ \hline \\ \hline \end{array}$$

आ)

$$\begin{array}{r} \text{द ए} \\ 2 \quad 7 \\ +5 \quad 6 \\ \hline \\ \hline \end{array}$$

इ)

$$\begin{array}{r} \text{द ए} \\ 7 \quad 9 \\ +1 \quad 8 \\ \hline \\ \hline \end{array}$$

ई)

$$\begin{array}{r} \text{द ए} \\ 6 \quad 3 \\ +2 \quad 8 \\ \hline \\ \hline \end{array}$$

उ)

$$\begin{array}{r} \text{द ए} \\ 5 \quad 9 \\ +3 \quad 2 \\ \hline \\ \hline \end{array}$$



तुमच्या विद्यार्थ्यांना एकाकांची बेरीज व दशकांची बेरीज कशी करायची ती समजावून सांगा.
 सराव करून घ्या



1. खालील चौकटीत योग्य उत्तरे लिहा:

अ) $48 + 28 = ?$

48 = द श क + एक क

28 = द श क + एक क

द श क + एक क

आ) $24 + 49 = ?$

24 = द श क + एक क

49 = द श क + एक क

द श क + एक क

विद्यार्थ्यांना 1 ते 9 या संरचेची माहिती समजावून सांगा त्यांना उत्तरे स्वतः सोडवू द्या.



2. काडयांचा जुडगा व मोकळ्या काडया घेवुन बेरीज करावयास सांगा.

$$\begin{array}{r} \text{अ) } 4 \ 3 \\ +2 \ 8 \\ \hline \hline \end{array}$$

$$\begin{array}{r} \text{आ) } 3 \ 6 \\ +4 \ 7 \\ \hline \hline \end{array}$$

$$\begin{array}{r} \text{इ) } 5 \ 6 \\ +2 \ 9 \\ \hline \hline \end{array}$$

$$\begin{array}{r} \text{ई) } 7 \ 4 \\ + \ 9 \\ \hline \hline \end{array}$$

$$\begin{array}{r} \text{उ) } 4 \ 5 \\ +2 \ 6 \\ \hline \hline \end{array}$$

$$\begin{array}{r} \text{ऊ) } 5 \ 4 \\ +3 \ 6 \\ \hline \hline \end{array}$$

$$\begin{array}{r} \text{ऋ) } 2 \ 7 \\ +4 \ 9 \\ \hline \hline \end{array}$$

$$\begin{array}{r} \text{ए) } 5 \ 3 \\ +3 \ 7 \\ \hline \hline \end{array}$$

$$\begin{array}{r} \text{ऐ) } 6 \ 1 \\ +2 \ 9 \\ \hline \hline \end{array}$$

$$\begin{array}{r} \text{ओ) } 2 \ 7 \\ +5 \ 3 \\ \hline \hline \end{array}$$

$$\begin{array}{r} \text{औ) } 7 \ 3 \\ +1 \ 9 \\ \hline \hline \end{array}$$

$$\begin{array}{r} \text{क) } 2 \ 9 \\ +4 \ 5 \\ \hline \hline \end{array}$$

3. खालील संख्यांची बेरीज करा.

$$\text{अ) } 37 + 28 = \boxed{}$$

$$\text{आ) } 58 + 24 = \boxed{}$$

$$\text{इ) } 24 + 6 = \boxed{}$$

$$\text{ई) } 9 + 76 = \boxed{}$$

$$\text{उ) } 46 + 27 = \boxed{}$$

$$\text{ऊ) } 17 + 73 = \boxed{}$$

$$\text{ऋ) } 56 + 14 = \boxed{}$$

$$\text{ए) } 49 + 26 = \boxed{}$$

4. खालील उदाहरण तोंडी सोडवा.

उदा: एका बागेत 68 पेहंची झाडी आणि 24 मोसंबीची झाडी आहेत, तर एकूण किती झाडी बागेत आहेत ?

$$\text{पेहंची झाडे} = 68$$

$$\text{मोसंबीची झाडे} = 24$$

$$\text{एकूण झाडे} = \underline{92}$$

● क्रिकेटच्या सामन्यात लक्षण ने 47 धावा केल्या आणि द्राविड ने 26 धावा केल्या तर एकूण दोघांनी मिळून किती धावा केल्या ?

$$\text{लक्ष्मणने केलेल्या धावा} = 47$$

$$\text{द्राविडने केलेल्या धावा} = \underline{26}$$

$$\text{एकूण} = \underline{}$$



वरील प्रत्येक उदाहरण सोडविण्यासाठी तुमच्या विद्यार्थ्यांना सुचना समजावून सांगा. त्यांना उदाहरणे स्वतः सोडवू द्या.

5. खालील तक्त्याचे निरीक्षण करा. त्यामधील ज्या अंकाची बेरीज 36 येते त्या जोड्या खालील उदाहरणाप्रमाणे लिहा.

22	18	10	19
17	15	21	32
12	39	18	33
26	14	34	31

उदा: $19 + 17 = 36$

.....

.....

.....


.....

6. प्रत्येक ओळीतील पहिल्या तीन अंकांचे निरीक्षण करा. आणि पुढील तीन अंक क्रमाने लिहा.

उदा:	2,	4,	6,	8,	10,	12
अ)	5,	10,	15,,,
आ)	3,	5,	7,,,
इ)	20,	30,	40,,,



वरील प्रत्येक उदाहरण सोडविण्यासाठी तुमच्या विद्यार्थ्यांना सूचना समजावून सांगा. त्यांना उदाहरणे स्वतः सोडवू द्या.

7. प्रत्येक ओळीतील अंकाच्या जोडीचे निरीक्षण करा. त्यापैकी एक जोडी वेगळी आहे. ती शोधून काढा त्याभोवती  गोल करा. एक उदाहरण दिलेले आहे.

उदा:	$27 + 46$	$16 + 67$	$26 + 57$	$36 + 47$
अ)	$18 + 19$	$20 + 17$	$20 + 19$	$15 + 22$
आ)	$27 + 35$	$30 + 12$	$40 + 22$	$38 + 24$
इ)	$47 + 35$	$58 + 24$	$40 + 48$	$68 + 14$

8. पहिल्या स्तंभातील संख्यांचे निरीक्षण करा. प्रत्येक जोडीची बेरीज करा. त्यांची बेरीज आडव्या ओळीत दिलेल्या संख्यांच्या दरम्यान येईल त्यापुढे अशी खूण करा.

		$30 - 40$	$40 - 50$	$50 - 60$	$60 - 70$
उदा:	$34 + 12$		<input checked="" type="checkbox"/>		
अ)	$45 + 20$				
अ)	$27 + 11$				
अ)	$36 + 27$				
अ)	$28 + 25$				

9. सोनीने केलेल्या बेरीजेचे निरीक्षण करा. जर कांही चूका असतील तर त्या चूका दुरुस्त करा. अचूक उत्तर () कंसान लिहा.

अ)	48	आ)	53	इ)	60	ई)	39	उ)	76
	+24		+22		+30		+17		+15
	<hr/>		<hr/>		<hr/>		<hr/>		<hr/>
	612		85		80		416		61
	<hr/>		<hr/>		<hr/>		<hr/>		<hr/>
	()		()		()		()		()



वरील प्रत्येक उदाहरण सोडविण्यासाठी तुमच्या विद्यार्थ्यांना सूचना समजावून सांगा. त्यांना उदाहरण स्वतः सोडवू द्या.

7 वजाबाकी



खाली दिलेल्या नोट आणि नाणी कडे बघा. किती उरले ?

माझ्याकडे
45 रु आहेत.



मला 23 रु
दयावयाचे आहे



किती उरले ?



आपण ही क्रिया अशाप्रकारे दाखवू शकतो

दशक	एकक
4	5
- 2	3
2	2

वजाबाकीचे चिन्ह '-' आहे.



तूमच्या विद्यार्थ्यांना वजाबाकीची संकल्पना समजावून सांगा त्यांना नोट आणि नाण्यांचा उपयोग करू द्या. त्यांना वजाबाकीच्या चिन्हाची ओळख करून द्या.



1. विस्तारीत रूपातील वजाबाकी:

		द शक		एक क				
उदा:	45 =	4	+	5	=	40	+	5
	23 =	2	+	3	=	20	+	3
-	22 =	2	+	2	=	20	+	2

हे म्हणजे

द	ए
4	5
- 2	3
2	2

किंवा $45 - 23 = 22$

अ)

		द		ए			
	6	5	=		+		
	- 3	0	=		+		
			=		+		

आ)

		द		ए			
	3	9	=		+		
	-	8	=		+		
			=		+		

इ)

		द		ए			
	8	5	=		+		
	- 4	3	=		+		
			=		+		

ई)

		द		ए			
	6	5	=		+		
	- 3	5	=		+		
			=		+		

उ)

		द		ए			
	9	5	=		+		
	- 9	1	=		+		
			=		+		

ऊ)

		द		ए			
	5	8	=		+		
	- 3	2	=		+		
			=		+		



वरील प्रत्येक उदाहरण सोडविण्यासाठी तुमच्या विद्यार्थ्यांना सूचना समजावून सांगा. त्यांना उदाहरण स्वतः सोडवू द्या.

2. काडयांचा जुडगा आणि मोकळ्या काडयांचा वापर करुन वजाबाकी करणे.

अ) $48 - 26$	आ) $59 - 24$	इ) $68 - 20$	ई) $99 - 69$	उ) $29 - 5$
<u> </u>	<u> </u>	<u> </u>	<u> </u>	<u> </u>
<u> </u>	<u> </u>	<u> </u>	<u> </u>	<u> </u>

ऊ) $69 - 26$	ऋ) $74 - 34$	ए) $85 - 30$	ऐ) $66 - 23$	ओ) $97 - 41$
<u> </u>	<u> </u>	<u> </u>	<u> </u>	<u> </u>
<u> </u>	<u> </u>	<u> </u>	<u> </u>	<u> </u>

औ) $37 - 15$	क) $49 - 4$	ख) $58 - 10$	ग) $79 - 69$	घ) $39 - 3$
<u> </u>	<u> </u>	<u> </u>	<u> </u>	<u> </u>
<u> </u>	<u> </u>	<u> </u>	<u> </u>	<u> </u>

3. खालील संख्यांची वजाबाकी करा.

उदा: $54 - 31 = \boxed{23}$ ई) $35 - 23 = \boxed{\quad}$

अ) $65 - 24 = \boxed{\quad}$ उ) $76 - 30 = \boxed{\quad}$

आ) $49 - 5 = \boxed{\quad}$ ऋ) $75 - 15 = \boxed{\quad}$

इ) $83 - 23 = \boxed{\quad}$ ए) $66 - 61 = \boxed{\quad}$

4. उभ्या ओळीतील संख्येतून पहिल्या आडव्या रेषेतील संख्या वजा करा.

-	60	50	40	30
90	30			
80				
70				

उदा: $90 - 60 = 30$

.....

.....

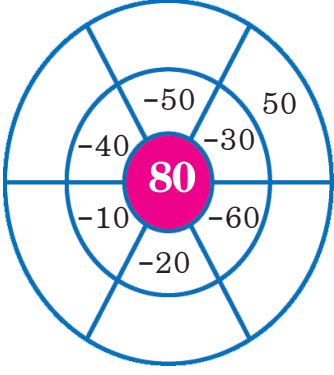
.....

.....



वरील प्रत्येक उदाहरण सोडविण्यासाठी तुमच्या विद्यार्थ्यांना सूचना समजावून सांगा. त्यांना उदाहरण स्वतः सोडवू द्या.

5. दिलेल्या आतील वर्तुळातील 80 या संख्येतून बाजूच्या संख्या वजा करा.



उदा: $80 - 30 = 50$

.....

.....

.....

6. योग्य चिन्हाचा (+ किंवा -) वापर करून रिकाम्या जागा भरा.

35		12	=	23
47		13	=	60
88		22	=	66

7. ज्या वजाबाकीतील फरक 10 आहे ती वजाबाकी लिहा.

उदा: $20 - 10 = 10$

अ) आ)

इ) ई)

8. खालील उदाहरणाचे निरीक्षण करा. रिकाम्या चौकटीत ती संख्या लिहा.

उदा:

60	-	23	=	37
-		-		-
17	-	12	=	5
=		=		=
43	-	11	=	32

(a)

19	-	4	=	
-		-		-
1	-		=	0
=		=		=
	-	3	=	15



प्रत्येक उदाहरण सोडविण्यासाठी तुमच्या विद्यार्थ्यांना सूचना समजावून सांगा. त्यांना उदाहरण स्वतः सोडवू द्या.

9. दिलेल्या तक्त्यातील पहिल्या स्तंभातील संख्यांची वजाबाकी करा. आलेले उत्तर कोणत्या आडव्या संख्येत बसेल त्याला ✓ अशी खूण करा.

उदा:

	20 - 30	30 - 40	40 - 50	50 - 60
39 - 14	✓			
66 - 33				
98 - 50				
57 - 12				
65 - 14				

10. रिकाम्या चौकटीत योग्य ती संख्या लिहा.

अ.	$30 - 0 = \square$
आ.	$95 - \square = 80$
इ.	$12 - 5 = \square$

ई.	$75 - 75 = \square$
उ.	$25 - \square = 25$
ऊ.	$60 - 5 = \square$

11. रिकाम्या चौकटीत योग्य ती संख्या लिहा.

अ)

$$\begin{array}{r} 3 \quad 6 \\ - 1 \quad \square \\ \hline 2 \quad 3 \\ \hline \end{array}$$

आ)

$$\begin{array}{r} 4 \quad 7 \\ - 2 \quad \square \\ \hline 2 \quad 5 \\ \hline \end{array}$$

इ)

$$\begin{array}{r} 7 \quad 5 \\ - 2 \quad \square \\ \hline 5 \quad 0 \\ \hline \end{array}$$

ई)

$$\begin{array}{r} 6 \quad 8 \\ - 3 \quad \square \\ \hline \square \quad 0 \\ \hline \end{array}$$



वरील प्रत्येक उदाहरण सोडविण्यासाठी तुमच्या विद्यार्थ्यांना सूचना समजावून सांगा. त्यांना उदाहरण स्वतः सोडवू द्या.

12. रिकाम्या चौकटीत योग्य ती संख्या लिहा.

36	-	20	=	
+		+		+
17	-	12	=	
=		=		=
	-		=	



13. प्रत्येक ओळीतील वजाबाकीच्या जोडीचे निरीक्षण करा. एक योग्य उत्तर वेगळे आहे. ते शोधून त्याभोवती गोल करा. एक उदाहरण समजावून दिले आहे.

उदा:	47 - 30;	37 - 20;	67 - 50;	<input checked="" type="radio"/> 87 - 40
अ)	36 - 21;	67 - 52;	46 - 32;	26 - 11
आ)	59 - 42;	77 - 16;	47 - 30;	38 - 21
इ)	48 - 15;	77 - 44;	68 - 35;	76 - 53

14. क्रमाने दिलेल्या संख्यांचे निरीक्षण करा. प्रत्येक ओळीतील संख्यांच्या पुढील दोन संख्या लिहा.

उदा:	10, 8, 6, <u>4</u> , <u>2</u> ,
अ)	9, 7, 5, _____, _____
आ)	12, 9, 6, _____, _____
इ)	30, 25, 20, _____, _____



प्रत्येक उदाहरण सोडविण्यासाठी तुमच्या विद्यार्थ्यांना सूचना समजावून सांगा. त्यांना उदाहरण स्वतः सोडवू द्या.

8 संख्याची वजाबाकी (हातच्याची) (दशक मोकळा करुन)



1. नाणी आणि नोटा यांचे निरीक्षण करा. 45-27 किती बाकी उरेल.

लता 45 रु, घेवून दुकानात गेली. तिने 27 रुपयाचे कांटी वस्तू विकत घेतले.

तिच्याजवळचे 45 रुपये तिने दुकानदारास दिले.

दुकानदाराने तिला 8 रुपये परत दिले. ती विचारातपडली की बहुतेक दुकानदाराने आपणास कमी पैसे परत दिले.

तिने खालील प्रमाणे हिशोब केला. हिशोबाचे निरीक्षण करा.



द	ए
4	5
- 2	7



5 या संख्येतून 7 ही संख्या वजा होत नाही मग ती पद्धत कशी करायची ?

द	ए
4	5
- 2	7



हे सोपे आहे जर आपण एक दशकाचे 10 एकक करू. एक दशक = 10 एकक



विद्यार्थ्यांना हातच्याची वजाबाकीची पद्धत समजावून द्या. त्यांना नोटा आणि नाण्यांचा 3 पयोग करुन दोन अंकी वजाबाकी करावयास शिकवा.

द	ए
4	5
- 2	7



एक दशकाला बदलून त्याला एककान रूपांतर करू. 3 दशक, उरले आता आपण 10 एकक आणि 5 एककची बेरीज करू.



द	ए
4	5
- 2	7



45 या संख्येतून 27 (2 दशक 7 एकक) वजा करावयास असल्यास.

द	ए
4	5
- 2	7
1	8



एक दशक आणि 8 एकक उरतील. म्हणजेच 18 बाकी उरेल.



विद्यार्थ्यांना हातच्याची वजाबाकीची पद्धत समजावून द्या. त्यांना नोटा आणि नाण्यांचा 3 पयोग करून दोन अंकी वजाबाकी करावयास शिकवा.

आपण याला वेगवेगळ्या पद्धतीने करू शकतो.

* जर 4 दशकास बदलून एकाकात करू, तेव्हा 3 दशक येती.

* 3 दशक - 2 दशक = एक दशक

द	ए
4	5
- 2	7
<hr/>	
1	8

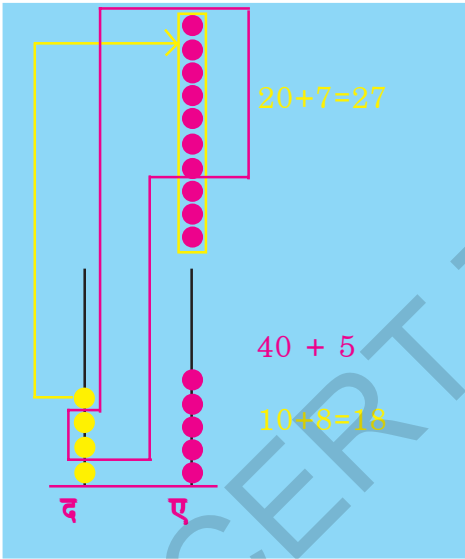
* 5 ही संख्या 7 पेक्षा लहान

* 4 दशकात बदलून 1 एकक केल्यास त्यात 5 मिळविले असता 15 संख्या येईल

* 15 एकक - 7 एकक = 8 एकक

किंवा

1 दशक = 10 एकक



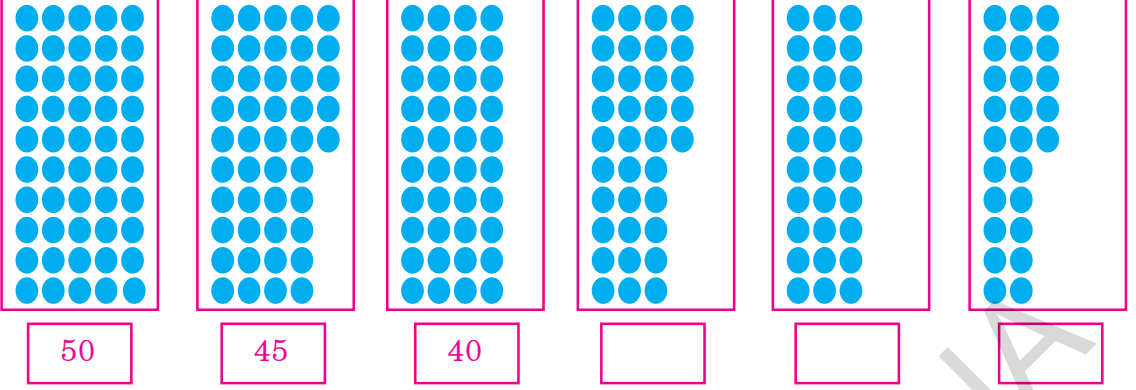
द	ए
3	15
4	5
- 2	7
<hr/>	
1	8



विद्यार्थ्यांना सगळ्या पद्धतीने वजाबाकी करावयास शिकविणे. त्यांना नाणी आणि नोटा द्वारे दोन अंकी वजाबाकी शिकविणे.

2. खालील संख्याचा क्रम पाहा तुम्हाला यात काय समजले.

50, 45, 40, _____, _____, _____



जर ठिपके 5 च्या उतरत्या क्रमाने आढळले असतील याचा अर्थ यापुढील तीन संख्या त्याच क्रमाने लिहू शकतो.

50, 45, 40, 35, 30, 25

याच प्रमाणे खालील संख्यांच्या पुढील तीन संख्या क्रमाने लिहा.

50, 48, 46, _____, _____, _____

3. खेळ खेळूया: 80, 75, 70, _____, _____, _____

- ★ दोन विद्यार्थी हा खेळ खेळू शकतात.
- ★ 0 ते 5 आणि 4 ते 9 या क्रमांकाच्या दोन सोंगट्या तयार करा.
- ★ दोन्ही एकाच वेळेस ओंजळीत घोळून खाली टाका.
- ★ सोंगट्या वरील आकडयावरून दोन अंकी संख्या तयार होईल तिची नोंद करा. उदा. दे अंक 4 आणि 5. याच्या अर्थ ती संख्या 45 आणि 54.
- ★ मोठ्या संख्येतून लहान संख्या वजा करा.

उदा: $54 - 45 = 09$

- ★ दुसरा विद्यार्थी देखिल असेच करेल.
- ★ ज्या विद्यार्थ्याची वजाबाकी जास्त येईल. त्याला एक गुण देण्यात यावा.
- ★ असे 5 वेळेस करतील (खेळतील)
- ★ ज्यांची गुणसंख्या जास्त तो विजेता.



ठराविक क्रमाच्या संख्येमधील फरक ओळखण्याची सराव करून घ्या. पुढील संख्या त्यांना लिहायला लावा. वरील खेळ त्यांना खेळायला लावा.



1. खालील संख्येचे वजाबाकी करा.

$$\begin{array}{r} \text{अ) } 3 \ 4 \\ -1 \ 8 \\ \hline \hline \end{array}$$

$$\begin{array}{r} \text{आ) } 8 \ 2 \\ -5 \ 7 \\ \hline \hline \end{array}$$

$$\begin{array}{r} \text{इ) } 6 \ 4 \\ -3 \ 9 \\ \hline \hline \end{array}$$

$$\begin{array}{r} \text{ई) } 9 \ 2 \\ -4 \ 6 \\ \hline \hline \end{array}$$

$$\begin{array}{r} \text{उ) } 4 \ 8 \\ -3 \ 9 \\ \hline \hline \end{array}$$

$$\begin{array}{r} \text{ऊ) } 6 \ 5 \\ -4 \ 8 \\ \hline \hline \end{array}$$

$$\begin{array}{r} \text{ऋ) } 7 \ 6 \\ -5 \ 8 \\ \hline \hline \end{array}$$

$$\begin{array}{r} \text{ए) } 5 \ 0 \\ -2 \ 8 \\ \hline \hline \end{array}$$

$$\begin{array}{r} \text{ऐ) } 6 \ 0 \\ -4 \ 2 \\ \hline \hline \end{array}$$

$$\begin{array}{r} \text{ओ) } 7 \ 0 \\ -3 \ 9 \\ \hline \hline \end{array}$$

$$\begin{array}{r} \text{औ) } 9 \ 1 \\ -2 \ 3 \\ \hline \hline \end{array}$$

$$\begin{array}{r} \text{क) } 6 \ 4 \\ -2 \ 5 \\ \hline \hline \end{array}$$

2. वजाबाकी करा.

$$\text{अ) } 75 - 29 =$$

$$\text{आ) } 87 - 58 =$$

$$\text{इ) } 83 - 59 =$$

$$\text{ई) } 61 - 25 =$$

$$\text{उ) } 84 - 39 =$$

$$\text{ऊ) } 73 - 26 =$$

$$\text{ऋ) } 62 - 38 =$$

$$\text{ए) } 55 - 27 =$$

3. खालील तक्त्याचे निरीक्षण करा. ज्या दोन संख्येतील जोड्या मधील अंकाचा फरक 25 असेल त्या शोधा, त्याची वजाबाकी दिलेल्या रेषेवर करा.

50	49	5
40	15	30
24	10	25

$$\text{उदा: } 50 - 25 = 25$$



वरील अभ्यास क्रमातील प्रत्येक उदाहरण समजून घेण्यासाठी विद्यार्थ्यांना सूचित करा. त्यांना 1 ते 7 उदाहरणे स्वतः करायला लावा.

4. खाली दिलेल्या प्रत्येक दोन अंकी जोडीची वजाबाकी करा. ज्या वजाबाकीचे उत्तर वेगळे आहे त्यापुढे ✓ अशी खूण करा. एक उदाहरण दिलेले आहे.

उदा:-	$32 - 18;$	$30 - 16;$	$54 - 40;$	$84 - 54$ ✓
अ)	$76 - 29;$	$50 - 15;$	$68 - 33;$	$71 - 36$
आ)	$55 - 35;$	$60 - 40;$	$36 - 16;$	$68 - 58$

5. माधवीने केलेल्या वजाबाकीचे निरीक्षण करा जर त्यात चूक असेल तर बरोबर उत्तर कंसात लिहा ().

अ)	54	आ)	68	इ)	30	ई)	76	उ)	84
	-38		-29		-14		-58		-79
	24		49		24		18		105
	()		()		()		()		()

6. पहिल्या स्तंभातील संख्याची वजाबाकी करा. तुमचे उत्तर आडव्या ओळीतील ज्या संख्येच्या दरम्यान असेल त्यापुढे ✓ अशी खूण करा. एक उदाहरण दिलेले आहे.

	$30 - 40$	$40 - 50$	$50 - 60$	$60 - 70$
उदा:-	$76 - 28$	✓		
	$50 - 19$			
	$82 - 23$			
	$73 - 15$			
	$64 - 17$			

7. खालील संख्यांच्या क्रमाने त्यापुढील तीन संख्या लिहा.

अ) 60, 50, 40, _____, _____, _____

आ) 85, 80, 75, _____, _____, _____

इ) 54, 45, 36, _____, _____, _____



प्रत्येक उदाहरण सोडविण्यासाठी तुमच्या विद्यार्थ्यांना सूचना समजावून सांगा. त्यांना उदाहरण स्वतः सोडवू द्या.

9 संख्याचा गुणाकार - ।



1. खालील चित्रे पहा. झाडांच्या ओळींचे निरीक्षण करा. ते एकूण किती आहेत ते सांगा.



शिक्षक : तुला झाडांच्या उंचीप्रमाणे किती रांगा दिसत आहेत.

रवि : दोन रांगा.

शिक्षक : प्रत्येक रांगेत किती झाडे आहेत. एकूण संख्या किती ?

रवि : प्रत्येक रांगेत 6 झाडे आहेत. एकूण संख्या $6+6=12$ याचा अर्थ दोन रांगामध्ये प्रत्येकी 6 झाडे आहेत. आपण ते असे लिहू शकतो $2 \times 6 = 12$ याचा अर्थ दोन वेळेस 6 मिळविल्यास.

शिक्षक : रहीम झाडांच्या जाडीवरून तुला किती झाडे दिसत आहेत.

रहीम : 6 रांगा.

शिक्षक : प्रत्येक रांगेत किती झाडे आहेत. ते किती आहेत ?

रहीम : तिथे प्रत्येक रांगेमध्ये दोन झाडे आहेत. त्यांची एकूण संख्या $2 + 2 + 2 + 2 + 2 + 2 = 12$

याचा अर्थ 6 रांगेत 2 झाडे आहेत

ते आपण असे लिहू $6 \times 2 = 12$

याचा अर्थ 6 वेळेस 2 ची बेरीज करणे.

पुन्हा पुन्हा संख्या मिळविणे याला बेरीजेची पुनरावृत्ती म्हणतात. बेरीजेची पुनरावृत्ती म्हणजे गुणाकार होय.

$$2 \times 6 = 12$$

$$6 \times 2 = 12$$

इथे आपण \times असे चिन्ह वापरले त्याला गुणाकाराचे चिन्ह म्हणतात.


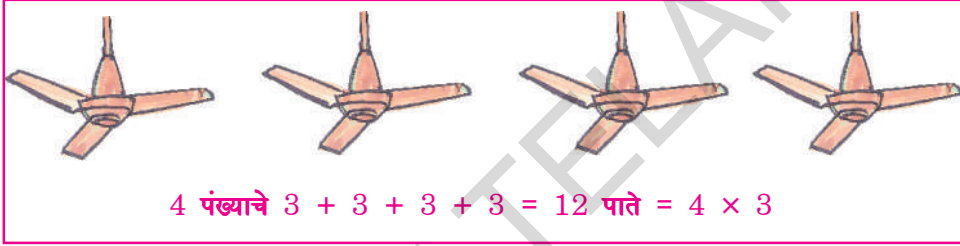

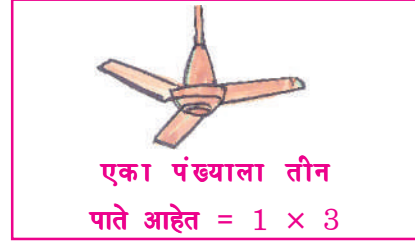

एकूण बेरीज/लागोपाठ येणारी बेरीज हे गुणाकाराचे दुसरे रूप ?

वरील चित्रातद दाखविल्याप्रमाणे तुमच्या विद्यार्थ्यांना एकूण झाडे, झाडांच्या रांगा व प्रत्येक रांगेतील झाडे याचा वापर करून गुणाकाराचा संदर्भ शोधण्यास सांगा. त्यांना गुणाकाराचा चिन्हाची ओळख करून द्या.



2. खालील पंख्याचे चित्र पहा. त्याची पाते मोजा. ते किती आहेत.

संख्याचा गुणाकार:



आता तुम्ही गुणाकाराने पाढा तयार करा.

$$1 \times 3 = 3$$

$$2 \times 3 = 6$$

$$3 \times 3 = 9$$

$$4 \times 3 = 12$$

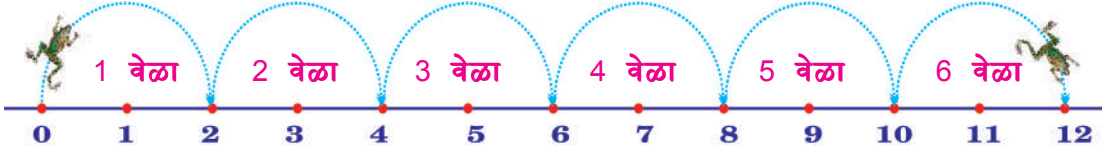
$$5 \times 3 = 15$$

3, 6, 9, 12, 15 ही संख्या आहे.



विद्यार्थ्यांना पंख्याच्या पात्यांची ओळख करून गुणाकार करावयास शिकवा. उत्तर कशाप्रकारे येईल याचा सराव करून द्या.

3. खाली चित्रात बेडूकाची उडी दाखविली आहे. एक वेळेस 2 फूट उडी दाखविली आहे. खालच्या तक्त्याचे अवलोकन करून रिकाम्या चौकटीत योग्य संख्या लिहा.



उडयांची संख्या	फूटाचे अंतर	संख्या	गुणाकारच्या रूपात
1	2	2	$1 \times 2 = 2$
2	$2 + 2$	4	$2 \times 2 = 4$
3	$2 + 2 + 2$	6	$3 \times 2 =$
4			$4 \times 2 =$
5			
6			
7			
8			
9			
10			



विद्यार्थ्यांना वरील तक्त्याचे निरीक्षण करण्यास सांगणे. बेडूकाने मारलेल्या उडीची संख्या मोजा. प्रत्येक उडीची संख्या गुणाकाराच्या रूपात लिहा.



3. दिलेल्या बोटांचे चित्र मोजा. रिकाम्या चौकटीत योग्य उत्तर लिहा.



एका हाताच्या बोटांची संख्या =

$$5 = 1 \times 5 = 5$$

दोन हाताच्या बोटांची संख्या =

$$5 + 5 = 2 \times 5 = 10$$

तीन हाताच्या बोटांची संख्या =

$$\square + \square + \square = \square \times \square = \square$$

चार हाताच्या बोटांची संख्या =

$$\square + \square + \square + \square = \square \times \square = \square$$

पाच हाताच्या
बोटांची संख्या =

$$\square + \square + \square + \square + \square = \square \times \square = \square$$



विद्यार्थ्यांना प्रत्येक उदाहरणाची सूचना द्या. त्या 1 ते 10 उदाहरणे स्वतः सोडवू द्या.

2. खालील बेरीजा गुणाकाराच्या रूपात लिहा.

उदा: $4 + 4 + 4 + 4 + 4 = \boxed{5} \times \boxed{4} = \boxed{20}$

अ) $7 + 7 + 7 + 7 = \boxed{} \times \boxed{} = \boxed{}$

आ) $3 + 3 + 3 + 3 + 3 + 3 + 3 = \boxed{} \times \boxed{} = \boxed{}$

इ) $6 + 6 + 6 + 6 + 6 = \boxed{} \times \boxed{} = \boxed{}$

ई) $2 + 2 + 2 + 2 + 2 + 2 = \boxed{} \times \boxed{} = \boxed{}$

3. खालील गुणाकार बेरीजेच्या पुनरावृत्ती रूपात लिहा. एक उदाहरण दिलेले आहे.

उदा: $7 \times 8 = \boxed{8 + 8 + 8 + 8 + 8 + 8 + 8}$

अ) $3 \times 4 = \boxed{}$

आ) $6 \times 5 = \boxed{}$

इ) $8 \times 3 = \boxed{}$

ई) $5 \times 2 = \boxed{}$

उ) $4 \times 6 = \boxed{}$



विद्यार्थ्यांना प्रत्येक उदाहरणाची सूचना समजावून द्या. त्यांना स्वतः ती उदाहरणे सोडवावयास सांगा.

4. स्तंभातील आणि ओळीतील ठिपके मोजा. खालील तक्ता भरा. गुणाकाराच्या रूपात लिहा.

ठिपके	स्तंभातील	ओळीतील	गुणाकाराच्या रूपात
	5	3	$5 \times 3 = 15$
	3	5

$$5 \times 3 = 3 \times 5 = 15$$

$$_ \times _ = _ \times _ = _$$

5. संख्येचा गुणाकार दिलेला आहे.

अ) $4 \times 5 =$

आ) $3 \times 4 =$

इ) $5 \times 2 =$

ई) $8 \times 6 =$



6. पहिल्या स्तंभातील संख्येला वरच्या ओळीतील संख्यांने गुणा. रिकाम्या चौकटीत बरोबर उत्तर लिहा.

×	4	6	7	8	9
2	8				
3					
5					

उदा:- $2 \times 4 = 8$



विद्यार्थ्यांना उदाहरणे व्यवस्थित समजावून सांगा. त्यांना स्वतःला उदाहरणे सोडवावयास सांगा.

7. प्रत्येक ओळीत तीन गुणाकार दिलेला आहे, त्यापैकी एक वेगळे उत्तर आहे. त्यांना ओळखून त्या संख्येभोवती \bigcirc गोल करा. एक उदाहरणार्थ दिलेले आहे.

उदा:	4×3 ;	6×2 ;	5×4
अ)	2×8 ;	4×4 ;	3×4
आ)	6×6 ;	7×6 ;	9×4
इ)	8×5 ;	8×3 ;	6×4

8. रिकाम्या चौकटीत योग्य उत्तर लिहा.

उदा: $\boxed{3} \times \boxed{4} = \boxed{4} \times \boxed{3}$

अ) $\boxed{5} \times \boxed{6} = \boxed{6} \times \boxed{\quad}$

आ) $\boxed{2} \times \boxed{5} = \boxed{\quad} \times \boxed{\quad}$

इ) $\boxed{\quad} \times \boxed{\quad} = \boxed{8} \times \boxed{7}$

ई) $\boxed{3} \times \boxed{\quad} = \boxed{9} \times \boxed{3}$



9. योग्य जोड्या लावा:

$2 + 2 + 2 + 2$ गुणाकार पद्धत	27
9×3	6×3
2×3	12
$3 + 3 + 3 + 3 + 3 + 3$	$5 + 5 + 5$
सहा सायकलीच्या चाकांची संख्या	4×2
3×5	3×2


उदाहरणार्थ



विद्यार्थ्यांना प्रत्येक उदाहरण समजावून त्यांना सराव करून घ्यावा.

10. खेळ खेळूया

1	2	3	4	5	6
7	8	9	10	11	12
13	14	15	16	17	18
19	20	21	22	23	24
25	26	27	28	29	30
31	32	33	34	35	36



- ★ दोन विद्यार्थी हा खेळ खेळू शकता.
 - ★ दोन सोंगट्या घेऊन त्यावर 1, 2, 3, 4, 5, आणि 6 संख्या लिहा.
 - ★ दोन्ही सोंगट्या हातात घोळवून जमिनीवर टाका.
 - ★ सोंगट्याच्या दोन्ही बाजूला दिसणाऱ्या संख्यांचा गुणाकार करा. वरील तक्त्यावर आलेल्या उत्तराची संख्यावर खूण करा.
- उदा: सोंगट्यावरील संख्या 2, 5
- $$2 \times 5 = 10$$
- ★ दुसऱ्याने देखिल परत असेच करावे. तक्त्यावर परत तशीच खूण करावी.
 - ★ समान संख्या आल्यास खूण करू नये. दुसऱ्या विद्यार्थ्याला संधी दयावी.
 - ★ दहा वेळेस असेच खेळल्यानंतर, ज्याने तक्त्यामध्ये जास्त मार्कांची खूण केली असेल तो विजेता होईल.



विद्यार्थ्यांना खेळण्याचे नियम समजावून सांगावे. त्यांना छोट्या छोट्या संख्यांचा गुणाकार करावयास दयावा.

10 गुणाकाराचा पाढा (1 ते 10)



खाली दिलेल्या माळीतील मण्या मोजा. ते किती आहेत ते सांगा.



$$10+10 = 2 \times 10 = 20$$

2 दशक म्हणजे 20 मण्या

त्याचप्रमाणे तुम्ही सांगू शकताल का की 3, 4, 5, 6, 7, 8, 9 आणि 10 संख्येच्या माळीमध्ये किती मण्या आहेत.

माळांची संख्या	सरला माळीतील मण्या मोजून खालीलप्रमाणे संख्या लिहीली.		
1	10	1 दशक	$1 \times 10 = 10$
2	$10 + 10$	2 दशक	$2 \times 10 = 20$
3	$10 + 10 + 10$	3 दशक	$3 \times 10 = 30$
4	$10 + 10 + 10 + 10$	4 दशक	$4 \times 10 = 40$
5	$10 + 10 + 10 + 10 + 10$	5 दशक	$5 \times 10 = 50$
6	$10 + 10 + 10 + 10 + 10 + 10$	6 दशक	$6 \times 10 = 60$
7	$10 + 10 + 10 + 10 + 10 + 10 + 10$	7 दशक	$7 \times 10 = 70$
8	$10 + 10 + 10 + 10 + 10 + 10 + 10 + 10$	8 दशक	$8 \times 10 = 80$
9	$10 + 10 + 10 + 10 + 10 + 10 + 10 + 10 + 10$	9 दशक	$9 \times 10 = 90$
10	$10 + 10 + 10 + 10 + 10 + 10 + 10 + 10 + 10 + 10$	10 दशक	$10 \times 10 = 100$



विद्यार्थ्यांना वेगवेगळ्या वस्तूंचा समूह करून मोजून अशा गुणाकाराच्या तक्त्याप्रमाणे लिहायला सांगा.



1. खालील 5 बेरीजेची पुनरावृत्ती पाहा. 5 चा पाढा गुणाकार पद्धतीने लिहा.

एक पाच	5	$1 \times 5 = 5$
दोन पाच	5 + 5	$2 \times 5 = 10$
तीन पाच	5 + 5 + 5	
चार पाच	5 + 5 + 5 + 5	
पाच पाच	5 + 5 + 5 + 5 + 5	
सहा पाच	5 + 5 + 5 + 5 + 5 + 5	
सात पाच	5 + 5 + 5 + 5 + 5 + 5 + 5	
आठ पाच	5 + 5 + 5 + 5 + 5 + 5 + 5 + 5	
नऊ पाच	5 + 5 + 5 + 5 + 5 + 5 + 5 + 5 + 5	
दहा पाच	5 + 5 + 5 + 5 + 5 + 5 + 5 + 5 + 5 + 5	

2. 2 चा पाढा गुणाकार पद्धतीने कसा लिहीला ते पाहा. त्याचप्रमाणे चौकोन रेखांकीत वरून उ पा लिहा.

2 चा पाढा

3 चा पाढा

$2 \times 1 = 2$

$2 \times 3 = 6$

$2 \times 4 = 8$

$2 \times 5 = 10$

$2 \times 6 = 12$


$2 \times 7 = 14$

$2 \times 8 = 16$

$2 \times 9 = 18$


$2 \times 10 = 20$

$3 \times 1 = 3$



विद्यार्थ्यांना उदाहरणे करताना समजावून सांगणे. त्यांना उदाहरणे स्वतःलाच करू द्या. त्यांना स्वतः लाच 1 ते 11 सगळे पाढे लिहावयास सांगा

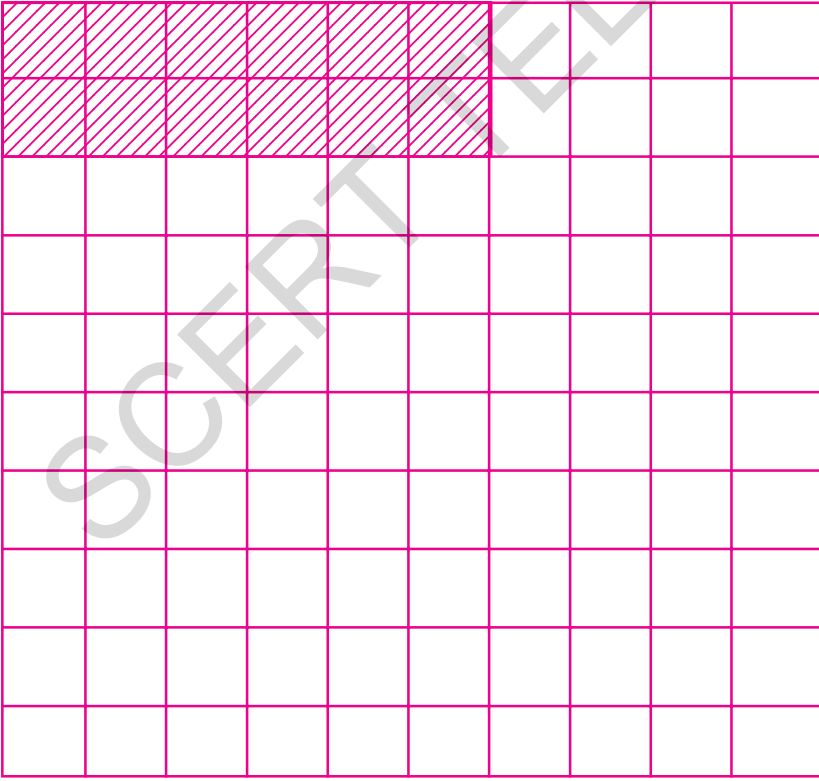
3. 4 चा पाढा गुणाकार पद्धतीने लिहा.



$4 \times 1 = 4$

$4 \times 2 = 8$

4. 6 चा पाढा गुणाकाराच्या पद्धतीने लिहा.




$6 \times 1 = 6$

$6 \times 2 = 12$



विद्यार्थ्यांना उदाहरणे समजावून कांही सूचना द्या. त्यांना उदाहरणे स्वतः करू द्या.

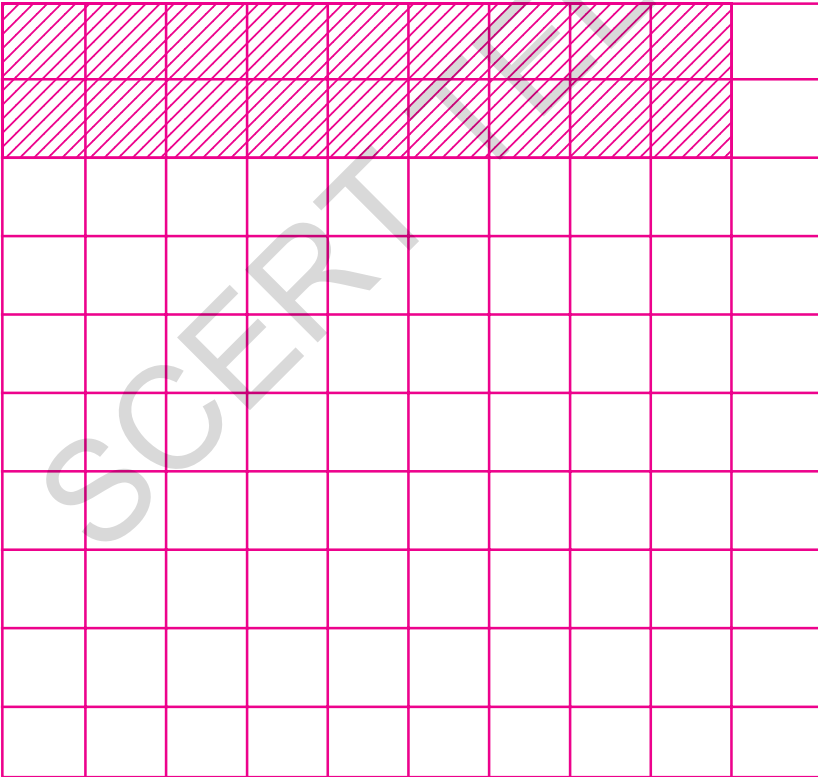
5. 7 चा पाढा गुणाकार पद्धतीने लिहा.



$$7 \times 1 = 7$$

$$7 \times 2 = 14$$

6. 9 चा पाढा गुणाकार पद्धतीने लिहा.



$$9 \times 1 = 9$$

$$9 \times 2 = 18$$



विद्यार्थ्यांना उदाहरणे माहिती समजावून द्या. त्यांना उदाहरणे स्वतः सोडवावयास सांगा.


7. खालील तक्ता पहा. 3 चा पाढा कसा लिहीला आहे तो पहा. त्याप्रमाणे 6 चा पाढा लिहा.

2 चा पाढा	2	4	6	8	10	12	14	16	18	20
1 चा पाढा +	1	2	3	4	5	6	7	8	9	10
3 चा पाढा	3	6	9	12	15	18	21	24	27	30

6 चा पाढा लिहा.

5 चा पाढा	5	10								
1 चा पाढा +	1	2								
6 चा पाढा	6	12								

8. खाली दिलेले फुले मोजा. रिकाम्या चौकटीत वरील कुंडीतील पुलांची संख्या लिहा.



9. 0 (शून्याचा) चा पाढा लिहा.

1 शून्य		$1 \times 0 = 0$
2 शून्य		$2 \times 0 = 0$
3 शून्य		$3 \times 0 = 0$
4 शून्य	
5 शून्य	
6 शून्य	
7 शून्य	
8 शून्य	
9 शून्य	
10 शून्य	

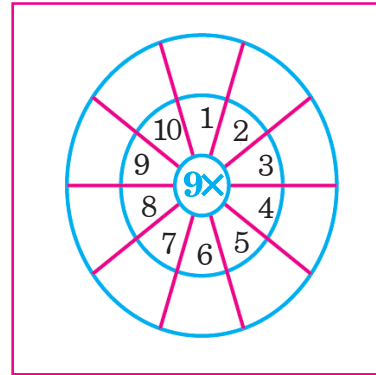
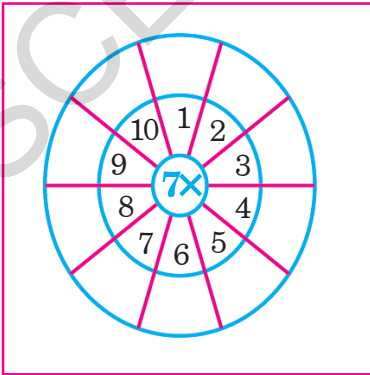


विद्यार्थ्यांना उदाहरणे माहिती समजावून द्या. त्यांना उदाहरणे स्वतः सोडवावयास सांगा.

10. खालील गुणाकाराच्या तक्त्यातील रिकाम्या चौकटीत योग्य ती संख्या लिहा.

×	1	2	3	4	5	6	7	8	9	10
1	1									
2			6							
3										
4							28			
5		10								
6									54	
7				28						
8										80
9					45					
10								80		

11. पहिल्या तक्त्यामध्ये 7 ने आणि दुसऱ्या तक्त्यामध्ये 9 ते बाकीच्या प्रत्येक संख्येला गुणाकार करून आलेले उत्तर रिकाम्या चौकटीत लिहा.




विद्यार्थ्यांना प्रत्येक उदाहरण समजावून सांगणे आणि त्यांना स्वतः उदाहरण सोडवावयास सांगणे त्यांच्याकडून सराव करून घ्यावा.

11 संख्याचा गुणाकार - 2




1. खालील पेन्सिली मोजा. त्या किती आहेत ?

गीता लताला म्हणते, “एका पाँकेटमध्ये 15 पेन्सिली आहेत.” तर 3 पाँकेटमध्ये किती पेन्सिली असतील, लताने खालीलप्रमाणे मोजून घेतले. तुम्ही निरीक्षण करा. किती पेन्सिली आहेत ते मोजा.



$15 + 15 + 15$
 जर $15 \times 3 = 45$

=



4 दशक + 5 एकक
 $= 40 + 5 = 45$

आपण दुसऱ्या पद्धतीने देखिल करू शकतो

$$\begin{array}{r}
 15 \\
 \times 3 \\
 \hline
 \end{array}
 =
 \begin{array}{r}
 10 + 5 \\
 \times 3 \\
 \hline
 30 + 15 \\
 \hline
 30 + 10 + 5 \\
 \hline
 40 + 5 \\
 \hline
 45
 \end{array}$$

किंवा

दशकाचा गुणाकार

$$3 \times 1 = 3 \text{ दशक}$$

$$3 \text{ दशक} + 1 \text{ दशक} = 4 \text{ दशक}$$

द	ए
①	
1	5
×	3
4	5

एकाचा गुणाकार

$$5 \times 3 = 15 \text{ एकक}$$

$$15 \text{ एकक} = 1 \text{ दशक} + 5 \text{ एकक}$$



विद्यार्थ्यांना गुणाकाराचे निरीक्षण करायला सांगा. गुणाकाराचे उदाहरण समजून घ्या.

2. खालील गुणाकाराचे निरीक्षण करा. दूसरे उदाहरण याच पद्धतीने सोडवा.

$$\begin{array}{r}
 \text{द} \quad \text{ए} \\
 3 \quad 6 \\
 \times \quad 6 \\
 \hline
 \hline
 \end{array}
 = 30 + 6 \\
 \times 3 \\
 \hline
 = 30 \times 3 + 6 \times 3 \\
 = 90 + 18 \\
 = 90 + 10 + 8 \\
 = 100 + 8 \\
 = 108$$

$$\begin{array}{r}
 \text{द} \quad \text{ए} \\
 3 \quad 6 \\
 \times \quad 3 \\
 \hline
 10 \quad 8 \\
 \hline
 \hline
 \end{array}$$

$$\begin{array}{r}
 \text{द} \quad \text{ए} \\
 3 \quad 6 \\
 \times \quad 3 \\
 \hline
 \hline
 \end{array}
 = 6 \text{ एकक} \times 3 = 18 \text{ एकक} = 1 \text{द} + 8 \text{ एकक} \\
 = 3 \text{ दशक} \times 3 = 9 \text{ द} \\
 \hline
 = 10 \text{द} + 8 \text{ एकक} \\
 \hline
 = 100 + 8 \\
 = 108$$

रिकाम्या चौकटीत योग्य ती संख्या लिहा.

अ)

$$\begin{array}{r}
 4 \quad 7 \\
 \times \quad 2 \\
 \hline
 \hline
 \end{array}
 = 40 + 7 \\
 \times 2 \\
 \hline
 = \square + \square \\
 = \square + \square + \square \\
 = \square + \square \\
 = \square$$

आ)

$$\begin{array}{r}
 2 \quad 4 \\
 \times \quad 4 \\
 \hline
 \hline
 \end{array}
 = 20 + \square \\
 \times 4 \\
 \hline
 = 80 + 16 \\
 = \square + \square + \square \\
 = \square + \square \\
 = \square$$



विद्यार्थ्यांना गुणाकाराच्या पद्धतीचे निरीक्षण करावयास सांगणे. त्यांना रिकाम्या चौकटीत योग्य संख्या लिहावयास लावणे.



1. खालील संख्यांचा गुणाकार करा.

अ)
$$\begin{array}{r} \text{द} \quad \text{ए} \\ 1 \quad 9 \\ \times \quad 5 \\ \hline \end{array}$$

आ)
$$\begin{array}{r} \text{द} \quad \text{ए} \\ 2 \quad 8 \\ \times \quad 2 \\ \hline \end{array}$$

इ)
$$\begin{array}{r} \text{द} \quad \text{ए} \\ 2 \quad 4 \\ \times \quad 3 \\ \hline \end{array}$$

ई)
$$\begin{array}{r} \text{द} \quad \text{ए} \\ 1 \quad 5 \\ \times \quad 6 \\ \hline \end{array}$$

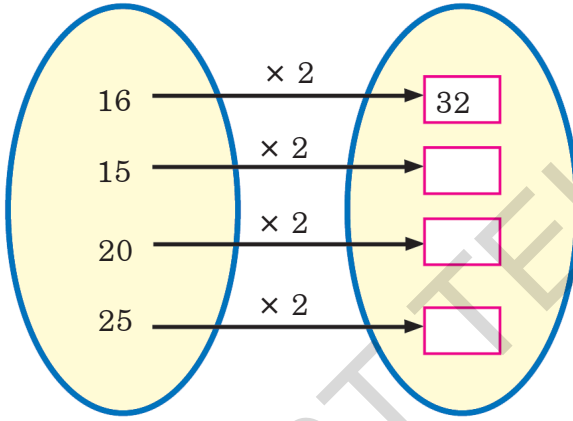
उ)
$$\begin{array}{r} \text{द} \quad \text{ए} \\ 3 \quad 3 \\ \times \quad 4 \\ \hline \end{array}$$

ऊ)
$$\begin{array}{r} \text{द} \quad \text{ए} \\ 1 \quad 9 \\ \times \quad 2 \\ \hline \end{array}$$

ऋ)
$$\begin{array}{r} \text{द} \quad \text{ए} \\ 2 \quad 6 \\ \times \quad 3 \\ \hline \end{array}$$

ए)
$$\begin{array}{r} \text{द} \quad \text{ए} \\ 1 \quad 8 \\ \times \quad 7 \\ \hline \end{array}$$

2. दिलेल्या संख्येला 2 ने गुणाकार करून आलेले उत्तर रिकाम्या चौकटीत लिहा.



3. पहिल्या स्तंभातील संख्येला आडव्या ओळीतील संख्येने गुणा खालील उत्तर उदाहरणाप्रमाणे लिहा.

×	5	6	7	8
12	60			
14				
16				
18				

उदा: $12 \times 5 = 60$



विद्यार्थ्यांना प्रत्येक उदाहरणाच्या सूचना द्या. त्यांना स्वतः लाच 1 ते 6 उदाहरणे कर द्या.

4. दिलेल्या ओळीतील पहिल्या तीन संख्यांचे निरीक्षण करा. नंतरच्या 3 संख्या क्रमाने लिहा.

अ) 2, 4, 6, _____, _____, _____

आ) 5, 10, 15, _____, _____, _____

इ) 7, 14, 21, _____, _____, _____

ई) 9, 18, 27, _____, _____, _____



5. खाली दिलेल्या संख्येमध्ये वेगळी संख्या शोधा. त्याला \bigcirc गोल करा. उदाहरण दिलेले आहे.

उदा: 3, 6, 9, \bigcirc 11, 15, 18

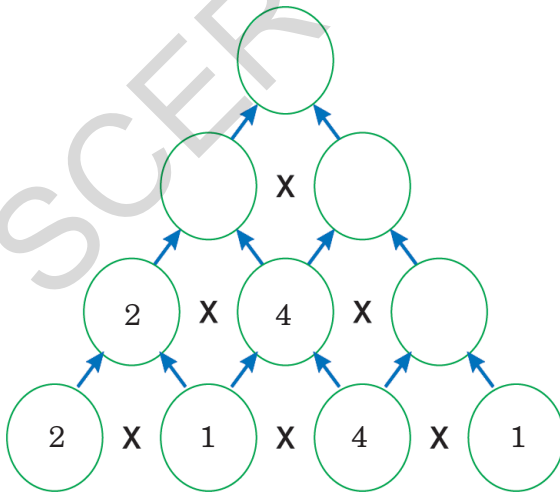
अ) 5, 10, 15, 21, 25, 30

आ) 8, 16, 24, 32, 38, 48

इ) 6, 12, 18, 24, 30, 32

ई) 7, 14, 21, 25, 35

6. दिलेल्या बाणाप्रमाणे संख्येचा गुणाकार करा. उत्तर रिकाम्या वर्तुळात (गोलात) लिहा.




विद्यार्थ्यांना दिलेल्या सूचनेप्रमाणे उदाहरणे सोडवण्याचा सराव करून घ्या.

12 एका संख्येने दुसऱ्या संख्येला भाग देणे



1. आंब्यांची संख्या मोजा, किती समान ढीग आहेत ?



वरील टोपलीत एकूण किती आंबे =

प्रत्येक टोपलीत असेलेल्या आंब्यांची संख्या



20 आंब्यांमधून 5 आंब्यांचा एकूण किती ढीग रचला ?

जेव्हा 20 आंब्यांमधून 5 आंब्यांचा ढीग रचला, तेव्हा 4 ढीग तयार होतात.

म्हणजेच आपण जेव्हा 20 संख्येला 5 ने

भाग देतो तेव्हा 4 उत्तर येते.

आपण असे लिहू या $20 \div 5 = 4$


एकूण आंब्यांमधून मोजून
समप्रमाणात रचल्यावर
नंतर त्याचा किती ढीग
तयार होतील हे काढू
शकतो

भागाकाराचे चिन्ह \div



विद्यार्थ्यांना निरीक्षण करून बघावयास सांगणे कि प्रत्येक ढीग मध्ये समान फळे आहेत. एकूण किती ढीग झाले ते विचारा. भागाकाराचे चिन्ह व पद्धती समजून देण्यास मदत करणे.

2. 15 गोटांचा 5 मुलांना समप्रमाणात वाटायचे.




एकूण गोटांचा = 15



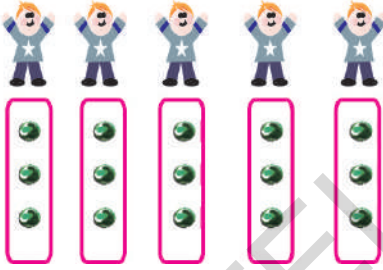
पहिल्या वेळेस वाटल्या =

बाकी उरलेल्या गोटांचा =



दुसऱ्या वेळेस वाटल्या =

बाकी उरलेल्या गोटांचा =



दुसऱ्या वेळेस वाटल्या =

बाकी उरलेल्या गोटांचा =

एकूण गोटांचा =

किती मुलांना गोटांचा वाटल्या =

किती वेळेस समप्रमाणात वाटल्या =

प्रत्येकास किती मिळाले =

15 गोटांचा वाटप केल्यास

समान, प्रत्येकास मिळणाऱ्या गोटांचा

या प्रमाणे भागाकार करा. $15 \div 5 = \text{$

15 ÷ 5 = 3 म्हणजेच एकूण गोटांचा 5 ने भाग दिल्यास आलेले उत्तर 3 म्हणजे प्रत्येक 3 गोटांचा येतील.



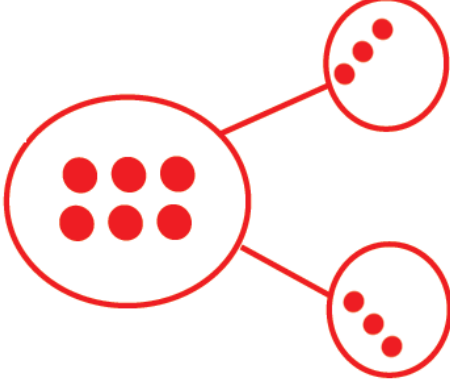
विद्यार्थ्यांना अशा प्रकारे गोटांचा घेऊन समप्रमाणात कसे वाटायचे याची माहिती द्या. त्यांना योग्य उत्तरे चौकटीत लिहावयास सांगा - त्यांना भागाकाराची पद्धतीची माहिती द्या.





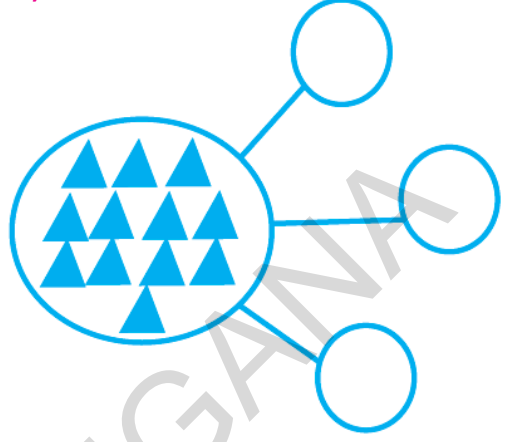
1. खाली कांही चित्रे दिलेली आहेत ती मोजा. भागाकार पद्धतीने करा. उदाहरण दिलेले आहे. रिकाम्या चौकटीत आणि ○ गोलात संख्या लिहा.

उदा:



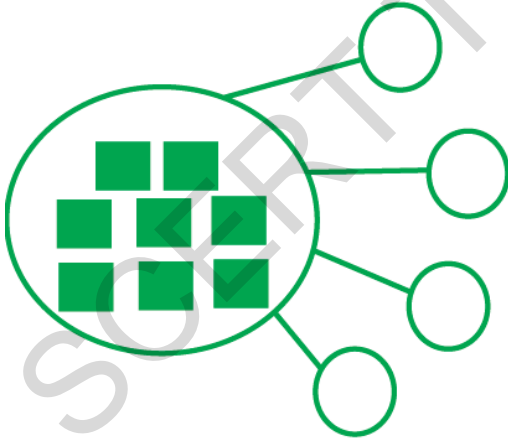
$$\boxed{6} \div \boxed{2} = \boxed{3}$$

अ)



$$\boxed{} \div \boxed{} = \boxed{}$$

आ)



$$\boxed{} \div \boxed{} = \boxed{}$$

इ)



$$\boxed{} \div \boxed{} = \boxed{}$$

विद्यार्थ्यांना प्रत्येक उदाहरण समजावून सांगा आणि त्यांना 1 ते 5 उदाहरणे स्वतः सोडवू द्या.



2. खालील वस्तूंचे समप्रमाणात केलेल्या वाटणीचे भागाकारात रूपांतर करून लिहा.

अ) 18 आंबे 6 जणांना समान वाटा.

एकूण आंबे = 18

पहिल्या वेळेस 6 जणांना = -6

बाकी उरलेले आंबे = 12

दुसऱ्या वेळेस 6 जणांना =

बाकी उरलेले आंबे =

तिसऱ्या वेळेस 6 जणांना =

बाकी उरलेले आंबे =

प्रत्येकांना समप्रमाणात =

भागाकार पद्धतीने ÷ =

भागाकाराचे उत्तर =

आ) 20 गोट्या 5 जणांमध्ये समप्रमाणात वाटा. (भागाकार म्हणजे वजाबाकीची पुनरावृत्ती)

एकूण गोट्या =

पहिल्या वेळेस गोट्या वाटल्या =

बाकी उरलेल्या गोट्या =

दुसऱ्या वेळेस गोट्या वाटल्या =

बाकी उरलेल्या गोट्या =

तिसऱ्या वेळेस गोट्या वाटल्या =

बाकी उरलेल्या गोट्या =

चौथ्या वेळेस गोट्या वाटल्या =

बाकी उरलेल्या गोट्या =

प्रत्येकांना समप्रमाणात वाटल्या =

भागाकार पद्धतीने ÷ =

भागाकार (उत्तर) =



विद्यार्थ्यांना प्रत्येक उदाहरणे समजावून द्या. त्यांना स्वतः उदाहरणे सोडवू द्या.

3. गटामध्ये वाटणी करून भागाकार रूपात लिहा.

उदा: रजनीच्या तीन मैत्रिणी होत्या. तिने प्रत्येकाना किती चॉकलेट द्यावे. तिच्या जवळ एकूण 15 चॉकलेट होते.

एकूण चॉकलेट =

किती जणांना चॉकलेट देण्यात येतील =

प्रत्येक मैत्रिणीस वाटण्यात येतील =

भागाकार पद्धत = ÷ =

केलेल्या भागाकाराचे उत्तर

अ) एका बाकावर 3 विद्यार्थी बसतात. तर 21 विद्यार्थ्यांना बसण्यास किती बाक लागतील.

एकूण विद्यार्थी =

प्रत्येक बाकावर बसणारे =

लागणाऱ्या बाकांची संख्या =

भागाकार पद्धत = ÷ =

भागाकार पद्धतीने येणारे उत्तर?

आ) रामच्याजवळ 48 मेंढ्या होत्या. त्याने आपल्या 4 मुलास समान वाटप करण्यास ठरविले. तर प्रत्येक मुलास किती मेंढ्या मिळतील ?

एकूण मेंढ्यांची संख्या =

मुलांची संख्या =

प्रत्येक मुलास = मेंढ्या मिळतील

भागाकार पद्धत = ÷ =

भागाकार पद्धतीने उत्तर



विद्यार्थ्यांना प्रत्येक उदाहरण करताना सूचना द्या आणि त्यांना स्वतः उदाहरण सोडण्यासाठी सांगा.

4. खालील तक्ता पहा. रिकाम्या चौकटीत योग्य संख्या लिहावयास सांगा. प्रत्येकाची भागाकार पध्दत लिहा.

वाटणाऱ्या वह्यांची संख्या	वह्या घेण्याऱ्या विद्यार्थ्यांची संख्या	प्रत्येक विद्यार्थीला मिळालेल्या वह्यांची संख्या	भागाकार पध्दत
उदा: 8	2	4	$8 \div 2 = 4$
12			
15			
18			
42			

5. खालील भागाकाराच्या जोड्या जुळवा

उदाहरण

21 ÷ 7

36 ÷ 6

45 ÷ 9

35 ÷ 5

6

5

7

3



विद्यार्थ्यांना प्रत्येक उदाहरण सूचित करा. त्यांना स्वतः सोडावयास सांगा.

13 वस्तुंची लांबी



1. खालील चित्रे पहा. फुलांचे हार कसे मोजतात ते सांगा.




- ☆ फुलांचा हार कशापद्धतीने मोजत होते ?
- ☆ प्रत्येकांचा मोजताना फरक का येत होता ?
- ☆ तिधांपैकी कोणाचे फुट जास्त आहे ?
- ☆ तिधांपैकी कोणाचे फुट कमी आहे ?
- ☆ तुम्ही खेळताना कोणत्या लांबीच्या मापनाचा उपयोग करता.

विद्यार्थ्यांना वरील चित्रांचे निरीक्षण करावयास सांगा. त्यांना कळू द्या की अयोग्य मापनाने काय परिणाम होतात. त्यांना समजावून सांगा की प्रत्येक लोकांच्या लांबीचे मापन वेगवेगळे का येते.



2. खालील चित्रे पहा. खालील प्रश्नांची उत्तरे द्या:



1. टेबल कोणत्या मापनाने मोजत आहेत ?
2. गोट्यामधील अंतर कशाचे मोजत आहेत ?
3. फुलांचा हार कोणत्या मापनाने मोजत आहेत ?
4. विटी दांडूच्या खेळात कशाचे मोजत आहेत ?
5. दोरीला कोणत्या मापनाने मोजत आहेत ?
6. रवोलीची लांबी कशाच्या सहाय्याने मोजत आहेत ?

मुलांना चित्राचे निरीक्षण करू द्या त्यांना आपापसात चर्चा करू द्या की अयोग्य मापन असल्यावर काय चूक होते. लांबी मोजण्यासाठी कोणते अयोग्य मापन उपयोगात आणले जाते - घ्या वर त्यांना चर्चा करू द्या.





1. मोजा आणि लिहा:

अनुक्र मणिका	विद्यार्थ्यांचे नाव	वापरणाऱ्या काठीचे अंदाजे मापन		
		चार बोटांचा माप	वितीचे माप	काठीचे माप
1.				
2.				
3.				
4.				
5.				

2. पहिले अंदाज करून माप लिहा:-

अनुक्र मणिका	वस्तू	काठीचे मोजलेले माप	प्रत्यक्ष काठीने मोजलेले माप
1.	फळा		
2.	टेबल		
3.	वर्गाची लांबी		
4.			
5.			



विद्यार्थ्यांना प्रत्येक उदाहरणातील उपकरणाची माहिती द्या. त्यांना स्वतः उदाहरणे सोडावयास सांगा त्यांच्याकडून सराव करून घ्या.

14 वस्तूचे वजन



चित्रांकडे बघा. गोष्टीचे कथन करा.

रोज मीठाचे ओझे वाहत
मी मरत आहे



पाऊस खूप पडत आहे.
नदी पाण्याने भरून वाहत
आहे.

ओह ! आता माझे वजन
हलके वाटत आहे. रोज
मी असाच पाण्यामधून
जाईल.



हा, हा, हा !



हे काय ? हा गाढव रोज
पाण्यामधून जात आहे.
कापसाची पोती पून्हा ह्याच्या
पाठीवर ठेवून मी ह्याला धडा
शिकवेन.

अरे देवा ! आज
माझे वजन का
वाढलेले आहे ?
उद्यापासून मी पून्हा
पाण्यामधून जाणार
नाही.



धडा मिळाला



तुमच्या विद्यार्थ्यांना वरील गोष्टीवरून वजनाची संकल्पना समजवा.



प्रश्नसंग्रह

1. प्रत्येक चौकटीमधील दोन वस्तूंच्या वजनाचे अनुमान करा. जड वस्तूजवळ रिकाम्या चौकटीमध्ये '✓' करा.

अ)





आ)






इ)







2. एकत्रीत दिलेल्या दोन वस्तूंच्या वजनाचे अनुमान करा. हलक्या वस्तूच्या रिकाम्या चौकटीमध्ये '✓' करा.


क)







क)







क)





क)







तूमच्या विद्यार्थ्यांना प्रत्येक प्रश्नाचे सुचना समजवा. प्रश्नसंग्रह 1 ते 3 त्यांना सोडवू द्या.

3. खाली दिलेल्या वस्तूंना त्यांच्या वाढत्या वजनानुसार 1 ते 4 क्रमांक द्या. खाली एक उदाहरण दिलेले आहे.

उदा:



2





3



4

अ)









आ)









4. जास्त वजन असलेल्या मूलीच्या रिकाम्या चौकटीमध्ये '✓' करा.



तूमच्या विद्यार्थ्यांना प्रत्येक प्रश्नाचे सुचना समजवा त्यांना उदाहरणे सोडवू द्या.

15 द्रव पदार्थाचे मापन



1. खाली दिलेल्या चित्राकडे बघा. कोणत्या भांड्याचा उपयोग दूध मोजण्यासाठी करतात ते सांग.

रोज रवी, राजू आणि रमाला 3 निरनिराळ्या लोकांपासून 2 लिटर दूध मिळते.

रवीच्या घरामध्ये रंगम्मा 4
ग्लास भरून दूध घालते.



राजूच्या घरामध्ये वनजाम्मा गवळीन 2
मगभरून दूध घालते.



रमालाच्या घरामध्ये हुसेन गवळी 8 छोटे
ग्लासभरून दूध घालतो



तिन्ही मूलांना त्यांना मिळत असलेल्या
दूधाबद्दल शंका आहे. कोण अचूक दूध
घालत आहे ?

तूमच्या विद्यार्थ्यांना वरील चित्राचे निरीक्षण करण्यास सांगा. परिमाण नसलेले मापन जसे ग्लास, मग इ. चा उपयोग दूध मोजण्यासाठी कसा करतात ह्याची चर्चा त्यांच्याबरोबर करा.



2. हा खेळ खेळा.



- ☆ हा खेळ दोन विद्यार्थी खेळू शकतात.
- ☆ पाण्याने भरलेली मोठी बादली घ्या. छोटी बादली, जग आणि मग सुद्धा घ्या.
- ☆ प्रथम एक विद्यार्थी जग घेऊन. त्यामध्ये मोठ्या बादलीमधून पाणी घेऊन ते पाणी छोट्या बादलीमध्ये टाका.
- ☆ दुसरा विद्यार्थी सुद्धा पाणी मगच्या सहाय्याने घेऊन ते पाणी छोट्या बादलीमध्ये टाकेल.
- ☆ अशाप्रकारे एकामागे एक विद्यार्थी पाणी टाकतील.
- ☆ लहान बादली भरेपर्यंत हा खेळ चालू ठेवा.
- ☆ ज्या विद्यार्थ्यांच्या जगच्या / मगच्या पाण्याच्या सहाय्याने लहान बादली भरेल तो जिंकेल.


तूमच्या विद्यार्थ्यांना खेळासाठी दिलेल्या सुचनेनुसार खेळ खेळण्यास सांगा. बादली भरण्यासाठी मोजण्याच्या भांड्याचे त्यांना अनुमान करू द्या. चर्चा करण्यासाठी त्यांना मदत करा.





प्रश्नसंग्रह

1. खाली दिलेल्या बादलीपेक्षा कमी पाण्याच्या क्षमतेच्या बादलीचे चित्र रिकाम्या चौकटीमध्ये काढा.



2. खाली दिलेल्या ग्लासपेक्षा जास्त पाण्याची क्षमता असलेल्या ग्लासचे चित्र काढा.



3. खाली दिलेल्या प्रत्येक भांड्याला त्यांच्यामध्ये असलेल्या पाण्याच्या क्षमतेनुसार क्रमांक द्या.



बादली



घागर



जग



मग



ग्लास



प्रत्येक उदाहरणासाठी दिलेल्या सुचना तूमच्या विद्यार्थ्यांना समजवा. त्यांना उदाहरणे सोडवू द्या.

1. प्रत्येक भांड्यामध्ये किती पाणी आहे ते सांगा. मोजून शोधण्याचा प्रयत्न करा.



मध्ये किती



पाणी ओतावे लागेल ? अनुमान करा. मोजा आणि शोधण्याचा

करा.



मध्ये किती



पाणी ओतावे लागेल ? अनुमान करा. मोजा आणि शोधण्याचा

प्रयत्न करा.



मध्ये किती



पाणी ओतावे लागेल ? अनुमान करा. मोजा आणि शोधण्याचा

प्रयत्न करा.

वर दिलेल्या कृतीच्या आधारे खाली दिलेला रिकामा तक्ता भरा.
कोणाचे अनुमान अचूक आहे ते सांगा.

अनुक्रमांक	वरील कृती करणाच्या तूमच्या मित्राचे नाव	अनुमान केलेले मापन	खरे मापन	अनुमान केलेले अचूक आहे/चूक आहे
1.				
2.				
3.				
4.				



तूमच्या विद्यार्थ्यांना वरील प्रत्येक उदाहरणासाठी दिलेल्या सुचना समजावून सांगा. त्यांना उदाहरणे सोडवू द्या.

16 वेळ



1. चित्राकडे बघा - कोणत्या वेळेस तूम्ही कोणती क्रिया करतात ते सांगा.

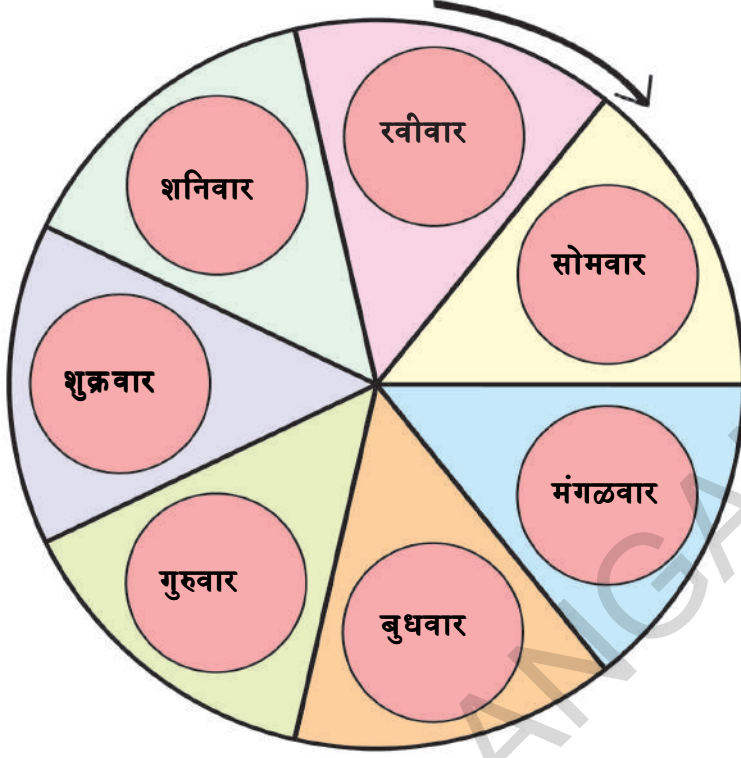


- ☆ तुम्ही सकाळी कोणती क्रिया करतात ?
- ☆ तुम्ही दूपारी कोणती क्रिया करतात ?
- ☆ तुम्ही संध्याकाळी कोणती क्रिया करतात ?

तुमच्या विद्यार्थ्यांना वरील चित्राचे निरीक्षण करण्यास सांगा. सकाळपासून संध्याकाळपर्यंत ते काय करतात ह्याची त्यांना चर्चा करू द्या. त्यांना वेळेची संकल्पना समजण्यासाठी तुम्ही मदत करा.



2. खाली चित्रामध्ये दिलेल्या आठवड्याच्या दिवसांच्या नावांकडे बघा.



अ) रविवार नंतर कोणता दिवस आहे ?

आ) सोमवार आणि बुधवार मध्ये कोणता दिवस आहे ?

इ) शनिवार नंतर कोणता दिवस आहे ?

ई) रविवार नंतर शुक्रवार कधी येतो ?

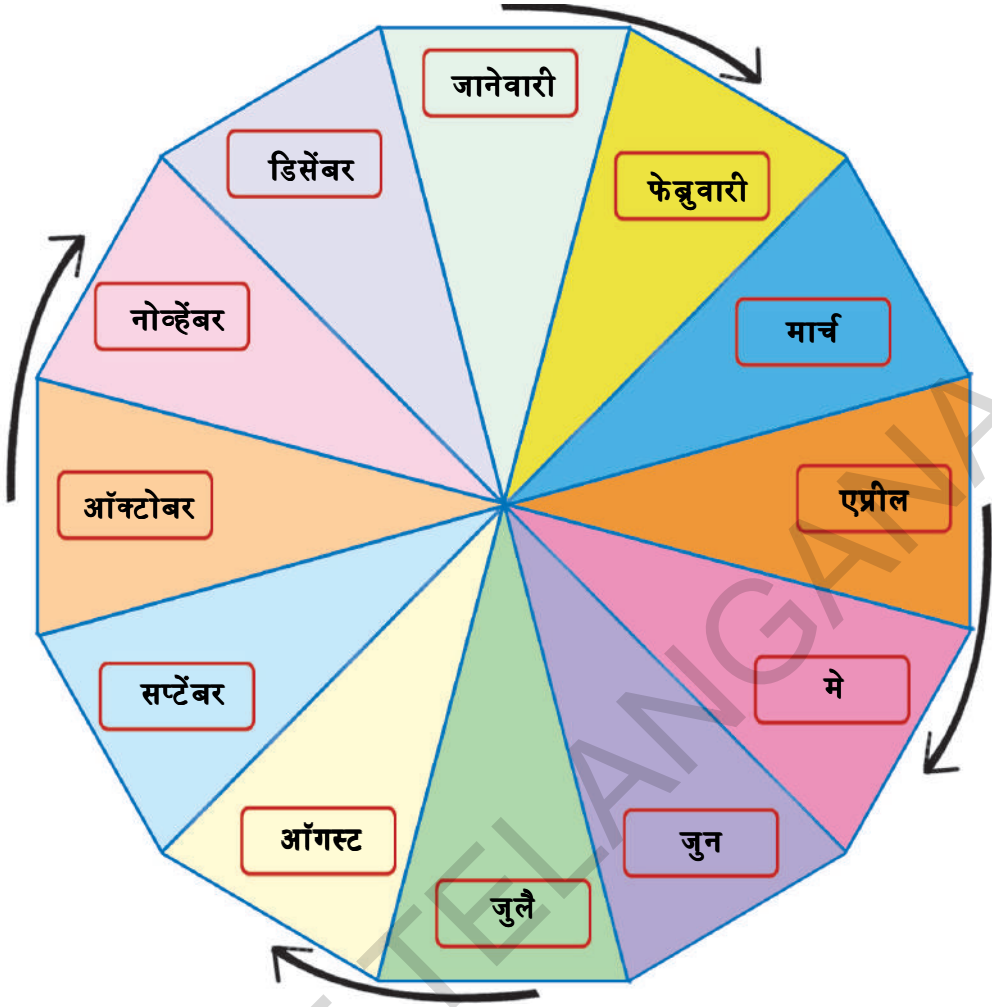
उ) सोमवार ते रविवार पर्यंत किती दिवस आहे ?

ऊ) आठवड्यामध्ये किती दिवस आहेत ?



तूमच्या विद्यार्थ्यांना वरील चित्राचे निरीक्षण करण्यास सांगा. आठवड्यामधील दिवसाच्या संख्यांची त्यांना चर्चा करू द्या.

3. खाली दिलेल्या चित्रामधील महिन्यांकडे बघा.



आता खाली दिलेल्या प्रश्नांची उत्तर लिहा.

अ) जानेवारीनंतर कोणता महिना येतो ?

आ) एप्रिल आणि जून मध्ये कोणता महिना आहे ?

इ) जुलै नंतर कोणता महिना येतो ?

ई) सप्टेंबर नंतर किती महिन्यांनंतर डिसेंबर येतो ?

उ) चित्रामध्ये एकूण किती महिने आहेत ?

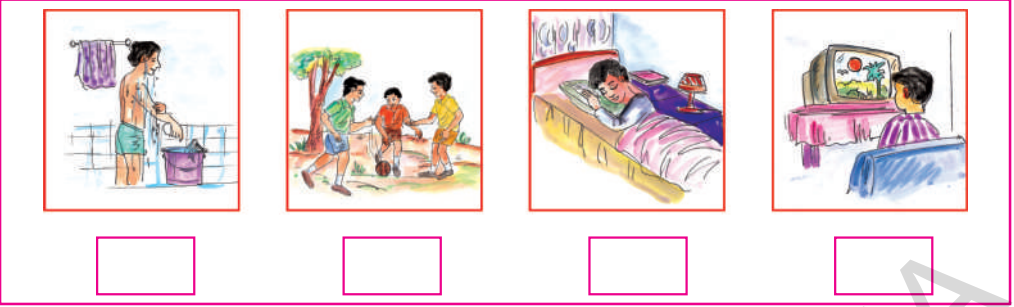


तूमच्या विद्यार्थ्यांना वरील चित्राचे निरीक्षण करण्यास सांगा. वर्षामधील महिन्यांच्या संख्यांची त्यांना चर्चा करू द्या.

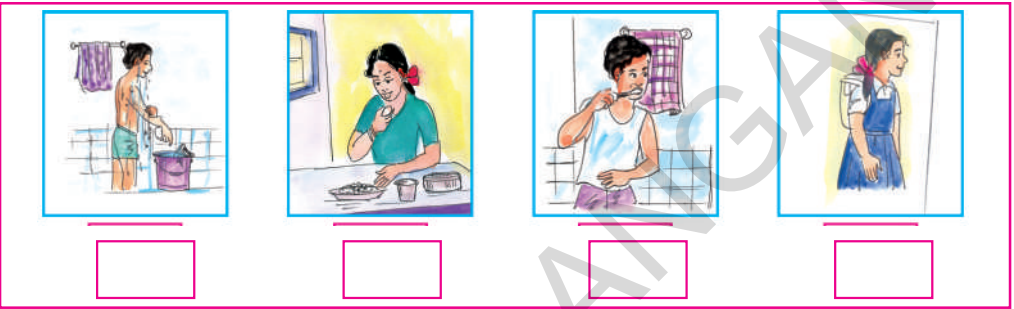


प्रश्नसंग्रह


1. सुट्टीच्या दिवशी तूम्ही कोणत्या क्रियेमध्ये जास्त वेळ घालावितात ? त्या क्रियेला '✓' करा.




2. कोणत्या वेळेस तूम्ही काय करतात हे खाली दिलेल्या कृतीनुसार क्रमामध्ये लिहा.



3. कोणत्या क्रियेला जास्त वेळ लागतो ? ज्या क्रियाला जास्त वेळ लागतो त्या क्रियेला '✓' करा.



4. जे वाहन जलद जाते त्या वाहनाला '✓' करा.



तूमच्या विद्यार्थ्यांना प्रत्येक उदाहरणाच्या सुचना समजण्यास मदत करा. त्यांना उदाहरणे सोडवू द्या.

17 पैसे



1. खाली दिलेल्या नोट आणि नाण्यांकडे बघा. प्रत्येकाची किंमत सांगा.



तुमच्या विद्यार्थ्यांना नोट आणि नाण्यांचे निरीक्षण करण्यास सांगा. ते त्यांना ओळखू द्या. त्यांना प्रत्येकाची किंमत ओळखण्यास सांगा.

2. खाली दिलेल्या नाण्यांकडे बघा. किती प्रकारे मोड देऊ शकतो ते सांगा.



तूमच्या विद्यार्थ्यांना वर दिलेल्या नाण्यांचे निरीक्षण करण्यास सांगा. मोठी किंमत असलेल्या नाण्यांचे आपण किती प्रकारे मोड देऊ शकतो ह्याची त्यांच्याबरोबर चर्चा करा.

3. खाली दिलेल्या नाणी आणि नोटकडे बघा. किती प्रकारे आपण मोड देऊ शकतो ते सांगा.



तूमच्या विद्यार्थ्यांना नोट आणि जाण्यांचे निरीक्षण करण्यास सांगा. मोठी किंमत असलेल्या नोटचे आपण किती प्रकारे मोड देऊ शकतो हाचे त्यांच्याबरोबर चर्चा करा.





कृती

1. खालील नाण्यांकडे बघा आणि त्यांची किंमत दिलेल्या रिकाम्या चौकटीमध्ये लिहा.

अ)  +  = रुपये

आ)  +  = रुपये

इ)  +  = रुपये

ई)  +  = रुपये

2. खाली दिलेल्या वस्तूंचे किंमत बघा. किंमतला अनुसरून नाण्यांचे किंमत लिहा.

उदा:



उदाहरण पहा

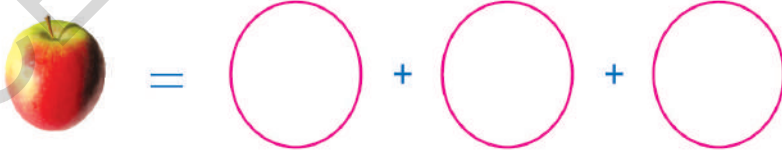
रु.6

अ)



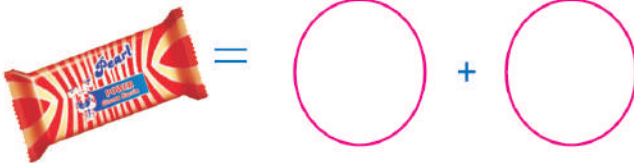
रु.8

आ)



रु.9

इ)




रु.10



तूमच्या विद्यार्थ्यांना वरील कृती करण्यासाठी दिलेल्या सुचना समजावून सांगा. कृती त्यांना कर द्या.



1. खालील चित्र पहा.



खालील प्रश्नांचे तोंडी उत्तर द्या :

अ) झेंड्याचा व फलकाचा आकार सारखा आहे का?

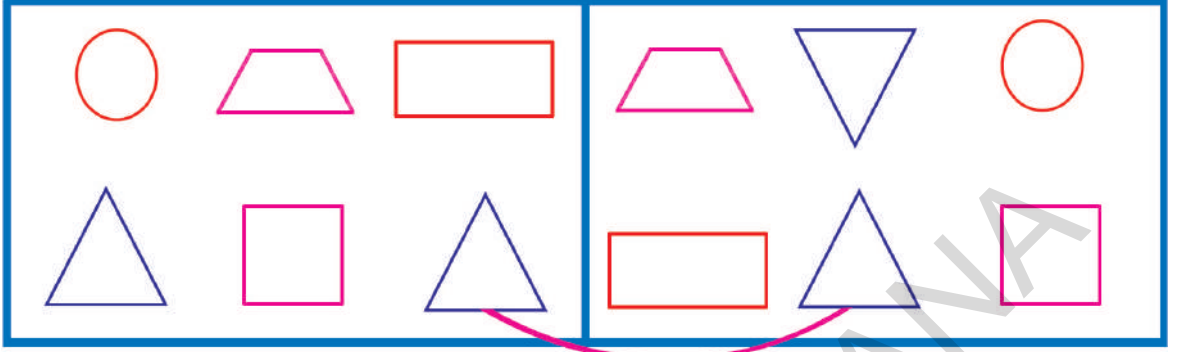
आ) ह्यासारखा आकार असणाऱ्या दुसऱ्या वस्तूंची (शाळेतील व शाळेबाहेरील) नावे सांगा.



विद्यार्थ्यांना वरील चित्राचे निरीक्षण करू द्या. त्यांना वस्तूंच्या आकाराबद्दल चर्चा करू द्या.

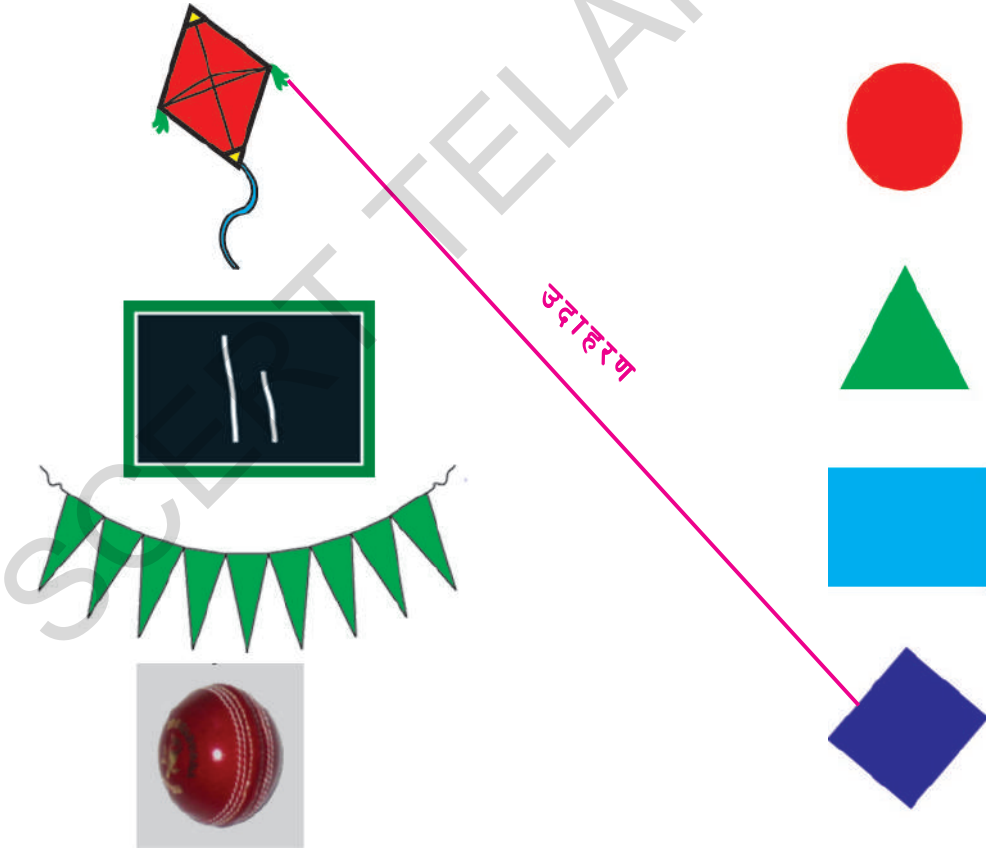


1. सारखा आकार असणाऱ्या आकृत्यांच्या जोड्या जुळवा उदाहरण पहा.



उदाहरण

2. डावीकडील वस्तूंच्या उजवीकडील त्यांच्या आकारा बरोबर जोड्या जुळवा.




उदाहरण



विद्यार्थ्यांना प्रत्येक उदाहरणासाठी असलेल्या सूचना समजवा 1 ते 7 उदाहरणे त्यांना स्वतःला सोडविण्यास सांगा.


प्रत्येक ओळीतील तीन वस्तुंचे निरीक्षण करा.

3. खाली दिलेल्या चित्रामधील वेगळा आकार असलेल्या चित्राला ओळखा.



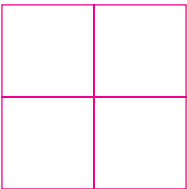
4. खाली दिलेल्या चित्रामधील आकाराला ओळखून ते मोजून लिहा.

अ)



एकूण किती  आहेत ? _____

आ)
















एकूण किती  आहेत ? _____



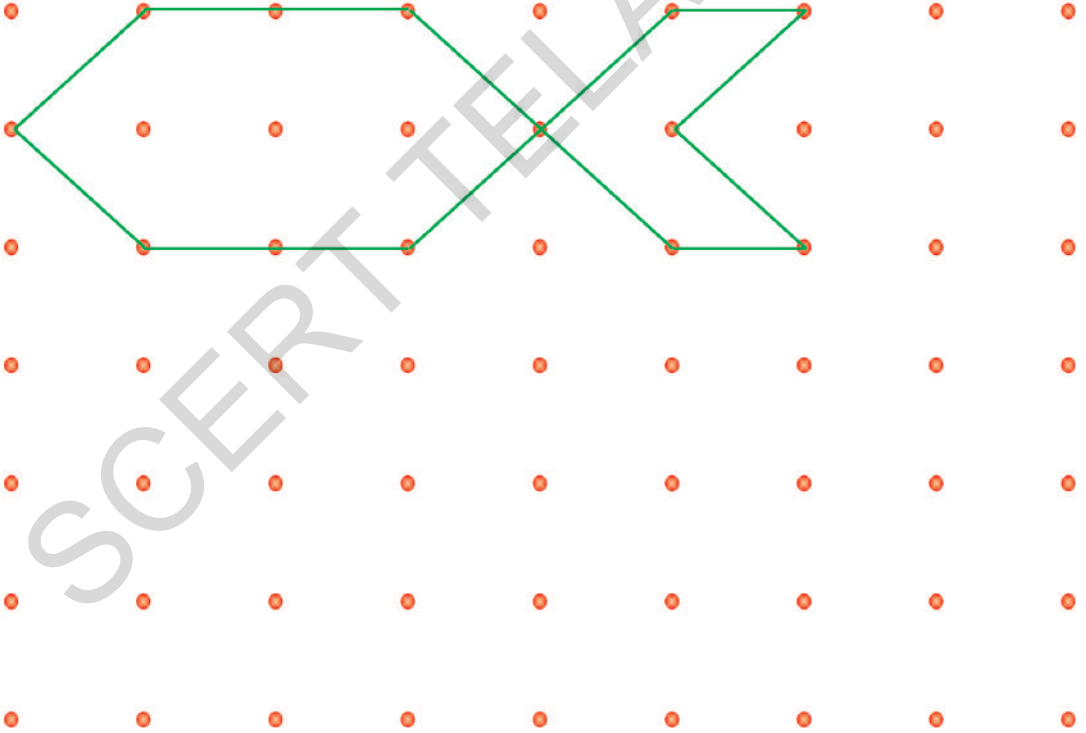
विद्यार्थ्यांना उदाहरणासाठी दिलेल्या सूचना समजवून सांगा. उदाहरण त्यांना सोडवू द्या.

5. खाली दिलेल्या रिकाम्या चौकटीमधील आकृती काढा.

उदा:

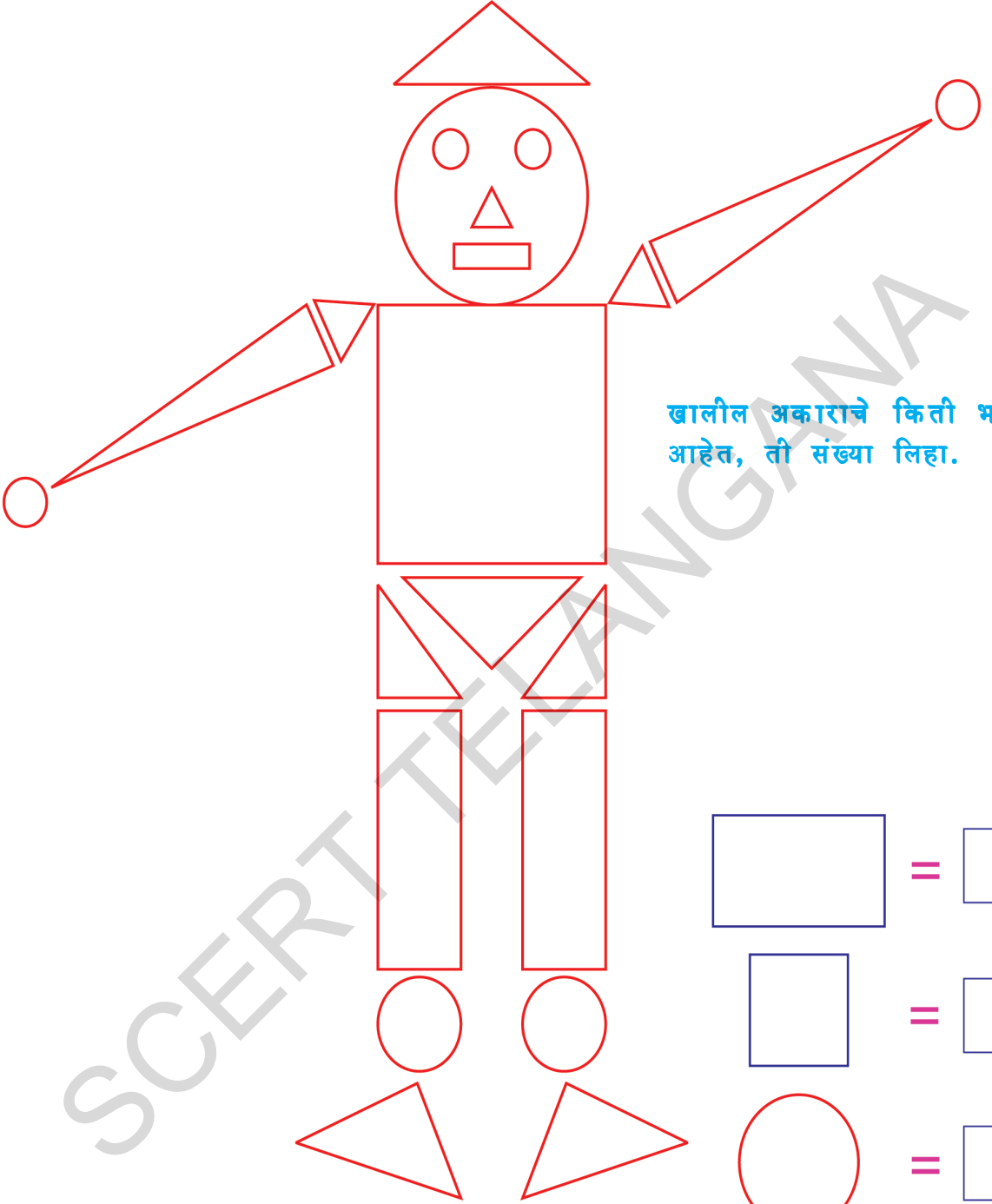
अ)				
आ)				
इ)				
ई)				

6. खाली दिलेल्या टिंबांना जोडून आकार काढा. तुमच्यासाठी एक करून देण्यात आले आहे.

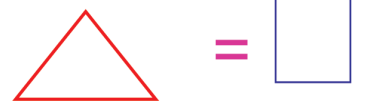

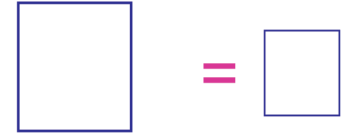



विद्यार्थ्यांना उदाहरणासाठी दिलेल्या सुचना समजवून सांगा. उदाहरण त्यांना सोडवू द्या.

7. खाली दिलेल्या चित्राला बघा. एकाच प्रकारच्या आकाराला समान रंगाने रंगवा. एकाच प्रकारचे आकार किती आहेत ते मोजून रिकाम्या चौकटीमध्ये लिहा.



खालील अकाराचे किती भाग आहेत, ती संख्या लिहा.



विद्यार्थ्यांना उदाहरणासाठी दिलेल्या सुचना समजवून सांगा. उदाहरण त्यांना सोडवू द्या.

19 नोंद करा



1. फुलांचे रंग पहा.




















प्रत्येक रंगाचे फुल किती आहेत, ती संख्या खालील तक्त्यात लिहा.




फुलाचा रंग	संख्या
लाल	9
पिवळा	
पांढरा	



विद्यार्थ्यांना फुलांच्या रंगाचे निरीक्षण करू द्या. त्यांना प्रत्येक रंगाची फुले किती आहेत ते मोजू द्या. त्यांना दिलेल्या तक्त्यात योग्य संख्येची नोंद करावयास सांगा.

2. खाली दिलेल्या तक्त्यातील चित्र पहा.

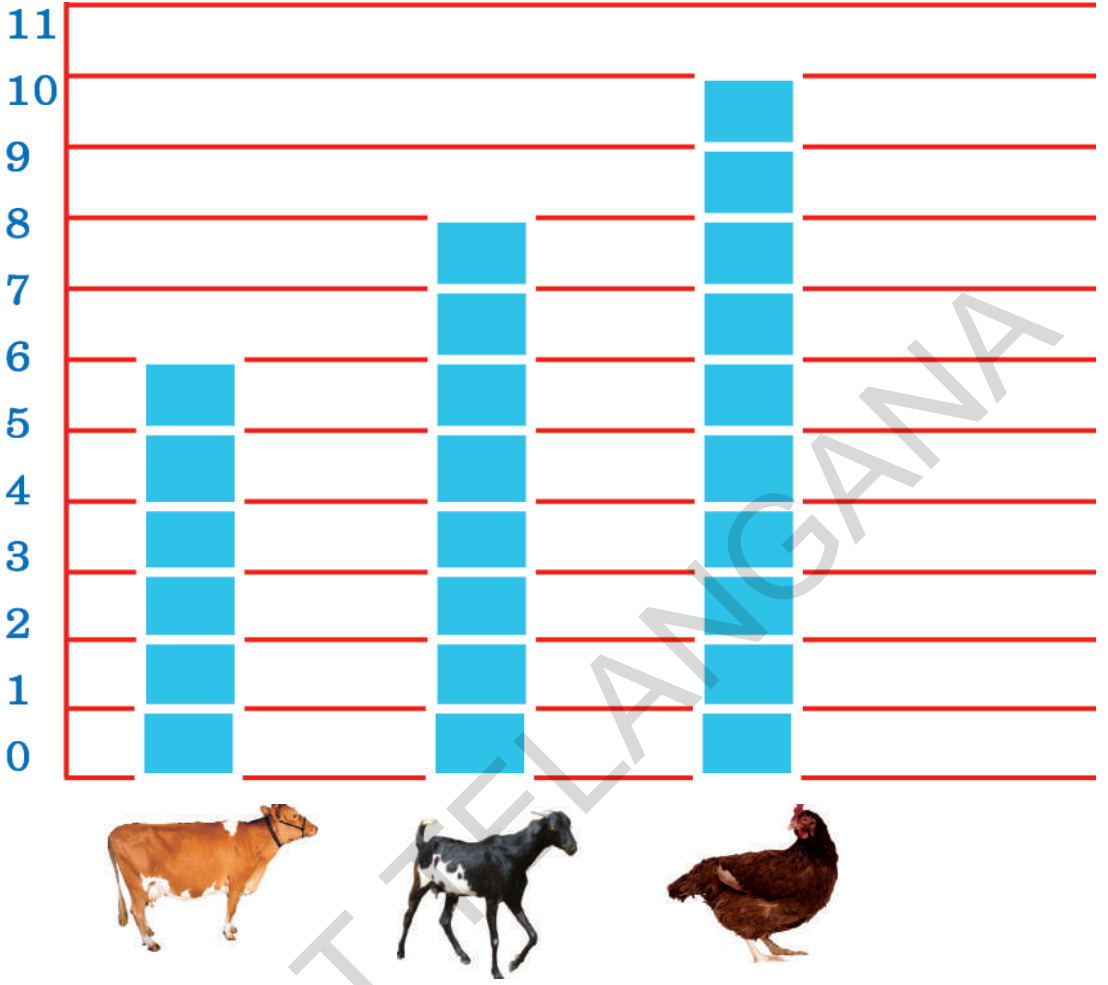
6						
5						
4						
3						
2						
1						
0						

प्रत्येक प्रकारचे फळ मोजा	तक्त्यात संख्येची नोंद करा
फळ	त्याची संख्या
	
	
	
	



विद्यार्थ्यांना फळांच्या तक्त्याचे निरीक्षण करू द्या. त्याने प्रत्येक प्रकारचे फळ मोजू द्या. त्यांना दिलेल्या तक्त्यात योग्य संख्येची नोंद करावयास सांगा.

3. रामय्या कडे असणाऱ्या गाई, बकऱ्या, कोंबड्यांचा तपशील चित्राच्या रूपात दिलेला आहे. त्यांची संख्या मोजा.



आता खाली दिलेल्या तक्त्यात संख्येची नोंद करा. रामय्याच्या शेतातील जनावरे खालीलप्रमाणे.

प्राणी	संख्या
	
	
	




विद्यार्थ्यांना चित्राचे निरीक्षण करू द्या. त्यांना जनावरांची संख्या मोजून त्यांची नोंद तक्त्या करावयास सांगा.



प्रश्नसंग्रह

चित्र पहा. तुम्हाला दिसणारी प्रत्येक वस्तू मोजा. त्यांचा तपशील खाली दिलेल्या तक्त्यात लिहा.



उदा:

वस्तू	संख्या
गाय	5



विद्यार्थ्यांना उदाहरणासाठी दिलेल्या सूचना समजून सांगा. उदाहरण त्यांना स्वतःला सोडवू द्या.